

策划统筹：杨卫平  
责任编辑：彭钺嶠 李培超  
责任校对：唐年华  
装帧设计：殷建华

KEHOU LIANXI YU PINGJIA  
KECHENG BIAOZHUN TONGBU LIANXI  
DILI QI NIANJI XIACE



课后练习与评价

课后练习与评价

课程标准同步练习

地理

七年级 下册

课后练习与评价·课程标准同步练习

地理  
七年级  
下册

课程标准

同步练习

地 理

七 年 级 下 册



答案解析 资源助学



定价：6.59 元

审批号：湘发改价费〔2017〕343 号

湖南师范大学出版社



# 地 理

七 年 级 下 册



---

### 图书在版编目(CIP)数据

课后练习与评价. 课程标准同步练习. 地理. 七年级. 下册 / 华语教育组编. —长沙: 湖南师范大学出版社, 2014.12 (2022.12 重印)

ISBN 978-7-5648-2028-2

I. ①课… II. ①华… III. ①中学地理课—初中—习题集 IV. ①G634

中国版本图书馆 CIP 数据核字(2015)第 017248 号

---

### 课后练习与评价·课程标准同步练习

地理 七年级 下册

华语教育 组编

---

- ◇策划统筹: 杨卫平
  - ◇责任编辑: 彭镆嵘 李培超
  - ◇责任校对: 唐年华
  - ◇装帧设计: 殷建华
  - ◇出版发行: 湖南师范大学出版社  
地址/长沙市岳麓山  
邮编/410081  
电话/0731-88872751
  - ◇地图编制: 湖南地图出版社
  - ◇经销: 各地新华书店
  - ◇印刷: 湖南版艺印刷有限公司
  - ◇开本: 787 mm × 1092 mm 1/16
  - ◇印张: 5.5
  - ◇字数: 106 千字
  - ◇版次: 2014 年 12 月第 1 版
  - ◇印次: 2022 年 12 月第 9 次印刷
  - ◇书号: ISBN 978-7-5648-2028-2
  - ◇审图号: GS(2018)500 号
  - ◇定价: 6.59 元
- 

客服电话: 0731-85515368  
微信号: hunanhuayujiaoyu

联系人: 蒋老师  
邮箱: 2138195118@qq.com

# 编写说明

全面实施基础教育课程改革以来,如何编写有利于落实课标要求、实现学练结合的助学练习用书众所关心。经过广泛调研和可行性分析,并充分听取有关教学教研专家的意见和建议,我们探索确立了依据课程标准并紧扣教学实际要求编写助学练习用书的思路。按此思路,本用书体现了如下特色。

**一、突出学生发展为本,适应新的课程观、学习观。**用书突显以学生发展为本,强化自主助学功能,根据课标给定的知识要点并结合学科教学实际,分主题、专题或单元精心编排训练内容,针对“怎么学”设计“怎么练”,从学生需要出发创设体例结构和栏目内容,通过对知识点的演练,主题(专题、单元)内容的整合及选练内容的增设,充分发挥学生的主体性,引导学生适应课标要求,促进自主成长,彰显全新的课程观和学习观。

**二、着眼学生素养训练,准确把握出发点、落脚点。**用书力求依据课标对知识点的学习要求,以能力发展为主线,从具体的“课标导向”出发,在合理控制练习时量的前提下优化练习内容,着重帮助学生及时巩固和消化基础知识,同时注意知识与技能、过程与方法以及情感态度与价值观三个维度的有机融合,引导学生知能拓展,实现对所学知识的融会贯通、迁移整合和基本技能的逐步提升,进而落脚于学生综合素养的提高。

**三、满足学生多样需求,充分体现亲和力、实用性。**用书注意避免题海式训练和说教式表达,精编练习内容,并适量植入活动、案例、情景等,同时力求版式设计紧凑而富于变化,使用书增强新鲜感和亲和力。为求实用,本书做到:优化梯度设置,结合学情分层设置基础题、能力题和拓展题,强化“双基”的同时,适当设计探究题,以激发学生兴趣;精选新颖素材,注意结合学科特点并联系社会生活实际,保持练习素材气息鲜活;科学控制容量,根据教学实际对练习题量进行合理划分与控制,以切实减轻学生学业负担;发挥评价作用,适量配置自我评价,便于学生及时学习总结,促进自我提高。

新课标教辅用书的编写具有很强的探索性和实践性。在长沙市教育学会有关专家的精心组织 and 一线教学教研人员的具体参与下,本用书尽最大努力地适应了课程改革的需要,配合了课程教学的有效开展,在此深表谢意。需要说明的是,编写过程中我们适当参考或引用了相关作品的某些内容,因暂时无法联系或难以及时与相关出版单位逐一对接核实作品权属,对于应当支付报酬的,敬请相关出版单位和作者随时与我们联系(邮箱:mikeywp@126.com 2138195118@qq.com 电话:0731-85515368),以便我们妥善处理。热忱期盼广大师生结合使用实际提出宝贵意见和优化建议,以便我们进一步修订完善。

编者  
2022年12月



# 目录

## CONTENTS

<b>第六章 认识大洲</b>	01
一、课标导向	01
二、同步导练	02
课时练习 1 亚洲及欧洲的位置与范围、地形特征	02
课时练习 2 亚洲及欧洲的气候和河流	05
课时练习 3 亚洲及欧洲的人口与国家、换算时间	08
课时练习 4 非洲的位置、国家和地形	11
课时练习 5 非洲的气候、河流、资源和经济	14
课时练习 6 美洲的位置和地形	17
课时练习 7 美洲的气候、河流、居民与经济	20
三、自我评价	23
<b>第七章 了解地区</b>	25
一、课标导向	25
二、同步导练	26
课时练习 8 中南半岛与马来群岛、马六甲海峡	26
课时练习 9 东南亚的物产和人文	29
课时练习 10 南亚的位置、国家、地形和河流	32
课时练习 11 南亚的气候与农业、宗教与社会、人口与经济	34
课时练习 12 五海三洲之地和干旱环境中的农牧业	37
课时练习 13 阿拉伯国家与世界石油宝库	40
课时练习 14 欧洲西部	43
课时练习 15 北极地区和南极地区	46
三、自我评价	49
<b>第八章 走近国家</b>	51
一、课标导向	51
二、同步导练	52
课时练习 16 日本的自然环境特征	52
课时练习 17 日本的经济与人文	55
课时练习 18 埃及	58
课时练习 19 俄罗斯的地理位置、自然环境与自然资源	61
课时练习 20 俄罗斯的经济、人口与城市	64
课时练习 21 法国	67
课时练习 22 美国的地理位置、自然环境、人口与城市	70
课时练习 23 美国高度发达的经济	73
课时练习 24 巴西	76
课时练习 25 澳大利亚	79
三、自我评价	83



## 第六章 认识大洲

### 一、课标导向

#### 学习目标

1. 运用地图等资料简述某大洲的纬度位置和海陆位置。
2. 运用地图和其他资料归纳某大洲的地形、气候、水系的特点,简要分析其相互关系。
3. 运用有关资料说出某一大洲存在的人口、环境、发展等问题。
4. 通过实例说明某一大洲内部的经济发展水平是不平衡的。

#### 知识概览

1. 能运用地图描述亚洲、欧洲、非洲、北美洲和南美洲的纬度位置和海陆位置。在地图上找出苏伊士运河和巴拿马运河,并说出其交通地位。了解穿过白令海峡(北冰洋与太平洋之间的唯一通道)的“三线”。
2. 通过对亚洲、欧洲、非洲、北美洲和南美洲的地形图的判读,了解各大洲的地形特征和海陆轮廓特征,掌握分析地形特征的方法,记住各大洲地形的世界之最和主要地形区及分布。
3. 运用地图和气候资料归纳亚洲、欧洲、非洲、北美洲和南美洲的气候特征,学会读各种气候图,并掌握气候特征的分析方法。知道亚洲季风气候、欧洲温带海洋性气候形成的主要原因,了解非洲的气候类型及分布特征,学会分析南、北美洲地形对气候的影响。
4. 了解各大洲的主要河流及湖泊,分析各大洲的河流特征及与地形、气候的关系。对比分析尼罗河和刚果河的水文特征。
5. 运用材料,结合人口分布图,说出亚洲和欧洲的人口特征、人口问题,分析亚洲人口分布与自然环境之间的关系;了解非洲人种的分布,运用资料分析非洲存在着严重的人口、粮食、环境等问题;掌握拉丁美洲的概念,了解美洲居民的组成和语言。
6. 从矿产、动植物资源等方面掌握非洲富饶的物产。通过时事材料,说明美洲内部经济发展水平的不平衡以及不同国家间主要经济部门的差异。
7. 学会换算不同地点的时间。



## 二、同步导练

### 课时练习1 亚洲及欧洲的位置与范围、地形特征

#### 课前导学

梳理基础 掌握技巧

#### 一、自主学习

1. 亚洲的位置与范围:亚洲主要位于\_\_\_\_\_半球和东半球。①从纬度位置看,亚洲北部深入\_\_\_\_\_内,南部延伸到赤道以南。②从海陆位置看,北、东、南三面分别濒临\_\_\_\_\_洋、\_\_\_\_\_洋和印度洋,西与\_\_\_\_\_洲相连,西南与非洲相连,东隔\_\_\_\_\_海峡与北美洲相望。

2. 欧洲的位置与范围:主要位于\_\_\_\_\_带,小部分位于北寒带,没有热带;北、西、南三面分别濒临\_\_\_\_\_洋、\_\_\_\_\_洋和地中海,东与亚洲相连。

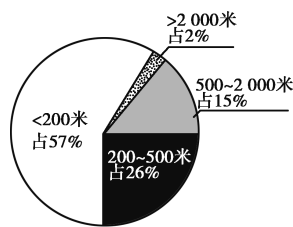
3. 亚洲的地形特征:①以\_\_\_\_\_为主,平均海拔高;②地面起伏大,高低悬殊;③地势\_\_\_\_\_高,\_\_\_\_\_低。此外,大陆\_\_\_\_\_和东南侧有世界上规模最大、最典型的呈弧形排列的群岛。

4. 欧洲的地形特征:①以\_\_\_\_\_为主(欧洲是平均海拔最低的大洲);

②地面起伏小,山地主要分布在南、北两侧,中部主要为\_\_\_\_\_;③\_\_\_\_\_对地形作用明显;④海岸线\_\_\_\_\_,多半岛、岛屿、内海、海湾。

#### 二、典例解析

右图所示为某大洲不同海拔地形区所占的比例,据图回答1~2题。



1. 该大洲的地形以 ( )

- A. 高原为主 B. 山地为主  
C. 丘陵为主 D. 平原为主

2. 该大洲最有可能是 ( )

- A. 欧洲 B. 北美洲  
C. 非洲 D. 南美洲

**【解析】**从图中可以看出,该大洲海拔200米以下的地形区占57%,以平原为主。以平原为主的大洲是欧洲;北美洲地形分南北三大纵列带;非洲地形以高原为主;南美洲西部为高大的山系,东部平原与高原相间分布。

**【答案】**1. D 2. A

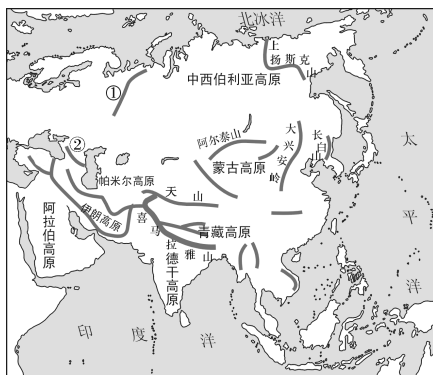


课堂导练

稳打稳扎 夯实基础

1. 亚洲与北美洲的分界线是 ( )  
A. 马六甲海峡  
B. 苏伊士运河  
C. 直布罗陀海峡  
D. 白令海峡
2. 号称“地球之巅”的世界最高山峰是 ( )  
A. 勃朗峰  
B. 乞力马扎罗山  
C. 珠穆朗玛峰  
D. 阿空加瓜山
3. 下列不属于亚洲与欧洲分界线的是 ( )  
A. 土耳其海峡  
B. 苏伊士运河  
C. 乌拉尔山脉  
D. 大高加索山脉
4. 下列地貌不属于冰川作用的产物的是 ( )  
A. 挪威沿海幽深曲折的峡湾  
B. 青藏高原雪山连绵, 冰川广布  
C. 芬兰成千上万的湖泊  
D. 阿尔卑斯山脉挺拔的峰峦
5. 下列地形区位于亚洲的是 ( )  
A. 波德平原  
B. 亚马孙平原  
C. 德干高原  
D. 刚果盆地

6. 读下图, 回答问题。

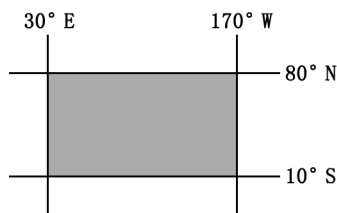


- (1) 亚洲东、北、南三面分别濒临\_\_\_\_洋、\_\_\_\_洋和\_\_\_\_洋。
- (2) 图中①是亚欧两洲分界线\_\_\_\_山脉, 其西侧地形区是\_\_\_\_平原。亚欧分界线的另外一条山脉②是\_\_\_\_山脉。
- (3) 从图中可知, 亚洲许多山脉以\_\_\_\_高原为中心, 向四周延伸, 其中世界海拔最高的山脉是\_\_\_\_山脉。世界海拔最高的高原是\_\_\_\_高原。
- (4) 从图中可以看出, 亚洲的地形以\_\_\_\_和\_\_\_\_为主; 地势\_\_\_\_高、\_\_\_\_低。

课后提升

知能升级 触类旁通

读下图, 根据图中信息回答 7~8 题。







7. 读图判断,图中阴影部分表示的大洲为 ( )

- A. 大洋洲      B. 北美洲  
C. 欧洲      D. 亚洲

8. 下列对该大洲的描述,错误的是 ( )

- A. 雄踞东方的大洲  
B. 西、北、南三面分别濒临大西洋、北冰洋和地中海  
C. 地势中间高、四周低,地面起伏大

D. 世界第一大洲

9. 下列关于欧洲地形的叙述,正确的是 ( )

A. 地形以平原为主,是世界上平均海拔最低的大洲

B. 地形以平原、高原为主,山脉分布较广

C. 海岸线较平直,海峡、海湾、岛屿较少

D. 东、西部地区多山地,南、北部地区多平原

10. 玲玲在复习时把各大洲的地形资料混在一起了,请你帮她找出不是亚洲地形资料的一项 ( )

- A. 地面起伏大,高低悬殊  
B. 地形以平原为主  
C. 地形以高原、山地为主  
D. 地势中部高、四周低

11. 下列对海峡、运河、山脉及其位置的叙述,正确的是 ( )

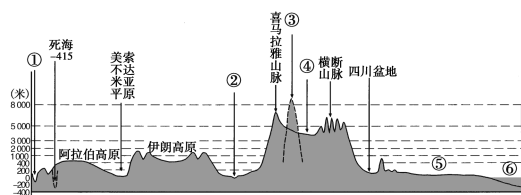
A. 土耳其海峡西北面为亚洲,东南面为欧洲

B. 白令海峡是亚洲与欧洲的分界线

C. 大高加索山脉北侧为亚洲,南侧为欧洲

D. 苏伊士运河东侧为亚洲,西侧为非洲

12. 读亚洲大陆沿  $30^{\circ}\text{N}$  线的地形剖面图,回答问题。



(1) 写出图中数字所代表的地理事物名称。

- ① \_\_\_\_\_ 运河;  
② \_\_\_\_\_ 平原;  
③ \_\_\_\_\_ 峰;  
④ \_\_\_\_\_ 高原;  
⑤ \_\_\_\_\_ 平原;  
⑥ \_\_\_\_\_ 洋。

(2) 从亚洲大陆沿  $30^{\circ}\text{N}$  线的地形剖面图中可以看出:亚洲地势东西方向变化的特点是 \_\_\_\_\_。

## 课时练习2 亚洲及欧洲的气候和河流

### 课前导学

梳理基础 掌握技巧

### 一、自主学习

1. 亚洲气候的主要特征:①气候\_\_\_\_\_。亚洲地跨寒、温、热三带,且地形复杂多样,除\_\_\_\_\_气候外,世界上的各种气候在亚洲都有分布。②大陆性特征显著。亚洲各地距海洋远近不同,加上地形和气流等因素的影响,干湿差异悬殊,\_\_\_\_\_气候面积最大。③\_\_\_\_\_气候显著。由于海陆差异特别显著,亚洲东部和\_\_\_\_\_成为季风最强盛、最典型、影响范围最广的地区。

2. 欧洲主要的气候类型:欧洲是世界上\_\_\_\_\_气候和\_\_\_\_\_气候分布范围最广、最典型的区域。

3. 欧洲气候的主要特征:①气候比较单一,以\_\_\_\_\_气候为主。②海洋性特征显著。因为欧洲三面临海,轮廓破碎,海岸线\_\_\_\_\_;大部分位于北纬\_\_\_\_\_之间,终年受来自大西洋温暖湿润的\_\_\_\_\_影响和北大西洋暖流的作用;山脉多为\_\_\_\_\_走向,平原广阔,连成一片。

4. 亚洲水系的主要特点:①水系

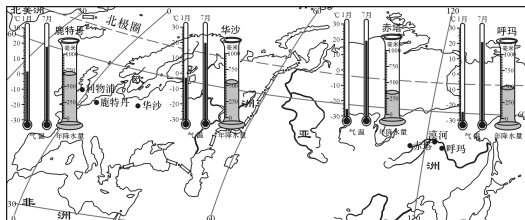
结构呈\_\_\_\_\_状,形成从中部高原山地流向周围海洋的外流水系;②\_\_\_\_\_面积广大。

5. 亚洲主要的河流有\_\_\_\_\_,黄河、\_\_\_\_\_,恒河、印度河、鄂毕河、勒拿河、叶尼塞河,主要的湖泊有\_\_\_\_\_,里海、死海、巴尔喀什湖等。

6. 欧洲水系的主要特点:①河网\_\_\_\_\_,湖泊众多;②水量丰富平稳,有利于航运;③流程短,多注入\_\_\_\_\_洋和附近海域。欧洲的主要河流有航运价值很高的著名国际性河流\_\_\_\_\_和\_\_\_\_\_。

### 二、典例解析

请在下图中找到呼玛、赤塔、华沙、鹿特丹四个城市。这四个城市纬度差异很小,但气候差异很大。据此回答1~2题。



1. 鹿特丹气温年较差大约为( )

- A. 1 °C
- B. 3 °C
- C. 16 °C
- D. 20 °C



2. 关于四地气候变化的叙述,正确的是 ( )

A. 从东向西气温年较差逐渐减小,年降水量逐渐增大

B. 从东向西气温年较差逐渐减小,年降水量先减小后增大

C. 从东向西气温年较差逐渐增大,年降水量先减小后增大

D. 从东向西气温年较差逐渐增大,年降水量先增大后减小

**【解析】**从图中可以看出,鹿特丹1月均温约为 $1^{\circ}\text{C}$ ,7月均温约为 $17^{\circ}\text{C}$ ,气温年较差大约为 $16^{\circ}\text{C}$ ;呼玛、赤塔、华沙、鹿特丹四地气温年较差分别约为 $46^{\circ}\text{C}$ 、 $44^{\circ}\text{C}$ 、 $24^{\circ}\text{C}$ 、 $16^{\circ}\text{C}$ ,年降水量分别约为480毫米、300毫米、530毫米、720毫米。

**【答案】**1. C 2. B

### 课堂导练

稳打稳扎 夯实基础

1. 夏季,给亚洲东部和南部带来丰沛的水汽和大量降水的是 ( )

A. 冬季风 B. 夏季风

C. 西北风 D. 飓风

2. 亚洲常常是“寒暑并存,干湿同在”,气候类型复杂多样。造成这种气候特征的原因是 ( )

A. 亚洲大部分处在高纬度地区

B. 亚洲处在东半球

C. 亚洲纬度范围广,经度跨度大

D. 亚洲四面濒临大洋

3. 北半球的“寒极”和世界的“雨极”分别是 ( )

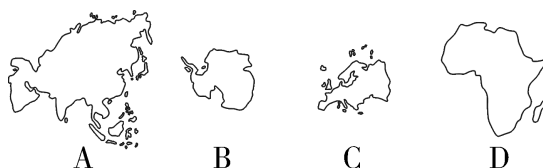
A. 漠河和新加坡

B. 乌兰巴托和德黑兰

C. 奥伊米亚康和乞拉朋齐

D. 冰岛和爪哇岛

4. 下列轮廓图中,地形以平原为主、海洋性气候显著的大洲是 ( )



5. 下列河流中,最终注入印度洋的是 ( )

A. 鄂毕河 B. 叶尼塞河

C. 勒拿河 D. 恒河

6. 亚洲和欧洲流经国家最多的国际性河流分别是 ( )

A. 阿姆河和多瑙河

B. 长江和莱茵河

C. 湄公河和多瑙河

D. 锡尔河和莱茵河

7. 世界上最深的淡水湖是 ( )

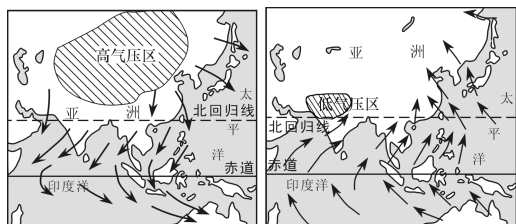
A. 贝加尔湖

B. 洞庭湖

C. 里海

D. 苏必利尔湖

8. 读亚洲东、南部的冬、夏季风图,回答问题。



图一

图二

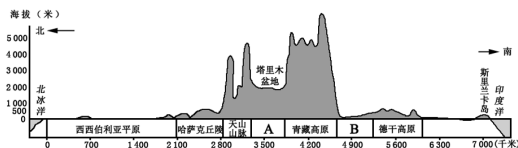
(1)图一是亚洲东、南部\_\_\_\_\_季风图,该季风的源地位于寒冷干燥的\_\_\_\_\_和\_\_\_\_\_一带,风从内陆吹向\_\_\_\_\_,其性质寒冷干燥,在它的影响下,气温\_\_\_\_\_,降水\_\_\_\_\_。

(2)图二是亚洲东、南部\_\_\_\_\_季风图。该季风来自东南面的\_\_\_\_\_洋和西南面的\_\_\_\_\_洋,因为从海洋吹向陆地,因此,其性质\_\_\_\_\_,给亚洲东、南部带来丰富的降水。

## 课后提升

知能升级 触类旁通

读亚洲沿 80°E 线的地形剖面图,回答 9~10 题。

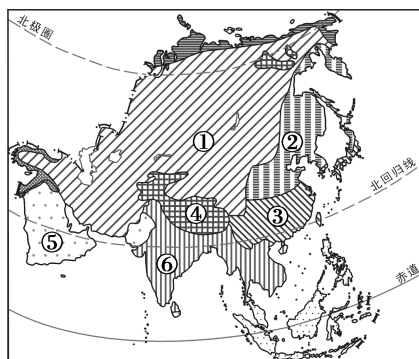


9. A 地形区的气候类型是 ( )
- 亚热带季风气候
  - 温带季风气候
  - 温带大陆性气候
  - 高山高原气候

10. B 地形区的河流流入的海洋是 ( )

- 印度洋
- 北冰洋
- 太平洋
- 大西洋

11. 读亚洲气候略图,回答问题。



(1) 写出图中数字所代表的气候类型。

- \_\_\_\_\_气候;
- \_\_\_\_\_气候;
- \_\_\_\_\_气候;
- \_\_\_\_\_气候;
- \_\_\_\_\_气候;
- \_\_\_\_\_气候。

(2) 与亚洲相比,欧洲气候比较单一,以\_\_\_\_\_ (填“热”“温”或“寒”) 带气候为主,\_\_\_\_\_ 特征显著。在世界各大洲中,欧洲是\_\_\_\_\_ 气候和\_\_\_\_\_ 气候分布范围最广、最典型的区域。

(3) 从亚洲气候类型的分布和种类中,可以看出亚洲气候的特征是\_\_\_\_\_。





### 课时练习3 亚洲及欧洲的人口与国家、换算时间

#### 课 前 导 学

梳理基础 掌握技巧

#### 一、自主学习

1. 亚洲是世界上人口最多的大洲,约占世界总人口的 60% (2020 年)。世界上人口超过 1 亿的国家,大多数在亚洲。亚洲人口分布不均,\_\_\_\_\_人口稠密,\_\_\_\_\_、北部和中部人口稀疏。

2. 亚洲分为\_\_\_\_\_、东南亚、\_\_\_\_\_、西亚、中亚和北亚。

3. 欧洲绝大多数国家的人口密度\_\_\_\_\_,城市人口比重\_\_\_\_\_;人口自然增长率\_\_\_\_\_,老龄化现象严重。

4. 学会换算不同地点的时间。

(1) 日常生活中,人们根据太阳在天空中的位置来确定的时间称为\_\_\_\_\_。为了方便生活,加强国际交往,避免因使用地方时带来时间上的混乱,人们把经过伦敦格林尼治天文台原址的\_\_\_\_\_经线的地方时作为标准时间,即世界时。

(2) 从西经  $7^{\circ}30'$  到东经  $7^{\circ}30'$  划为中时区,从中时区分别向东、向西,经度每\_\_\_\_\_°划分为 1 个时区,全球共划分为\_\_\_\_\_个时区。每隔一个时区,时间相差\_\_\_\_\_小时,东边的时

间早于西边的时间。

(3) 我国采用首都北京所在的\_\_\_\_\_区的区时——“北京时间”作为全国统一使用的时间。

(4) 国际上规定大致以\_\_\_\_\_经线作为地球上“今天”和“昨天”的分界线,这就是\_\_\_\_\_线。为了方便  $180^{\circ}$  经线附近居民的生活,国际日期变更线避开陆地,从海洋上穿过,因此,国际日期变更线并不完全与  $180^{\circ}$  经线重合。自西向东越过国际日期变更线,日期要\_\_\_\_\_。

#### 二、典例解析

3 月 5 日 20 时,在巴西里约热内卢(西三区)有一场足球比赛。怀化的小马同学在家收看比赛直播的时间应是 ( )

- A. 3 月 5 日 20 时
- B. 3 月 5 日 9 时
- C. 3 月 6 日 7 时
- D. 3 月 6 日 9 时

**【解析】** 里约热内卢位于西三区,怀化使用的区时是东八区的区时,怀化比里约热内卢早 11 个小时。因此,当里约热内卢是 5 日 20 时时,怀化的时间是 6 日 7 时。

**【答案】** C



## 课堂导练

稳打稳扎 夯实基础

1. 世界上人口最多的大洲是

( )

- A. 亚洲                      B. 欧洲  
C. 非洲                      D. 北美洲

2. 亚洲人口稠密的地区主要集中在 ( )

- A. 中亚和西亚  
B. 东南亚和西亚  
C. 北亚和东亚  
D. 东亚和南亚

3. 下列人口超过 1 亿的一组国家中,都是亚洲国家的是 ( )

- A. 中国、印度、俄罗斯  
B. 日本、印度尼西亚、巴基斯坦  
C. 孟加拉国、美国、印度  
D. 中国、尼日利亚、巴西

4. 下列大洲人口自然增长率最低的是 ( )

- A. 亚洲                      B. 欧洲  
C. 大洋洲                      D. 北美洲

5. 下列不属于欧洲人口特点的是

( )

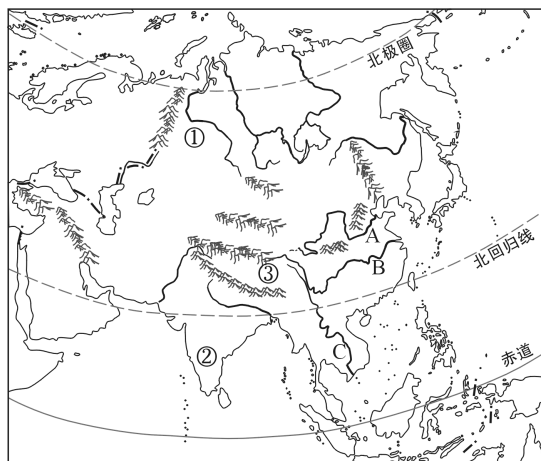
- A. 人口密度大  
B. 城市人口比重大  
C. 人口分布非常均匀  
D. 老龄化现象严重

6. 当国际金融中心法兰克福(8.5°E)当地时间为 12 点 50 分时,中

国香港(114°E)当地时间是 ( )

- A. 21 时  
B. 21 时 50 分  
C. 3 时 50 分  
D. 19 时 50 分

7. 读亚洲地图,回答问题。



(1) 写出图中数码和字母所代表的地理事物名称。

地形区: ① \_\_\_\_\_ 平原;

② \_\_\_\_\_ 高原;

③ \_\_\_\_\_ 高原。

河流: A. \_\_\_\_\_;

B. \_\_\_\_\_;

C. \_\_\_\_\_。

(2) 亚洲河流的特征深受地形的影响。亚洲地形以 \_\_\_\_\_ 为主,地势特点为 \_\_\_\_\_。

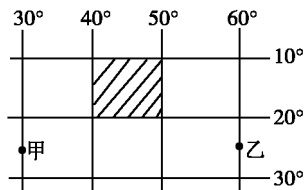
(3) 亚洲人口分布最稠密的地区是 \_\_\_\_\_、\_\_\_\_\_ 和 \_\_\_\_\_。



课后提升

知能升级 触类旁通

读下图,完成8~9题。



8. 图中阴影所示的区域位于

( )

- A. 西四区      B. 东三区  
C. 东四区      D. 西三区

9. 当甲地是下午5时时,乙地是

( )

- A. 晚上8时      B. 下午2时  
C. 晚上7时      D. 下午3时

10. 在英国伦敦( $0^{\circ}$ ,  $52^{\circ}\text{N}$ )体育馆有一场足球比赛,时间是当地时间12月24日19:00,中国香港( $114^{\circ}\text{E}$ ,  $22^{\circ}\text{N}$ )的李先生要去伦敦观看这场比赛,自香港去伦敦,飞机飞行时间约为17小时。据此回答问题。

(1)香港位于\_\_\_\_\_洲,其气候类型是\_\_\_\_\_气候;伦敦位于\_\_\_\_\_洲,其气候类型是\_\_\_\_\_气候。

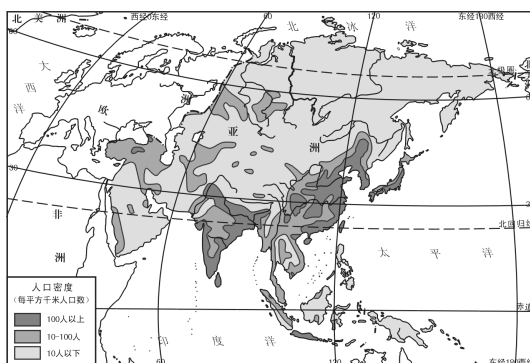
(2)李先生的伦敦之行,在随身物品方面应做的准备是\_\_\_\_\_。

(3)在下列香港—伦敦的航班起飞时间中,李先生应选择的较为合适

的航班点是 ( )

- A. 23日15时      B. 23日18时  
C. 24日7时      D. 24日11时

11. 读亚洲人口分布示意图,回答问题。



(1)亚洲人口分布的特点是人口分布不均,\_\_\_\_\_和\_\_\_\_\_人口密度大,\_\_\_\_\_,北部和中部人口密度小。

(2)亚洲南部的印度半岛人口稠密的主要原因是\_\_\_\_\_。  
亚洲北部的西伯利亚人口稀少的主要原因是\_\_\_\_\_。

(3)亚洲东部和南部是世界上最重要的水稻产区,试从气候、地形、人口等方面分析这里发展水稻种植的有利条件。

气候:\_\_\_\_\_。

地形:\_\_\_\_\_。

人口:\_\_\_\_\_。

## 课时练习4 非洲的位置、国家和地形

### 课前导学

梳理基础 掌握技巧

### 一、自主学习

1. 非洲的地理位置:赤道穿过中部,绝大部分位于\_\_\_\_\_带;位于\_\_\_\_\_半球西部,0°经线从西部穿过;东濒\_\_\_\_\_洋,西临\_\_\_\_\_洋,北隔地中海和直布罗陀海峡与\_\_\_\_\_相望,东北与亚洲之间隔着红海,并以\_\_\_\_\_

\_\_\_\_\_运河为陆上分界线。

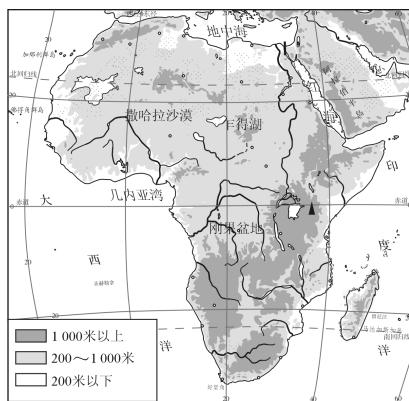
2. 第二次世界大战前夕,非洲只有\_\_\_\_\_、埃塞俄比亚和利比里亚3个独立国家,其余都沦为殖民地。目前,非洲有\_\_\_\_\_个国家和地区,是世界上国家和地区最多的大洲。

3. 非洲地形以\_\_\_\_\_为主,被称为高原大陆;地势\_\_\_\_\_;海岸线\_\_\_\_\_,半岛、岛屿、海湾少。

4. 非洲东部有世界陆地上最大的断裂带——\_\_\_\_\_。位于非洲北部的\_\_\_\_\_沙漠,是世界上面积最大的沙漠。

### 二、典例解析

读下图,回答问题。



(1) 非洲西濒\_\_\_\_\_洋,东临\_\_\_\_\_洋,北隔\_\_\_\_\_海与欧洲相望,东北以\_\_\_\_\_运河与亚洲分界。

(2) \_\_\_\_\_(纬线)穿过非洲中部,大部分位于\_\_\_\_\_(纬线)之间,属于五带中的\_\_\_\_\_带。

(3) 从图中可以看出,非洲地形以\_\_\_\_\_为主,被称为“\_\_\_\_\_”。非洲地势具有\_\_\_\_\_的特点。

(4) 从图中可以看出,非洲海岸线\_\_\_\_\_,半岛、岛屿、海湾\_\_\_\_\_。

**【解析】** 本题解题关键在于读图,从图中找到相关信息,然后对照图例读出不同符号代表的海拔,再根据海拔的变化情况归纳地势特征,并根据



不同海拔及相对高度的情况分析地形类型。

**【答案】**(1)大西 印度 地中  
苏伊士 (2)赤道 南、北回归线 热  
(3)高原 高原大陆 东南高,西北  
低 (4)平直 少

### 课堂导练

稳打稳扎 夯实基础

1. 非洲全称阿非利加洲,“阿非利加”的意思是 ( )

- A. “阳光灼热”
- B. “东方日出之地”
- C. “西方日落之地”
- D. “新大陆”

2. 第二次世界大战前夕,非洲仅有的3个独立国家是 ( )

- A. 埃及、南非、尼日利亚
- B. 苏丹、纳米比亚、赞比亚
- C. 利比亚、阿尔及利亚、加纳
- D. 埃及、埃塞俄比亚、利比里亚

3. 世界上国家和地区最多的大洲是 ( )

- A. 亚洲
- B. 非洲
- C. 欧洲
- D. 大洋洲

4. 下列地形区中,位于非洲的是 ( )

- A. 德干高原
- B. 刚果盆地
- C. 斯堪的纳维亚山脉
- D. 波德平原

5. “非洲屋脊”是指 ( )

- A. 乞力马扎罗山
- B. 南非高原
- C. 埃塞俄比亚高原
- D. 刚果盆地

6. 关于非洲地势特点的叙述,正确的是 ( )

- A. 中部高,四周低
- B. 东南高,西北低
- C. 地势低平,起伏小
- D. 东高西低

7. 乞力马扎罗山位于赤道附近,山顶却终年被积雪覆盖,其主要原因是 ( )

- A. 纬度低
- B. 海拔高
- C. 寒流影响
- D. 气候异常

索马里沿海海盗活动频繁。我国海军先后派出多批舰队赴亚丁湾、索马里附近海域执行护航任务,为国际社会



共同反海盗作出了积极贡献。读图回答8~9题。

8. 索马里海盗经常出没的海域属于四大洋中的 ( )

- A. 太平洋
- B. 大西洋
- C. 印度洋
- D. 北冰洋

9. 索马里(国家)位于七大洲中的 ( )

- A. 亚洲                      B. 非洲  
C. 欧洲                      D. 北美洲

**课后提升** 知能升级 触类旁通

10. 下列有关非洲自然地理特征的叙述,不正确的是 ( )


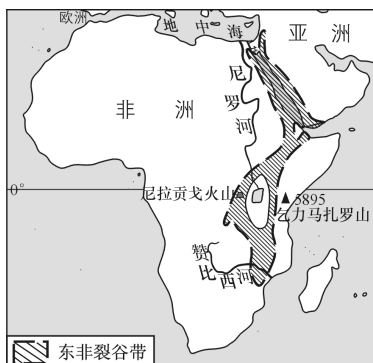
- A. 地形以高原为主,有“高原大陆”之称  
B. 刚果盆地是世界上面积最大的盆地  
C. 地势西北高、东南低  
D. 非洲最高的山峰是乞力马扎罗山

11. 下列关于撒哈拉沙漠的说法,正确的是 ( )

- ①世界上最大的沙漠 ②世界上最湿润的沙漠 ③非洲最北的沙漠  
④非洲唯一的沙漠 ⑤世界上面积最大的干旱区 ⑥世界上植物数量最多的沙漠

- A. ①②④                      B. ①③⑤  
C. ①②⑥                      D. ③⑤⑥

12. 读东非裂谷带图和非洲沿赤道地形剖面图,回答问题。



非洲沿赤道地形剖面图

(1) 填出图中数码代号表示的地理事物名称。

- ① \_\_\_\_\_ 洋; ② \_\_\_\_\_ 高原;  
③ \_\_\_\_\_ 盆地; ④ \_\_\_\_\_ 洋。

(2) 非洲裂谷带底部有狭长而深陷的谷地和湖泊,附近火山、地震活动频繁。该裂谷带形成的原因是 \_\_\_\_\_。

(3) 如果乞力马扎罗山山麓地带海拔是 500 米,气温是 20℃,只从地形因素考虑,该山顶的气温约是 \_\_\_\_\_℃。

(4) 近年来许多欧美的游客热衷于“末日旅游”,把旅游目光锁定在他们认为即将消失的景观上。游客把乞力马扎罗山作为末日旅游地的原因最有可能是 ( )

- A. 过度开垦、放牧,导致生态失衡  
B. 当地黑种人数量减少  
C. 该地区工业发达,酸雨危害严重  
D. 全球变暖,可能导致赤道雪峰景观消失

## 课时练习5 非洲的气候、河流、资源和经济

### 课 前 导 学

梳理基础 掌握技巧

### 一、自主学习

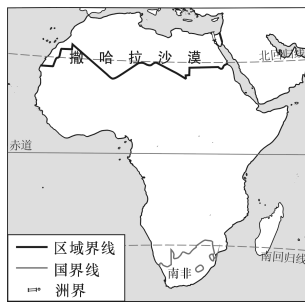
1. 气候特点:非洲大部分位于南、北回归线之间,绝大部分地区年平均气温在 \_\_\_\_\_ $^{\circ}\text{C}$  以上,气候普遍炎热,被称为“\_\_\_\_\_大陆”。非洲的降水地区分布很不均衡。赤道附近的 \_\_\_\_\_ 盆地和几内亚湾沿岸年降水量非常丰富,形成 \_\_\_\_\_ 气候;南、北回归线两侧大多干旱少雨,形成 \_\_\_\_\_ 气候。非洲是世界上 \_\_\_\_\_ 区面积最大的一个洲。气候类型以 \_\_\_\_\_ 为对称轴,呈南北对称分布。各气候类型中, \_\_\_\_\_ 气候分布最广。

2. 河流:主要有世界最长的 \_\_\_\_\_ 和水量大、水能资源丰富的 \_\_\_\_\_。

3. 物产:矿产资源种类多,储量大,主要有 \_\_\_\_\_、\_\_\_\_\_、铬铁矿、磷酸盐和石油等。动植物资源丰富。因为草原广阔,非洲大型野生动物的种类和数量均居世界各洲之冠。非洲是 \_\_\_\_\_、\_\_\_\_\_ 等作物的原产地。

### 二、典例解析

南非是“金砖国家”之一,在“金砖国家”合作框架下,南非与中国的



合作日益深化。据图回答1~2题。

1. 从图中可以看出南非所在的大洲是 ( )

- A. 亚洲                      B. 非洲  
C. 北美洲                  D. 南美洲

2. 图中所示撒哈拉以南地区的主要经济特征是 ( )

- A. 发达的加工贸易经济  
B. 经济发达,进口初级产品,出口工业制成品  
C. 以外向型的经济为主  
D. 依赖初级产品的单一商品为主的经济

**【解析】**从大洲轮廓和图中信息可知图示地区是非洲,非洲是世界上经济发展水平最低的大洲,绝大多数国家是依赖初级产品的单一商品为主的经济。

**【答案】**1. B    2. D



## 课堂导练

稳打稳扎 夯实基础

1. 非洲最南端的好望角所属气候类型是 ( )

- A. 热带雨林气候
- B. 热带草原气候
- C. 热带沙漠气候
- D. 地中海气候

2. 东非热带草原国家常遭受的气象灾害是 ( )

- A. 干旱
- B. 洪涝
- C. 霜冻
- D. 台风

3. 非洲矿产资源种类多,储量大。其中储量和产量都居世界前列的是 ( )

- A. 金刚石、石油、黄金、天然气
- B. 金刚石、黄金、铬铁矿、磷酸盐
- C. 稀土、锡、铜、磷酸盐
- D. 铜、铬铁矿、铋、铅锌矿

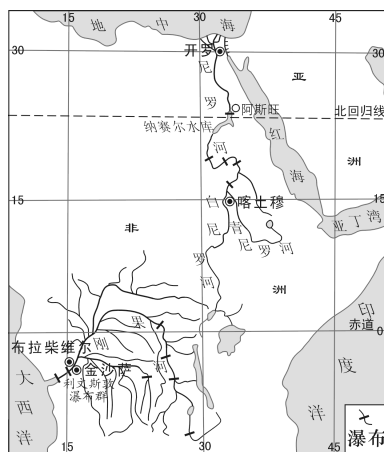
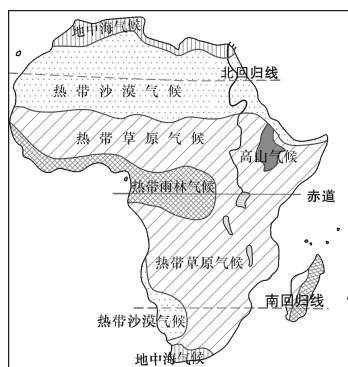
4. 下列农作物中,原产地位于非洲的是 ( )

- ①咖啡 ②玉米 ③油棕 ④茶叶
- A. ①③
- B. ①②
- C. ③④
- D. ①④

5. 下列关于非洲河流的说法,正确的是 ( )

- A. 尼罗河自东向西注入大西洋
- B. 刚果河水量大,水能资源丰富
- C. 尼罗河主要流经热带雨林气候区
- D. 刚果河是世界最长河流

6. 读非洲气候略图、刚果河和尼罗河流域示意图,回答问题。



(1) 非洲分布最广的气候类型是 \_\_\_\_\_ 气候。

(2) 非洲气候类型的分布具有 \_\_\_\_\_ 的特点。

(3) 非洲赤道附近东部地区属于 \_\_\_\_\_ 气候和高山高原气候,西部地区属于 \_\_\_\_\_ 气候。形成该现象的主要原因是 \_\_\_\_\_。

(4) 尼罗河的流向是 \_\_\_\_\_,流经的主要气候区有 \_\_\_\_\_ 气候





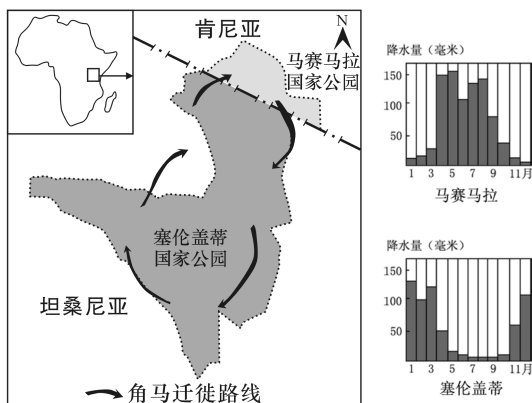
和\_\_\_\_\_气候。刚果河主要流经\_\_\_\_\_盆地,注入\_\_\_\_\_洋。

(5)刚果河和尼罗河比较,水量较小的是\_\_\_\_\_河,结合非洲气候图分析其原因是\_\_\_\_\_。

### 课后提升

知能升级 触类旁通

分布在东非高原的角马,逐水草定期迁徙。下图是东非高原马赛马拉和塞伦盖蒂的降水资料及角马在两地之间的迁徙路线,读图回答7~8题。



7. 根据图中的信息可知,两地都属于 ( )

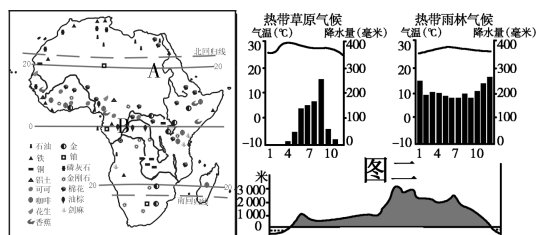
- A. 热带雨林气候
- B. 热带草原气候
- C. 热带沙漠气候
- D. 热带季风气候

8. 2022年11月至2023年3月,角马群的迁徙方向是 ( )

- A. 由马赛马拉向北迁徙
- B. 由马赛马拉向南迁徙
- C. 由塞伦盖蒂向北迁徙
- D. 由塞伦盖蒂向南迁徙

9. 阅读图文材料,回答问题。

“中非合作论坛”是我国与非洲国家在“南南合作”范畴内的集体对话机制。“中非合作论坛”部长级会议自2000年开始每3年举行一次,其宗旨是平等磋商、扩大共识、增进了解、加强友谊、促进合作。



图一

图三

(1)图一 A、B 两条河流中水量丰富的是\_\_\_\_\_河,自南向北注入地中海的是\_\_\_\_\_河。(填字母)

(2)非洲有面积广大的热带雨林气候和热带草原气候,读图二可知,这两种气候的共同点是\_\_\_\_\_,不同点是\_\_\_\_\_。

(3)图三是沿赤道的非洲地形剖面图,从图中可以看出其地形以\_\_\_\_\_为主,地势特征是\_\_\_\_\_。

(4)资源合作是中非合作的重要内容之一。中国将采取多样的合作方式与非洲国家共同开发和合理利用资源,帮助非洲国家将资源优势转化为竞争优势。你认为非洲自然资源的优势有\_\_\_\_\_。



## 课时练习6 美洲的位置和地形

## 课 前 导 学

梳理基础 掌握技巧

## 一、自主学习

1. 美洲大陆是一块整体,以\_\_\_\_\_运河为界,分为北美洲和南美洲。美洲北临\_\_\_\_\_洋,西临太平洋,东临大西洋。

2. 白令海峡:北冰洋与太平洋之间的唯一通道。\_\_\_\_\_洲与北美洲的洲界线、美国与俄罗斯的国界线、\_\_\_\_\_变更线都从白令海峡中部穿过。

3. 拉丁美洲是指目前主要通行\_\_\_\_\_语和葡萄牙语的\_\_\_\_\_以南的美洲地区。

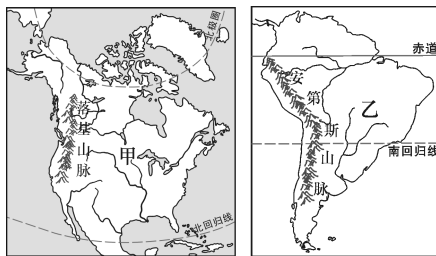
4. 北美洲主要由巴拿马运河以北的美洲大陆、\_\_\_\_\_岛、\_\_\_\_\_群岛等组成。平均海拔较高,地势起伏较大,地形分为南北纵列的三大地形区:西部是高大的\_\_\_\_\_山系北段——海岸山脉、\_\_\_\_\_山脉,中部是广阔的大平原,东部是低缓的高地——\_\_\_\_\_高原、阿巴拉契亚山脉。\_\_\_\_\_湖等五大湖是世界上最大的淡水湖群,素有“\_\_\_\_\_”之称。

5. 南美洲西部为高大的\_\_\_\_\_

山脉,东部\_\_\_\_\_相间分布。南美洲的主要地形区有\_\_\_\_\_山脉、亚马孙平原和\_\_\_\_\_高原等。

## 二、典例解析

根据下图判断,下列说法正确的是 ( )



- A. 甲地区最发达的国家是墨西哥  
B. 乙地区是世界上人口自然增长率最高的大洲  
C. 乙地区为拉丁美洲  
D. 甲、乙两地区西部为科迪勒拉山系

**【解析】**本题解题关键在于读图、析图,从图中获取信息。甲是北美洲轮廓图,该地区主要国家是加拿大、美国和墨西哥,墨西哥为发展中国家,发达程度不及美国和加拿大。乙是南美洲轮廓图,该地区都是发展中国家,人口自然增长率居世界第二,世界上人口自然增长率最高的大洲是非洲。拉丁美洲是指美国以南的美洲,乙地区只是拉丁美洲的一部分。北美洲西部的落基山



脉和南美洲西部的安第斯山脉同属于世界最长的山系——科迪勒拉山系。

【答案】D

### 课堂导练

稳打稳扎 夯实基础

1. 南美洲与北美洲的分界线是

( )

A. 美国与墨西哥的国界线

B. 北冰洋与太平洋之间的白令海峡

C. 中美地峡的巴拿马运河

D. 横贯美洲大陆的赤道

2. 美洲大陆上面积最大的国家是

( )

A. 美国

B. 巴西

C. 阿根廷

D. 加拿大

3. 下列有关美洲的叙述, 错误的是

( )

A. 西印度群岛呈弧形排列在墨西哥湾内

B. 中美地峡是连接南、北美大陆的天然“陆桥”

C. 白令海峡是北美洲与亚洲的分界线

D. 北美洲的格陵兰岛是世界第一大岛

4. 下列关于美洲地区语言使用情况的说法, 正确的是

( )

A. 加拿大通用德语, 部分居民讲法语

B. 巴西通用的语言是西班牙语

C. 拉丁美洲大多数国家使用西班牙语

D. 美洲地区使用的语言与历史上的殖民统治无关

5. 下列地形区中, 位于北美洲的是

( )

A. 巴西高原

B. 巴塔哥尼亚高原

C. 拉布拉多高原

D. 圭亚那高原

6. 地形分为南北纵列的三大地形区: 西部是高大的山系, 中部是广阔的平原, 东部是低缓的高地的大洲是

( )

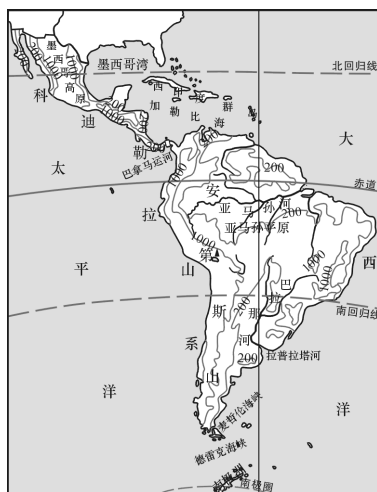
A. 南美洲

B. 北美洲

C. 亚洲

D. 大洋洲

7. 读拉丁美洲地形略图, 回答问题。



(1) 拉丁美洲是指\_\_\_\_\_ (国

家)以南的美洲地区,目前主要通行\_\_\_\_\_语和\_\_\_\_\_语。

(2)\_\_\_\_\_群岛呈弧形排列在加勒比海和大西洋之间。

(3)位于中美地峡南部的\_\_\_\_\_运河是南、北美洲的分界线,它大大缩短了\_\_\_\_\_洋与\_\_\_\_\_洋之间的航程。

(4)从东西半球看,拉丁美洲位于\_\_\_\_\_半球;从纬度位置看,拉丁美洲主要位于五带中的\_\_\_\_\_带。

(5)南美洲有许多世界之最:世界上最长的山脉是\_\_\_\_\_山脉,最大的平原是\_\_\_\_\_平原,最大的高原是\_\_\_\_\_高原。

(6)从图中可以看出,南美洲地形西部为\_\_\_\_\_,东部\_\_\_\_\_。

课后提升 知能升级 触类旁通

8. 下列有关美洲范围的描述,正确的是 ( )

A. 美洲由北美洲和拉丁美洲两个区域组成

B. 拉丁美洲是指巴拿马运河以南的美洲地区

C. 北美洲的一些地区也属于拉丁美洲

D. 南美洲的区域范围要远远大于拉丁美洲

读下图,回答9~10题。



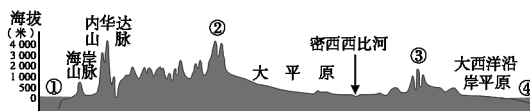
9. 图中 M 位于 ( )

- A. 北美洲 B. 欧洲  
C. 大洋洲 D. 非洲

10. 图中 N 为 ( )

- A. 苏伊士运河  
B. 马六甲海峡  
C. 巴拿马运河  
D. 土耳其海峡

11. 读北美洲沿 40°N 线的地形剖面图,回答问题。



(1) 填出图中数字所代表的地理事物名称。

①\_\_\_\_\_洋;②\_\_\_\_\_山脉;  
③\_\_\_\_\_山脉;④\_\_\_\_\_洋。

(2) 从图中可以看出北美洲平均海拔\_\_\_\_\_,地势起伏\_\_\_\_\_,地形分为\_\_\_\_\_的三大地形区,即西部是\_\_\_\_\_,中部是\_\_\_\_\_,东部是\_\_\_\_\_。



## 课时练习7 美洲的气候、河流、居民与经济

### 课前导学

梳理基础 掌握技巧

### 一、自主学习

1. 北美洲地跨寒、温、热三带,气候类型复杂多样,以\_\_\_\_\_气候为主。\_\_\_\_\_对气候的作用显著。

2. 南美洲热带面积广,且降水充沛,是世界上最湿润的大洲。南美洲的气候类型以\_\_\_\_\_气候和热带草原气候为主。

3. 北美洲最大的河流是\_\_\_\_\_,它自北向南注入墨西哥湾。南美洲的\_\_\_\_\_是世界上流域面积最广、流量最大的河流,自西向东注入\_\_\_\_\_。

4. 美洲原住民绝大部分是\_\_\_\_\_,现在的美洲有大量的外来移民,南美洲号称“世界人种大熔炉”。南美洲\_\_\_\_\_人种的数量和比重超过了其他大洲。

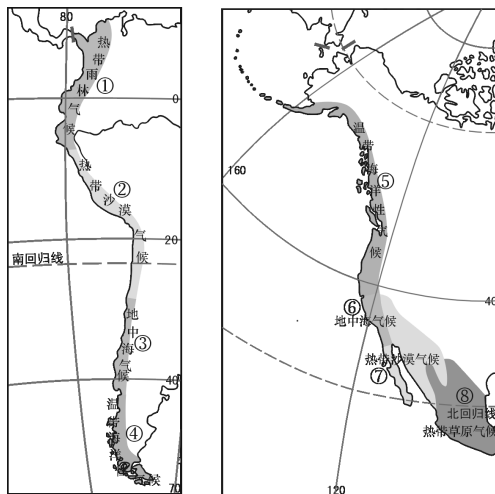
5. 美洲的经济发展不平衡,发达国家有\_\_\_\_\_,加拿大,其余国家都是发展中国家。墨西哥已形成以\_\_\_\_\_工业为支柱的工业体系,墨西哥湾沿岸和近海石油蕴藏量丰富。墨西哥是\_\_\_\_\_原产地,它的首都是\_\_\_\_\_。\_\_\_\_\_是南美洲工农业最

发达的国家。阿根廷为重要的\_\_\_\_\_出口国,牛肉、羊毛等畜产品在国际市场上占有突出地位。

6. 南美洲主要的出口商品为\_\_\_\_\_,矿产以石油、铁、铜、铝土为多;农业以\_\_\_\_\_为主,大量出产\_\_\_\_\_,香蕉、蔗糖、棉花、可可等。

### 二、典例解析

读南、北美洲西部沿海地区气候类型分布图,回答1~3题。



1. 读图,找出南、北美洲西部沿海地区分布不同的气候类型 ( )

- A. ①和⑧      B. ②和⑦  
C. ③和⑥      D. ④和⑤

2. 南、北美洲西部沿海地区全年温和湿润的气候类型是 ( )

- A. 热带雨林气候  
B. 热带草原气候





C. 地中海气候

D. 温带海洋性气候

3. 南、北美洲西部沿海地区气候类型呈南北狭长状分布,下列因素中,可能对其产生主要影响的是 ( )

A. 纬度位置

B. 西临太平洋

C. 海岸线平直

D. 地形因素

**【解析】**本题解题关键在于读图、析图,从图中找出相关信息。从气候类型的分布可知,南、北美洲西部沿海地区都有热带沙漠气候、地中海气候和温带海洋性气候。北美洲西部沿海地区有热带草原气候,而南美洲西部沿海地区有热带雨林气候。全年温和湿润的气候是温带海洋性气候。南、北美洲西部沿海地区气候类型呈南北狭长状分布,主要是受到西部高大山脉的影响。

**【答案】**1. A 2. D 3. D

## 课堂导练

稳打稳扎 夯实基础

1. 下列关于北美洲气候复杂多样的原因的叙述,不正确的是 ( )

A. 北美洲跨纬度广,有热带、温带和寒带气候

B. 西部山脉呈南北走向,阻挡太平洋湿润气流深入内陆,造成东西部气候差异大

C. 高大的山脉使得不同海拔气候不同

D. 发达国家温室气体排放多,使得气候类型发生改变

2. 关于南、北美洲的比较,正确的是 ( )

A. 两大洲气候都具有暖湿的特点

B. 两大洲大西洋沿岸的气候类型都相同

C. 北美洲有面积广大的亚寒带针叶林,南美洲有世界最大的热带雨林

D. 南、北美洲都以温带气候为主

3. 美洲的原住居民绝大部分是 ( )

A. 混血人种

B. 印第安人

C. 印度人

D. 黑种人

4. 墨西哥的支柱产业是 ( )

A. 石油工业

B. 造船工业

C. 高技术产业

D. 农牧业

5. 南美洲工农业最发达的国家是 ( )

A. 阿根廷

B. 巴西

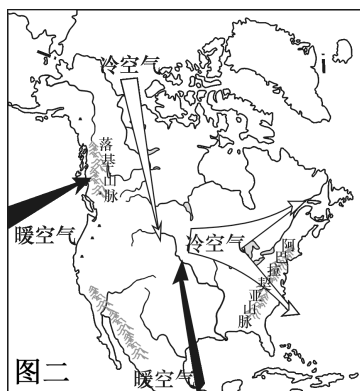
C. 委内瑞拉

D. 秘鲁

6. 读北美洲(部分)气候类型示意图(图一)和北美洲(部分)地形对气候的影响示意图(图二),回答问题。



图一



图二

(1) 图一中①处属于\_\_\_\_\_气候。结合图二分析,该气候类型在北美洲局限在太平洋沿岸的狭长地带,是因为来自太平洋的暖湿气流受\_\_\_\_\_山脉的阻挡。

(2) 冬季,极地寒冷气流可以从北冰洋上空长驱直入,到达南部\_\_\_\_\_ (海湾),形成大风雪与寒潮天气;夏季,墨西哥湾的\_\_\_\_\_气流也可以自由北上,使北美洲中部和东部普遍暖湿。这主要是由于北美洲中部以\_\_\_\_\_为主的地形贯通南北,有利于南北气流运动。

**课后提升** 知能升级 触类旁通

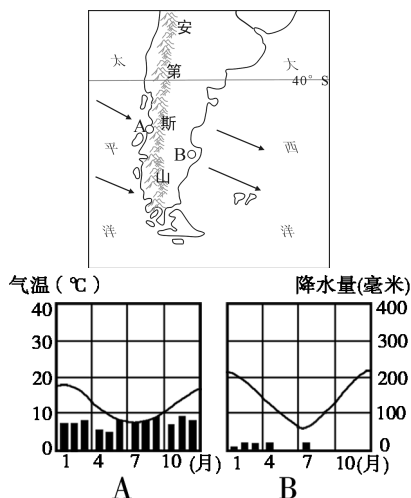
7. 下列关于南、北美洲经济和资源的比较,正确的是 ( )

- A. 两大洲中的美国、加拿大、巴西和阿根廷属于发达国家
- B. 农业都以种植业为主,盛产热带作物
- C. 东部地区都蕴藏着丰富的矿产资源
- D. 能源矿产北美洲以石油为主,南美洲以煤炭为主

8. 阿根廷最重要的农牧业区位于 ( )

- A. 安第斯山地
- B. 巴塔哥尼亚高原
- C. 潘帕斯草原
- D. 亚马孙平原

9. 读下图,回答问题。



(1) 南美洲安第斯山脉南段西侧常年盛行\_\_\_\_\_风。

(2) 图中 A、B 两地中降水较多的是\_\_\_\_\_地,原因是\_\_\_\_\_。

(3) A、B 两地全年最低气温都在\_\_\_\_\_月,全年最高气温都在\_\_\_\_\_月,原因是\_\_\_\_\_。

(4) 从 A、B 两地的气候差异来看,南美洲南部的气候受\_\_\_\_\_的影响较大。

(5) 当 A 地处在一年中温度较低的季节时,地中海沿岸的气候特点是\_\_\_\_\_。



### 三、自我评价

#### 一、选择题

1. 亚洲与非洲的分界线是( )  
A. 巴拿马运河 B. 苏伊士运河  
C. 白令海峡 D. 土耳其海峡
2. 亚洲河流呈辐射状分布的原因是( )  
A. 四面临海  
B. 降水丰富  
C. 河流湍急  
D. 地势中部高、四周低
3. 世界上高原面积广大,有“高原大陆”之称的大洲是( )  
A. 非洲 B. 亚洲  
C. 欧洲 D. 北美洲

在一次国际中学生夏令营活动中,某学生这样介绍自己的家乡:“我的家乡一年到头都很热,极少下雨,一年中有两次太阳直射现象。”据此回答4~5题。

4. 该中学生的家乡可能在( )  
A. 非洲的撒哈拉沙漠  
B. 地中海沿岸  
C. 中国的山东半岛  
D. 南美洲的亚马孙平原
5. 该中学生家乡的气候是( )  
A. 温带海洋性气候

- B. 地中海气候
- C. 热带雨林气候
- D. 热带沙漠气候

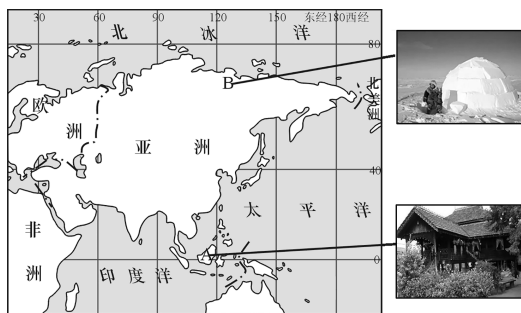
6. 下列关于各大洲名称及其地理特征的描述,正确的是( )



- 甲——亚洲——被太平洋、大西洋、北冰洋包围的大洲
- 乙——非洲——撒哈拉以南地区是黑种人的故乡
- 丙——南美洲——季风气候最为典型的大洲
- 丁——北美洲——地势中部高、四周低,河流呈放射状

#### 二、综合题

7. 读图,回答问题。



- (1) 亚洲东临\_\_\_\_\_洋,东北以\_\_\_\_\_海峡为界与美洲相邻。
- (2) 亚洲地跨热带、北温带、北寒



带。A地终年高温多雨,属\_\_\_\_\_气候。B地气候终年严寒。A、B两地气候差异大,主要是受\_\_\_\_\_因素的影响。

(3)亚洲人口分布不均,人口主要分布在\_\_\_\_\_。

8. 读拉丁美洲略图,回答问题。

(1)拉丁美洲是指\_\_\_\_\_以南的美洲部分,是世界上\_\_\_\_\_人种分布最多的地区。



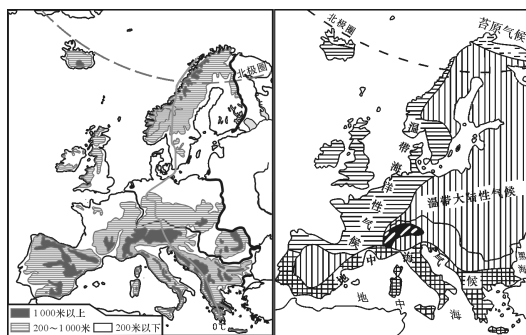
(2)图中D是\_\_\_\_\_运河,它沟通了A\_\_\_\_\_洋和B\_\_\_\_\_洋。

(3)F是世界上最长的山脉——\_\_\_\_\_山脉,E是世界上流域面积最广、流量最大的河流——\_\_\_\_\_河,C高原以\_\_\_\_\_气候为主。

(4)从图中纬度位置可以看出,拉丁美洲主要位于五带中的\_\_\_\_\_带,寒带缺失,其气候显著的特征是\_\_\_\_\_。

9. 某学校研究性学习小组搜集了以下资料和欧洲西部地形示意图(左图)、欧洲西部气候示意图(右图),来研究欧洲西部莱茵河的航运价值问题。请你帮他们完成研究。

一般来说,河流的通航里程与河流总长度的比值,可以用来衡量河流通航能力的大小。莱茵河长1320千米,通航里程885千米。



(1)读图可知莱茵河流经的地区的气候属于\_\_\_\_\_气候,受其影响莱茵河的水文特征是\_\_\_\_\_。

(2)从地形图可知欧洲西部莱茵河干流流经地区的地形特点是以\_\_\_\_\_为主,受其影响莱茵河的水文特征是\_\_\_\_\_。

(3)莱茵河所流经的国家就经济发展水平看属于\_\_\_\_\_国家(填“发达”或“发展中”),人口分布特点是\_\_\_\_\_ (填“稠密”或“稀疏”)。

(4)莱茵河通航里程约占其总长度的\_\_\_\_\_ %。

(5)结论:莱茵河的航运价值\_\_\_\_\_。



## 互动评价

自我评价		家长评价
学习时间		
作业质量	对_____题 错_____题	
学习态度	<input type="checkbox"/> 好 <input type="checkbox"/> 良好 <input type="checkbox"/> 一般	
学习效果	<input type="checkbox"/> 好 <input type="checkbox"/> 良好 <input type="checkbox"/> 一般	
我的疑惑		



## 第七章 了解地区

### 一、课标导向

#### 学习目标

1. 在地图上找出某地区的位置、范围、主要国家及其首都,读图说出该地区地理位置的特点。
2. 运用地形图和地形剖面图,归纳某地区地势及地形特点,解释地形与当地人类活动的关系。
3. 运用图表说出某地区气候的特点以及气候对当地农业生产和生活的影响。
4. 运用地形图说明某地区主要河流概况,以及河流对城市分布的影响。
5. 运用地图和资料,指出某地区对当地或世界经济发展影响最大的一种或几种自然资源,说出其分布、生产、出口等情况。
6. 举例说出某地区发展旅游业的优势。
7. 说出某地区最有影响的区域性国际组织。
8. 运用资料描述某地区富有特色的文化习俗。
9. 说出两极地区自然环境的特殊性以及开展科学考察和环境保护的重要性。

#### 知识概览

1. 运用地图找出各地区的地理位置、范围,在图上找出主要国家及其首都。分析东南亚和西亚地理位置的重要性。
2. 比较中南半岛和马来群岛的地形、气候、河流等方面的差异。记住东南亚的重要物产和华人、华侨的分布。
3. 运用南亚地形图描述南亚地形分布特点和两条主要河流的概况。说出南亚热带季风气候的特点及该气候对农业生产的影响。说出南亚宗教、人口的分布和经济发展状况。
4. 运用资料说出西亚的气候特点和对农业生产的影响。记住西亚是世界上阿拉伯人的主要聚居地区之一和三大宗教圣城——耶路撒冷。运用西亚石油海上运输线路图分析石油分布及输出线路。
5. 运用资料说明欧洲西部经济发展状况和丰富的旅游资源。
6. 运用资料说出两极地区的气候特点,记住两极地区的代表动物,掌握在极地经纬网地图上确定位置和辨别方向的方法。运用资料说出科学考察和保护环境的重要性。



## 二、同步导练

### 课时练习 8 中南半岛与马来群岛、马六甲海峡

#### 课前导学

梳理基础 掌握技巧

#### 一、自主学习

1. 位置:东南亚位于亚洲的东南部,包括\_\_\_\_\_半岛和马来群岛的大部分。东南亚处在亚洲与\_\_\_\_\_洲、\_\_\_\_\_洋与\_\_\_\_\_洋的“十字路口”,是世界海洋运输和航空运输的重要枢纽。

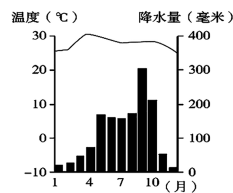
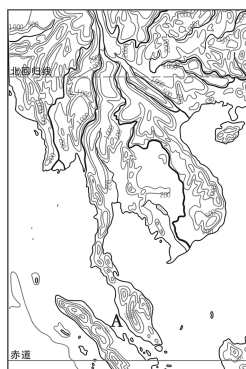
2. 地形:①中南半岛形成了\_\_\_\_\_的地表形态;地势北高南低,河流\_\_\_\_\_流,上游水力资源丰富,下游形成冲积平原,是重要的农业区;\_\_\_\_\_是亚洲流经国家最多的一条国际性河流。②马来群岛地势崎岖,山岭多,平原较少,河流湍急;处于板块与板块交界地带,多\_\_\_\_\_。\_\_\_\_\_是世界上火山最多的国家,有“火山国”之称。

3. 气候:中南半岛以\_\_\_\_\_气候为主,终年高温,一年分为\_\_\_\_\_季(11月到次年5月)和\_\_\_\_\_季(6月到10月)。马来群岛大部分为\_\_\_\_\_气候,终年高温多雨。

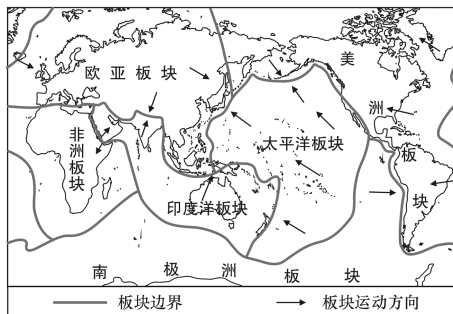
4. 马六甲海峡位于马来半岛和\_\_\_\_\_岛之间,是沟通\_\_\_\_\_洋与\_\_\_\_\_洋的天然水道,也是联结\_\_\_\_\_洲、\_\_\_\_\_洋沿岸港口与\_\_\_\_\_洋西岸港口的重要航道,有“咽喉”和“海上生命线”之称。

#### 二、典例解析

读图一、图二、图三,回答问题。



图一 中南半岛地形图 图二 曼谷年内各月气温与降水量



图三 六大板块示意图

(1)由图一可知,东南亚的中南半岛位于\_\_\_\_\_(填“南”或“北”)半球,西临\_\_\_\_\_洋,图中 A 是\_\_\_\_\_海峡。

(2)由图一可以判断中南半岛的地表形态特征是\_\_\_\_\_。

(3)湄公河有“东方多瑙河”之称,其原因是\_\_\_\_\_。

(4)由图三可知,马来群岛火山、地震活动相当频繁,印度尼西亚被称为“火山国”,其原因是\_\_\_\_\_。

**【解析】**本题解题关键在于读图、析图,从图中找出相关信息。图一是东南亚中南半岛的地形图,从图中纬度位置可以看出,中南半岛位于赤道以北,即位于北半球。中南半岛西临印度洋,图中 A 海峡位于苏门答腊岛和马来半岛之间,是马六甲海峡。从图一中高山和河流由北向南延伸可以判断中南半岛地表形态特征是山河相间,纵列分布,地势北高南低。湄公河流经中国、缅甸、老挝、柬埔寨、泰国、越南等六个国家,是亚洲流经国家最多的河流。由图三可知,马来群岛位于太平洋板块、印度洋板块、欧亚板块的交界处,地壳活跃,多火山、地震。

**【答案】**(1)北 印度 马六甲

(2)山河相间,纵列分布 (3)流经国家多 (4)该地区处于太平洋板块、印度洋板块、欧亚板块的交界处,地壳活跃,多火山、地震

### 课堂导练

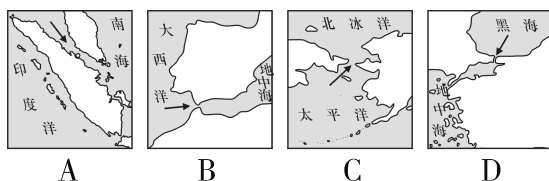
稳打稳扎 夯实基础

1. 有“火山国”之称的国家是

( )

- A. 马来西亚 B. 印度尼西亚  
C. 泰国 D. 菲律宾

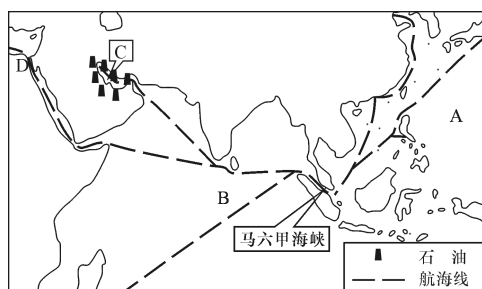
2. 下列四幅图中箭头所示的海峡,表示马六甲海峡的是 ( )



3. 南扼马六甲海峡东口,有“花园城市”美誉的国家是 ( )

- A. 马来西亚 B. 新加坡  
C. 泰国 D. 印度尼西亚

4. 读下图,回答问题。



(1)马六甲海峡地处\_\_\_\_\_地区(亚洲分区),是沟通 A \_\_\_\_\_洋与 B \_\_\_\_\_洋的天然水道。

(2)图中 C 是波斯湾,该地区石油



资源非常丰富,从这里输出的石油向东经\_\_\_\_\_海峡输往\_\_\_\_\_和中国。

(3) D 表示\_\_\_\_\_运河,它是亚洲与\_\_\_\_\_洲的分界线,也是重要的海上通道。

**课后提升**

知能升级 触类旁通

5. 东南亚是世界上重要的水稻出口地区,该地区适宜水稻生长的气候条件是 ( )

- A. 山河相间,纵列分布
- B. 全年高温,降水丰富
- C. 河流密布,水能丰富
- D. 夏季炎热干燥,冬季温和多雨

“我住江之头,君住江之尾……山山皆向北,条条南流水。”据此回答 6~8 题。

6. 诗句描述的是以下哪个地方的地形、河流特点 ( )

- A. 印度半岛
- B. 阿拉伯半岛
- C. 马来群岛
- D. 中南半岛

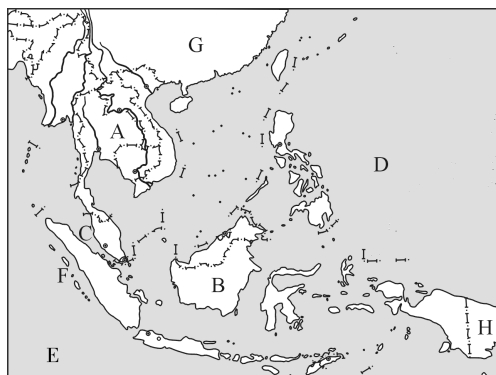
7. 该地区的气候类型主要是 ( )

- A. 热带草原气候
- B. 热带雨林气候
- C. 热带季风气候
- D. 亚热带季风气候

8. 流经该地区的最著名的一条国际性河流是 ( )

- A. 湄公河
- B. 湄南河
- C. 红河
- D. 恒河

9. 读东南亚略图,回答问题。



(1) 写出图中字母所代表的地理事物名称。

- A. \_\_\_\_\_ 半岛;
- B. \_\_\_\_\_ 群岛;
- C. \_\_\_\_\_ 海峡;
- D. \_\_\_\_\_ 洋;
- E. \_\_\_\_\_ 洋;
- G. \_\_\_\_\_ 洲;
- H. \_\_\_\_\_ 洲。

(2) 半岛 A 的地形特征是\_\_\_\_\_, 群岛 B 的地形特征是\_\_\_\_\_。F 处常发生海啸, 原因是\_\_\_\_\_。

(3) 半岛 A 以\_\_\_\_\_气候为主, 群岛 B 大部分地区属于\_\_\_\_\_气候。



## 课时练习9 东南亚的物产和人文

## 课前提学

梳理基础 掌握技巧

## 一、自主学习

1. 富饶的物产:东南亚是世界上热带经济作物的重要产地,\_\_\_\_、\_\_\_\_、棕油、椰油、蕉麻等的产量及出口量均居世界前列。印度尼西亚、泰国、马来西亚是橡胶生产大国。\_\_\_\_是重要的石油输出国。\_\_\_\_、马来西亚等国的锡产量居世界前列。

2. 稻米是当地居民的主要食粮。\_\_\_\_、越南、缅甸是世界上重要的稻米出口国。

3. 东南亚的国家大多与我国相邻或隔海相望,主要国家有位于中南半岛上的\_\_\_\_、\_\_\_\_、\_\_\_\_(与我国相邻)和\_\_\_\_、柬埔寨,位于马来群岛上的菲律宾、印度尼西亚、\_\_\_\_、文莱(与我国隔海相望)和\_\_\_\_、东帝汶等。

4. 人文:东南亚人口稠密,集中分布在冲积平原、河口三角洲以及\_\_\_\_;是世界上\_\_\_\_的最大聚居地,\_\_\_\_、福建被称为“侨乡”。

## 二、典例解析

共饮一江水,同念澜湄情。澜湄合作启动以来,发展迅速,成果显著,成功打造了区域合作的“金色样板”,特别是在水资源领域合作成果丰硕。据此回答1~2题。



1. 下列有关湄公河流域降水特征的叙述,正确的是 ( )

- A. 年降水量较小,且季节分配不均
- B. 年降水量丰富,主要集中在冬季
- C. 年降水量丰富,但季节分配不均
- D. 年降水量较小,主要集中在夏季

2. 越南等国利用湄公河水灌溉的农田主要是 ( )

- A. 麦田
- B. 稻田
- C. 玉米田
- D. 西瓜田

**【解析】**湄公河流域属于热带季风气候,年降水量较大,但降水季节变化

大、年际变化大,易形成旱涝灾害。东南亚各国普遍种植水稻,稻米是当地居民的主要食粮,所以越南等国利用湄公河水灌溉的农田主要是稻田。

【答案】1. C 2. B

### 课堂导练

稳打稳扎 夯实基础

1. 东南亚许多城市都沿河分布。下列组合正确的一组是 ( )

- A. 柬埔寨的金边——湄公河
- B. 泰国的曼谷——湄公河
- C. 老挝的万象——湄南河
- D. 越南的河内——萨尔温江

2. 与中国陆上相邻的东南亚国家的首都分别是 ( )

- A. 河内、万象、内比都
- B. 金边、曼谷、新加坡
- C. 吉隆坡、金边、曼谷
- D. 河内、内比都、曼谷

3. 与我国相邻的位于东南亚的内陆国是 ( )

- A. 蒙古
- B. 老挝
- C. 越南
- D. 印度

4. 读下列材料,回答问题。

东南亚各国是中国的近邻,该地区由中南半岛和马来群岛的大部分组成,是世界上主要的稻米和天然橡胶、油棕等热带作物的产区。



(1) 写出图中字母代表的地理事物名称。

- A. \_\_\_\_\_ (城市);
- B. \_\_\_\_\_ (海峡);
- C. \_\_\_\_\_ (河流);
- D. \_\_\_\_\_ (国家)。

(2) 该地区是世界上重要的天然橡胶生产地。请从气候和劳动力两方面分析该地区生产天然橡胶的有利条件。

### 课后提升

知能升级 触类旁通

假如我国某经贸代表团于今年7月份赴东南亚采购货物,并观光考察。据此回答5~6题。

5. 该代表团的随行物品中,最不需要准备的是 ( )

A. 雨伞 B. 御寒衣物

C. 摄像机 D. 地图

6. 下列产品最有可能出现在订货合同中的是 ( )

A. 棉花、小麦

B. 天然橡胶、椰子

C. 蔬菜、牛奶

D. 黄麻、棕榈油

7. 中国—东盟自由贸易区内的国际性河流是 ( )

A. 湄公河

B. 湄南河

C. 伊洛瓦底江

D. 长江

8. 东南亚是世界上海外华人的最大聚居地,华人和华侨的祖先最多的两省是 ( )

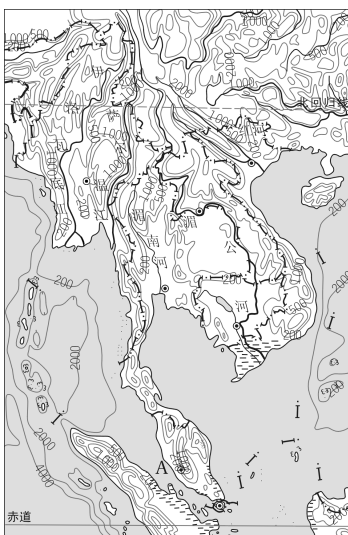
A. 湖南、江西

B. 台湾、福建

C. 云南、海南

D. 广东、福建

9. 读东南亚部分地形示意图,回答问题。



(1) 根据图中信息分析,中南半岛上山脉与河流分布的特点是\_\_\_\_\_。

(2) 图中字母 A 为 \_\_\_\_\_ 海峡,位于 \_\_\_\_\_ 半岛和 \_\_\_\_\_ 岛之间。

(3) 位于东南亚的 \_\_\_\_\_、\_\_\_\_\_ 和 \_\_\_\_\_ 是世界上重要的稻米出口国,试分析该地区成为世界主要稻米产区的原因。

①地形方面:河流下游 \_\_\_\_\_。

②气候方面: \_\_\_\_\_。

③劳动力方面:人口稠密,劳动力充足。

④生活习惯:长期以来,稻米是当地居民的主食。

(4) 目前世界上拥有消费者最多和覆盖面积最大的自由贸易区是 \_\_\_\_\_,它与 \_\_\_\_\_、北美自由贸易区并称为“世界三大区域经济合作区”。\_\_\_\_\_ 河流域的共同开发和经济合作成为国际社会关注的新热点。





## 课时练习 10 南亚的位置、国家、地形和河流

### 课 前 导 学

梳理基础 掌握技巧

### 一、自主学习

1. 位置:南亚位于亚洲南部 \_\_\_\_\_ 山脉中、西段与印度洋之间,东濒 \_\_\_\_\_ 湾,西临阿拉伯海。南亚又称 \_\_\_\_\_。

2. 南亚地区包括 \_\_\_\_\_、\_\_\_\_\_、尼泊尔、不丹(与我国相邻)、孟加拉国、斯里兰卡、马尔代夫七个国家和 \_\_\_\_\_ 地区。

3. 南亚的三大地形区:北部是高大的 \_\_\_\_\_ 山脉,中部是 \_\_\_\_\_ 平原和恒河平原,南部是 \_\_\_\_\_ 高原。

4. 南亚的两大河流:印度河主要流经 \_\_\_\_\_,注入 \_\_\_\_\_;恒河主要流经 \_\_\_\_\_,注入 \_\_\_\_\_。

### 二、典例解析

1. 下列南亚国家与我国有不连续国界的是 ( )

- A. 巴基斯坦      B. 印度  
C. 尼泊尔      D. 孟加拉国

2. 下列关于南亚的叙述,正确的是 ( )

- A. 位于阿尔卑斯山脉以南  
B. 印度河自西北向东南流,注入

孟加拉湾

C. 印度河主要流经巴基斯坦,注入阿拉伯海

D. 南亚地势北高南低,由北向南倾斜

**【解析】**从南亚国家和地区分布图中可以看出印度与我国有不连续国界。南亚位于喜马拉雅山脉以南;印度河自东北向西南流,主要流经巴基斯坦,注入阿拉伯海;恒河自西北向东南流,注入孟加拉湾;南亚地形分为三大地形区:北部是高大的喜马拉雅山脉,中部是印度河平原和恒河平原,南部是德干高原,故地势特点为北部高,中部低,南部高。

**【答案】**1. B    2. C

### 课 堂 导 练

稳打稳扎 夯实基础

1. 南亚面积最大的国家是 ( )

- A. 巴基斯坦      B. 尼泊尔  
C. 孟加拉国      D. 印度

2. 南亚东部濒临 ( )

- A. 阿拉伯海      B. 孟加拉湾  
C. 波斯湾      D. 马六甲海峡

3. 南亚最主要的地形是 ( )

- A. 高原、平原      B. 山地、丘陵  
C. 高原、盆地      D. 平原、丘陵



4. 位于南亚南部的地形区是

( )

A. 喜马拉雅山脉 B. 恒河平原

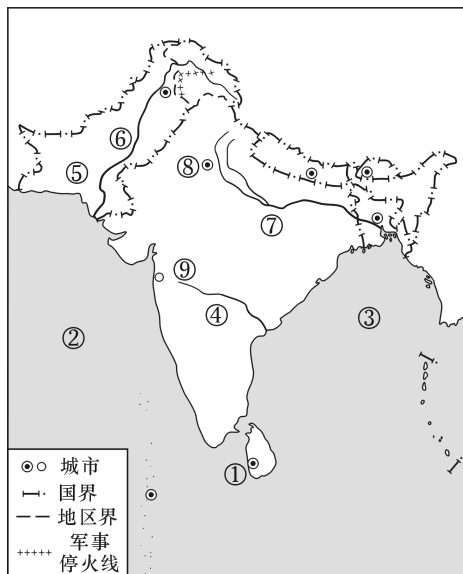
C. 刚果盆地 D. 德干高原

5. 印度河是哪个国家的主要灌溉水源 ( )

A. 印度 B. 巴基斯坦

C. 阿富汗 D. 孟加拉国

6. 读南亚略图,回答问题。



(1) 写出图中数字所代表的地理事物名称。

海洋: ① \_\_\_\_\_ 洋;

② \_\_\_\_\_ 海;

③ \_\_\_\_\_ 湾。

国家: ④ \_\_\_\_\_;

⑤ \_\_\_\_\_。

城市: ⑧ \_\_\_\_\_;

⑨ \_\_\_\_\_。

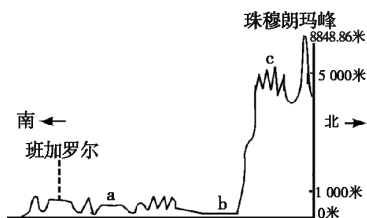
(2) 填表比较河流⑥和⑦。

数码	⑥	⑦
河流名称		
流经国家		
河流流向		
注入海洋		

课后提升

知能升级 触类旁通

读沿 78°E 线南亚地形剖面图, 回答 7~8 题。



7. 下列叙述正确的是 ( )

A. 该地形区南面濒临太平洋

B. 德干高原地势北高南低

C. 南亚的地形分为三个部分

D. c 地形区为横断山脉

8. 流经 b 地形区的河流是 ( )

A. 长江

B. 印度河

C. 恒河

D. 湄公河



## 课时练习 11 南亚的气候与农业、宗教与社会、人口与经济

### 课 前 导 学

梳理基础 掌握技巧

#### 一、自主学习

1. 南亚大部分地区属\_\_\_\_\_气候,一年分为三季。3月至5月为\_\_\_\_\_,西南季风尚未来临,高温少雨;6月至10月为\_\_\_\_\_,受来自印度洋的\_\_\_\_\_季风影响,湿热多雨;11月到次年2月为\_\_\_\_\_,盛行干燥的\_\_\_\_\_风,气候凉爽宜人。

2. 南亚农业以\_\_\_\_\_种植为主,主要分布于印度\_\_\_\_\_部和西部沿海地区、孟加拉国西部;小麦主要分布在\_\_\_\_\_部干旱少雨地区;黄麻主要分布于\_\_\_\_\_下游地区;\_\_\_\_\_主要分布于德干高原西部地区。印度发展农业的有利条件为平原面积广,\_\_\_\_\_多,热量充足,河流提供灌溉水源。不利条件是由于西南季风到来的时间和强弱程度不一,降水的年际变化大,多\_\_\_\_\_灾害;人口压力大。

3. 南亚是古代文明发源地之一,是\_\_\_\_\_教、印度教的发源地。

4. 南亚是世界人口最稠密的地区之一,\_\_\_\_\_,巴基斯坦、孟加拉国人口超过1亿。

5. 印度是南亚经济发展最快的国家,工业门类齐全。近20多年来,印度的\_\_\_\_\_、生物技术以及\_\_\_\_\_等高科技产业发展迅速。

#### 二、典例解析

日本某服装公司需要从印度购买大批棉纺织品,采购员前往的城市最有可能是 ( )

- A. 孟买                      B. 新德里  
C. 加尔各答                D. 班加罗尔

**【解析】**德干高原西部地区由于降水较少,是印度主要的棉花种植区,孟买临近棉花产地,是印度最大的棉纺织工业中心。

**【答案】**A

### 课 堂 导 练

稳打稳扎 夯实基础

1. 给南亚农业生产带来水源的是 ( )

- A. 西北季风                B. 东南季风  
C. 东北季风                D. 西南季风

2. 丽姐说:“我的祖国是一个文明古国。在那儿,美丽的泰姬陵静静地矗立在艳阳下,悠悠恒河水缓缓流淌而过。”丽姐的祖国是 ( )

- A. 埃及                      B. 希腊  
C. 伊拉克                    D. 印度

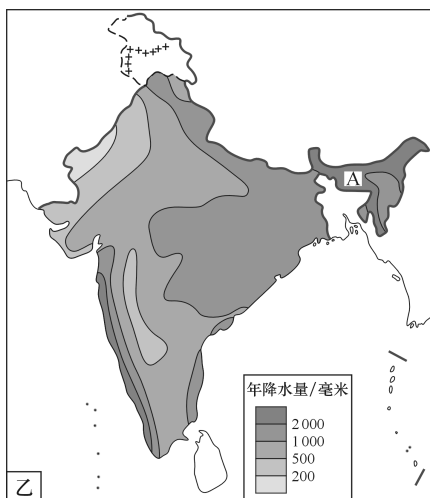
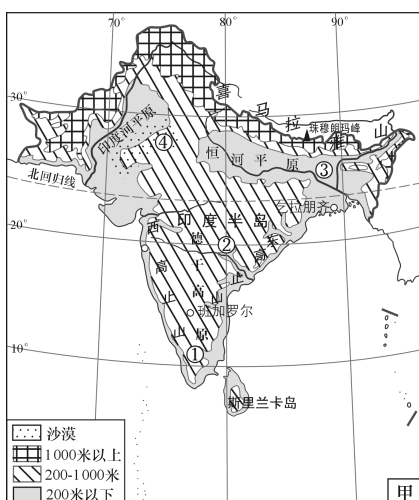


3. 印度茶叶、黄麻、甘蔗、粮食、棉花、油料等农产品的产量都居世界前列,但出口量却很少,其主要原因是

( )

- A. 工业发达,需要的原料多
- B. 畜牧业发达,饲料需求多
- C. 自然灾害频繁,产量不稳定
- D. 人口众多,消耗的农产品多

甲图是南亚地形分布图,乙图是印度年降水量分布图,读图回答4~5题。



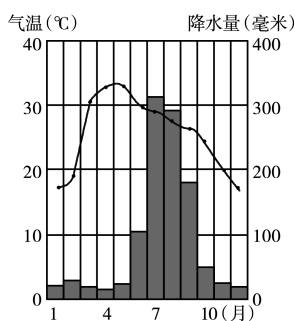
4. 在印度年降水量分布图中,A地降水十分丰富,其原因是 ( )

- A. 位于西南季风迎风坡
- B. 位于东北季风迎风坡
- C. 海拔高
- D. 位于赤道附近

5. 按因地制宜发展农业的原则,在印度发展水稻种植的最佳区域应该是甲图中的 ( )

- A. ①地
- B. ②地
- C. ③地
- D. ④地

6. 读印度北部城市安拉阿巴德的各月气温状况和降水分布示意图,回答问题。



(1)从图中可以看出,安拉阿巴德3月至5月气温高达\_\_\_\_℃以上,而降水\_\_\_\_,为\_\_\_\_季;6月至10月气温在20~30℃之间,降水量占到全年总降水量的80%~90%,表现出\_\_\_\_的特点,为\_\_\_\_季,其原因是这一时期主要受\_\_\_\_季风的控制;从11月到次年2月,气温在\_\_\_\_℃以下,气候凉爽宜人,为\_\_\_\_季,其原因是这一时期盛行干

燥的\_\_\_\_\_季风。

(2) 安拉阿巴德所属气候类型是\_\_\_\_\_气候,其气候最显著的特征是\_\_\_\_\_。

(3) 安拉阿巴德位于北半球,理论上说7月最热,可却是5月气温最高,其原因是\_\_\_\_\_。

**课后提升** 知能升级 触类旁通

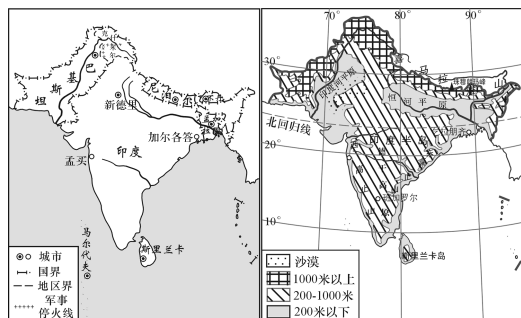
7. 南亚是一块充满神奇的土地,曾经孕育了世界古文明,产生了佛教、印度教等宗教。下列关于南亚的描述,不属实的是 ( )

- A. 南亚地形分布特点是北部山地、中部平原、南部高原
- B. 印度河主要流经印度,恒河主要流经巴基斯坦
- C. 南亚的农作物主要有水稻、小麦、黄麻、棉花等
- D. 印度是南亚经济发展最快的国家

8. 近年来,印度的班加罗尔地区发展迅速,该地区的主导工业为 ( )

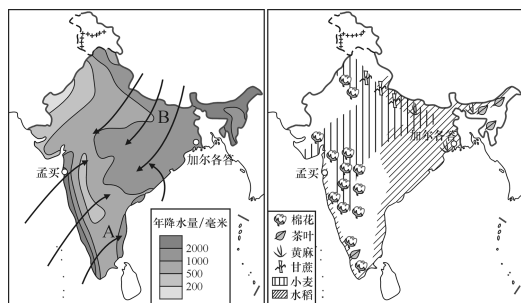
- A. 钢铁工业
- B. 纺织工业
- C. 电力工业
- D. 电子工业

9. 读下列四幅略图,回答问题。



图一

图二



图三

图四

(1) 南亚面积最大的国家是\_\_\_\_\_,该国的地形主要以海拔1 000 米以下的\_\_\_\_\_为主,地势较低平,耕地面积广大。

(2) 印度河主要流经\_\_\_\_\_ (国家),为\_\_\_\_\_平原提供丰富的灌溉水源。

(3) 图三中 A 是\_\_\_\_\_季风,它影响南亚的时间是\_\_\_\_\_,此时南亚处于\_\_\_\_\_季; B 是\_\_\_\_\_季风,当它盛行时,南亚为\_\_\_\_\_季。

(4) \_\_\_\_\_是南亚经济发展最快的国家,结合图四分析图一中的孟买和加尔各答两个城市,为印度最大的麻纺织工业中心的是\_\_\_\_\_,为棉纺织工业中心的是\_\_\_\_\_。

## 课时练习 12 五海三洲之地和干旱环境中的农牧业

### 课前导学

梳理基础 掌握技巧

### 一、自主学习

1. 西亚地处\_\_\_\_\_三大洲的交界地带,位于\_\_\_\_\_海、红海、地中海、黑海和里海(内陆湖)之间,被称为“\_\_\_\_\_”。

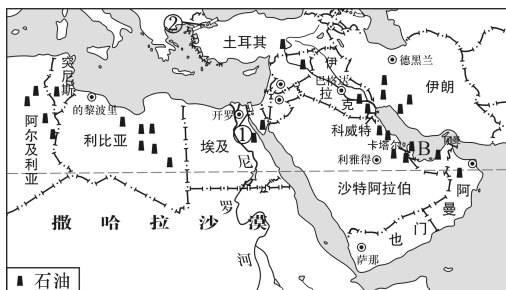
\_\_\_\_\_海峡、\_\_\_\_\_海峡(“世界油阀”)是西亚两个重要的海峡。从纬度位置看,西亚主要位于 $15^{\circ}\text{N}\sim 45^{\circ}\text{N}$ ,北回归线从其南部穿过。

2. 西亚以\_\_\_\_\_气候和温带大陆性气候为主,地中海沿岸属于地中海气候。西亚气候炎热干燥,\_\_\_\_\_面积广大,北部有较多草原。西亚形成了以\_\_\_\_\_为主的自然环境。

3. \_\_\_\_\_业是西亚许多国家传统的经济部门。土耳其的\_\_\_\_\_、阿富汗的\_\_\_\_\_很著名,阿富汗、\_\_\_\_\_的羊毛地毯是重要出口商品。西亚降水稀少,农作物需要引水灌溉,因而农业多分布在\_\_\_\_\_和沙漠中的绿洲上,\_\_\_\_\_平原是西亚主要的灌溉农业区。\_\_\_\_\_的节水农业比较成功。

### 二、典例解析

读下图,据图回答 1~2 题。



1. 图中①和②既是大洲的分界线,又是战略交通要道,它们是( )

- A. ①苏伊士运河、②土耳其海峡
- B. ①巴拿马运河、②白令海峡
- C. ①苏伊士运河、②马六甲海峡
- D. ①巴拿马运河、②土耳其海峡

2. B 处的石油外运的唯一海上出口是( )

- A. 直布罗陀海峡 B. 土耳其海峡
- C. 马六甲海峡 D. 霍尔木兹海峡

**【解析】**此图是西亚、北非部分示意图,图中①是亚、非分界线苏伊士运河,它联结地中海与红海,是沟通大西洋与印度洋的战略交通要道;②是亚、欧分界线土耳其海峡,它是黑海出入地中海的门户。B 处是波斯湾,该地石油资源极其丰富,而它海上的唯一出口是霍尔木兹海峡。

**【答案】**1. A 2. D





课堂导练

稳打稳扎 夯实基础

1. 西亚地处“五海三洲之地”，其中“五海”中不是真正的海的是( )

- A. 阿拉伯海 B. 红海  
C. 黑海 D. 里海

2. 被称为“世界油阀”的海峡是

( )

- A. 土耳其海峡  
B. 霍尔木兹海峡  
C. 直布罗陀海峡  
D. 马六甲海峡

3. 有关西亚气候特征的说法,正确的是 ( )

- A. 炎热干燥,沙漠面积广大  
B. 高温多雨,季风气候显著  
C. 温暖湿润,海洋性特征强  
D. 寒冷干燥,大陆性特征强

4. 西亚水资源匮乏的主要原因是

( )

- A. 人口密度大  
B. 水资源浪费严重  
C. 降水少,河流少  
D. 水污染严重

5. 下列各项中,属于阿富汗、伊朗等国的重要出口商品的是 ( )

- A. 稻米 B. 羊毛地毯  
C. 咖啡 D. 黄麻

6. 节水农业取得显著成就的国家是 ( )

A. 伊拉克 B. 沙特阿拉伯

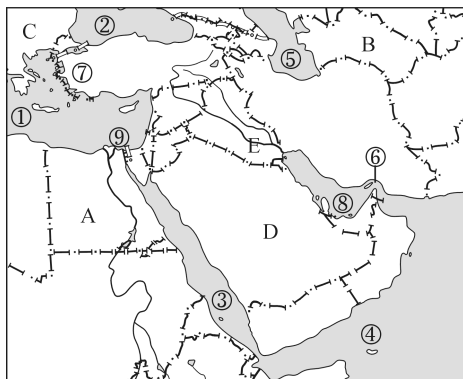
C. 以色列 D. 科威特

7. 下列西亚国家中属世界上著名的椰枣生产国的是 ( )

A. 伊朗 B. 沙特阿拉伯

C. 科威特 D. 伊拉克

8. 读下图,回答问题。



(1) 西亚被称为“五海三洲之地”，其中“五海”指①\_\_\_\_\_、②\_\_\_\_\_、③\_\_\_\_\_、④\_\_\_\_\_、⑤\_\_\_\_\_；“三洲”指 A \_\_\_\_\_、B \_\_\_\_\_、C \_\_\_\_\_。

(2) 图中⑥是\_\_\_\_\_海峡,为⑧\_\_\_\_\_ (海湾) 船只唯一的出入通道,战略地位尤为突出;⑦是\_\_\_\_\_海峡,它是黑海出入\_\_\_\_\_海的门户;⑨是\_\_\_\_\_运河,它不但是亚洲和\_\_\_\_\_洲的分界线,而且大大缩短了北大西洋到\_\_\_\_\_洋的航程。

(3) D 是\_\_\_\_\_半岛,半岛上没有河流,其原因是\_\_\_\_\_。

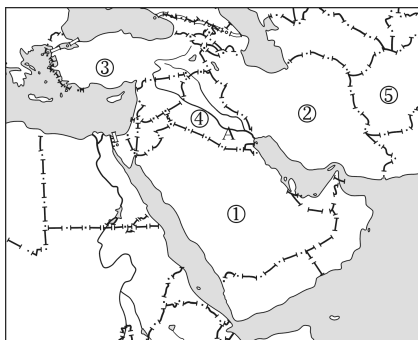
(4) 西亚在\_\_\_\_\_的自然环境

条件下发展了\_\_\_\_\_业和灌溉农业,图中E\_\_\_\_\_平原是西亚主要的灌溉农业区。

课后提升

知能升级 触类旁通

读下图,回答9~11题。



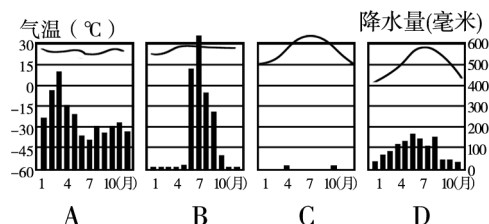
9. 关于该地区的特产和国家组合,正确的是 ( )

- A. 紫羊羔皮——⑤国
- B. 安卡拉羊毛——②国
- C. 羊毛地毯——④国
- D. 椰枣——③国

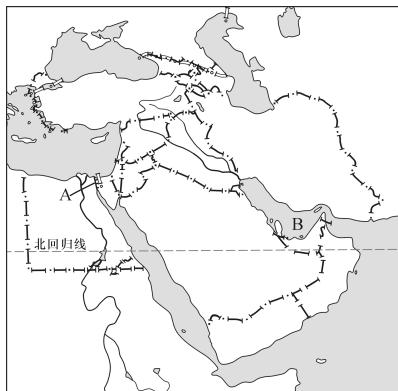
10. 图中的灌溉农业区A是 ( )

- A. 印度河平原
- B. 恒河平原
- C. 美索不达米亚平原
- D. 伊朗高原

11. 下列四幅气候资料图中,能正确反映①国主要气候类型的是 ( )



12. 读下图,回答问题。



(1) 写出图中字母所代表的地理事物名称。

运河:A. \_\_\_\_\_;

海域:B. \_\_\_\_\_。

(2) 西亚地区大部分居民通用的语言是\_\_\_\_\_。

(3) 西亚地区水资源匮乏,为解决西亚地区的水资源危机,同学们围坐在一起出谋划策。以下同学的建议,最适合解决当地水资源危机的是 ( )

- A. 甲:兴修大量的水库,用来调剂河流水量和蓄积降水
- B. 乙:兴修跨流域调水工程,将水量较大的河流的水引入极度干旱的国家
- C. 丙:积极勘探地下水
- D. 丁:努力发展节水农业



## 课时练习 13 阿拉伯国家与世界石油宝库

### 课前导学

梳理基础 掌握技巧

### 一、自主学习

1. 居民和宗教: 西亚居民以 \_\_\_\_\_ 人种为主, 主要为阿拉伯民族, 讲 \_\_\_\_\_ 语, 信仰伊斯兰教。西亚是 \_\_\_\_\_ 教、\_\_\_\_\_ 教、犹太教的发源地。麦加大清真寺是世界上规模最大的清真寺, \_\_\_\_\_ 是“三教圣城”。

### 2. 世界石油宝库

(1) 储量、产量和输出量居世界首位。

(2) 石油宝库: 西亚石油主要分布在 \_\_\_\_\_ 及其沿岸地区, 主要产油国有 \_\_\_\_\_、伊朗、\_\_\_\_\_、阿拉伯联合酋长国和伊拉克等, 西亚开采的石油主要输往 \_\_\_\_\_ 以及美国、日本等国家, \_\_\_\_\_ 海峡被称为“世界油阀”。

### (3) 石油输出线路

西线 1: 波斯湾→霍尔木兹海峡→阿拉伯海(印度洋)→曼德海峡→红海→ \_\_\_\_\_ 运河→地中海→ \_\_\_\_\_ 海峡→北大西洋→西欧、北美

西线 2: 波斯湾→霍尔木兹海峡→阿拉伯海(印度洋)→非洲南端 \_\_\_\_\_

\_\_\_\_\_ → \_\_\_\_\_ 洋→西欧、\_\_\_\_\_

东线: 波斯湾→霍尔木兹海峡→ \_\_\_\_\_ 洋→ \_\_\_\_\_ 海峡→ \_\_\_\_\_ 洋→日本

3. 世界热点地区: 西亚因地理位置非常重要、\_\_\_\_\_ 资源缺乏、\_\_\_\_\_ 信仰不同、争夺 \_\_\_\_\_ 资源而成为世界热点地区。

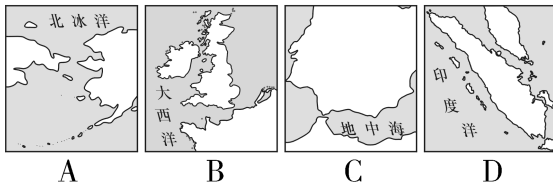
### 二、典例解析

石油在国际市场上起着举足轻重的作用, 石油价格的变化影响着全球经济的走向, 受到各国普遍关注。据此回答 1~2 题。

1. 目前世界上石油储量最大、生产和输出石油最多的地区是 ( )

- A. 欧洲西部 B. 西亚  
C. 东南亚 D. 墨西哥湾沿岸

2. 中国某石油公司从该地区进口大批储备石油, 进货油轮必须经过的海峡是 ( )



【解析】西亚石油的探明储量约占世界的一半以上, 产量约占世界总产





量的  $\frac{1}{4}$ , 出口量约占世界出口量的  $\frac{3}{5}$ 。图中 A 为白令海峡, B 为英吉利海峡, C 为直布罗陀海峡, D 为马六甲海峡。

【答案】1. B 2. D

### 课堂导练

稳打稳扎 夯实基础

1. 西亚地区是阿拉伯人主要聚居地之一, 其人种主要是 ( )

- A. 黑色人种      B. 黄色人种  
C. 白色人种      D. 混血人种

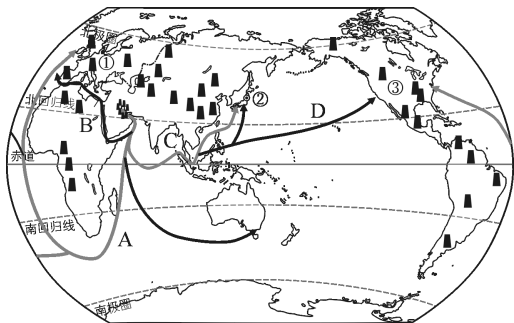
2. 西亚居民大多数信仰的宗教是 ( )

- A. 犹太教      B. 伊斯兰教  
C. 佛教      D. 基督教

3. 被犹太教、伊斯兰教和基督教都奉为圣城的是 ( )

- A. 麦加      B. 德黑兰  
C. 耶路撒冷      D. 开罗

4. 读西亚石油海上运输线路示意图, 回答问题。



(1) 从图中可以看出, 世界海上运输的石油主要来自西亚的 \_\_\_\_\_ 及其沿岸地区。

(2) 写出西亚石油海上运输线路。

线路 A: 波斯湾 → 霍尔木兹海峡 → 印度洋 → 非洲南端 \_\_\_\_\_ 角 → \_\_\_\_\_ 洋 → ① \_\_\_\_\_ 和 ③ \_\_\_\_\_。

线路 B: 波斯湾 → 霍尔木兹海峡 → \_\_\_\_\_ 海 → 红海 → \_\_\_\_\_ 运河 → \_\_\_\_\_ 海 → 直布罗陀海峡 → \_\_\_\_\_ 洋 → ① 和 ③。

线路 C: 波斯湾 → 霍尔木兹海峡 → 阿拉伯海 → 印度洋 → \_\_\_\_\_ 海峡 → \_\_\_\_\_ 洋 → ② \_\_\_\_\_。

图中 A、B 两条线路中, 石油运输量较大的是 \_\_\_\_\_ 线路, 距离较近的是 \_\_\_\_\_ 线路。

(3) 如果西亚的石油减产, 下列国家中, 受影响最大的是 ( )

- A. 俄罗斯      B. 印度  
C. 日本      D. 新加坡

### 课后提升

知能升级 触类旁通

5. 下列西亚国家中, 石油资源相对较少的是 ( )

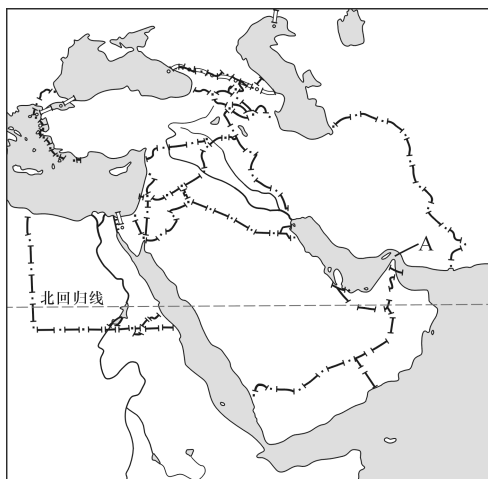
- A. 沙特阿拉伯      B. 伊拉克  
C. 伊朗      D. 也门

6. 西亚大多数民居房屋墙厚、窗小、色浅, 这是因为 ( )

- A. 受地形的影响  
B. 受宗教习惯的影响  
C. 抵御冬季的寒冷  
D. 适应炎热干燥多风沙的气候



读世界某地区图,回答7~8题。



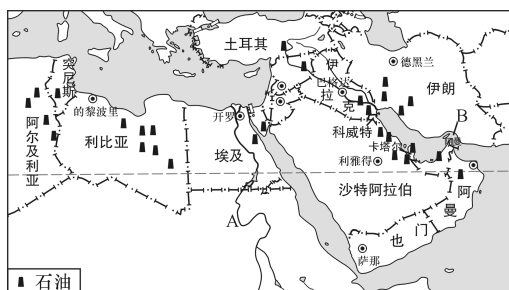
7. 通过 A 海峡的货轮运输的矿产主要是 ( )

- A. 铁矿石      B. 煤炭  
C. 锡矿石      D. 石油

8. 该地区具有高航运价值和重要战略地位的水道是 ( )

- A. 苏伊士运河  
B. 巴拿马运河  
C. 直布罗陀海峡  
D. 白令海峡

9. 读西亚和北非部分地区示意图,回答问题。



(1) 写出图中字母代表的地理事物名称。

大洲:A. \_\_\_\_\_;

海峡:B. \_\_\_\_\_。

(2) 本区多数居民信仰的宗教是 \_\_\_\_\_ 教。

(3) 本区石油资源十分丰富。据图中信息分析,石油主要集中分布在 \_\_\_\_\_ 及其沿岸地区以及利比亚、阿尔及利亚等北非国家。

(4) 在任何情况下,B 海峡都不能封锁的原因是 \_\_\_\_\_。

(5) 本区自然环境的主要特征是 \_\_\_\_\_,在这种自然环境下,农业多分布在 \_\_\_\_\_ 和沙漠中的绿洲上。

(6) 本区域长期以来战争不断,频繁的冲突使这里成为世界关注的焦点。请你联系所学地理知识分析其原因: \_\_\_\_\_。

\_\_\_\_\_。(列举一点)





## 课时练习 14 欧洲西部

## 课前导学

梳理基础 掌握技巧

## 一、自主学习

1. 位置与范围:欧洲西部指的是欧洲的西半部,主要位于\_\_\_\_\_(东或西)半球,北临\_\_\_\_\_洋,南临地中海,西濒\_\_\_\_\_洋,包括30多个国家。

2. 欧洲联盟:欧洲联盟经济实力大体与美国相当,在国际上发挥着重要作用,其成员国大多数使用统一的货币——\_\_\_\_\_。

3. 欧洲西部是资本主义的发源地,发达国家最多,经济发展水平居世界前列。①工业生产规模大,综合实力雄厚,集中了\_\_\_\_\_,\_\_\_\_\_、英国、意大利等工业大国。②农业所占比重较小,但生产水平高,\_\_\_\_\_与\_\_\_\_\_结合较好,集约化程度高。

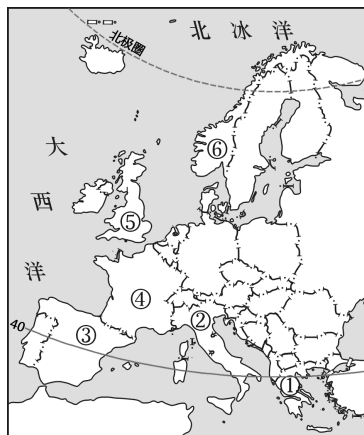
③特色产业:\_\_\_\_\_主要生产精密仪器和钟表,有“钟表王国”之称;\_\_\_\_\_的优质钢材、造船业、汽车、机器制造业享誉世界;\_\_\_\_\_乳畜业发达,有“欧洲的牧场和食品库”之称;\_\_\_\_\_的海洋渔业和\_\_\_\_\_的花卉种植业非常发达。④形成了庞大的交通运输网络,海运、内河航运、公

路、铁路、航空均发达。

4. 繁荣的旅游业:欧洲西部是国际旅游业最发达的地区,\_\_\_\_\_,西班牙、\_\_\_\_\_是欧洲三大著名的旅游国。\_\_\_\_\_——陡峻幽深的峡湾、观看午夜太阳;\_\_\_\_\_——阿尔卑斯山滑雪、“世界公园”、“世界表都”伯尔尼;\_\_\_\_\_——地中海阳光、沙滩,斗牛比赛;\_\_\_\_\_——田园风光、“艺术之都”巴黎、戛纳电影节;\_\_\_\_\_——“千年古都”罗马、比萨斜塔、水城威尼斯、庞贝古城、狂欢日;\_\_\_\_\_——“音乐之都”维也纳;德国——慕尼黑啤酒节;\_\_\_\_\_——伦敦塔桥、大本钟、马克思墓地;\_\_\_\_\_——郁金香、风车。

## 二、典例解析

读欧洲西部略图,结合所学地理知识,回答问题。







(1) 欧洲西部大部分位于地球五带中的\_\_\_\_\_带,西临\_\_\_\_\_洋。

(2) 根据经济发展水平的高低,欧洲西部大多数国家属于\_\_\_\_\_国家。这些国家为实现更广泛的经济和政治联合及一体化而建立的区域性国际组织是\_\_\_\_\_。

(3) 小明打算暑假到欧洲西部旅游,如果想乘船游览陡峻幽深的峡湾,他应选择去的国家是\_\_\_\_\_,参观“千年古都”罗马应选择去的国家是\_\_\_\_\_。(填图中数码和国家名称)

**【解析】**从图中可知,欧洲西部大部分位于  $40^{\circ}\text{N}\sim 66.5^{\circ}\text{N}$  之间,大部分位于五带中的北温带,西临大西洋;本区经济实力雄厚,经济发展水平高,大多为发达国家;这些国家为实现更广泛的经济和政治联合及一体化建立了欧洲联盟。本区是国际旅游业最发达的地区,旅游资源丰富,如挪威陡峻幽深的峡湾、意大利的“千年古都”罗马等。图中数码代表的国家是①希腊、②意大利、③西班牙、④法国、⑤英国、⑥挪威。

**【答案】**(1) 北温 大西 (2) 发达 欧洲联盟 (3) ⑥挪威 ②意大利

### 课堂导练

稳打稳扎 夯实基础

1. 关于欧洲西部的说法,不正确的是 ( )

- A. 是指欧洲的西半部分
- B. 是世界人口稠密的地区之一
- C. 西临大西洋,北临北冰洋
- D. 欧洲西部就是指欧洲联盟

2. 下列欧洲西部国家与其首都连线错误的是 ( )

- A. 英国——伦敦
- B. 荷兰——鹿特丹
- C. 意大利——罗马
- D. 法国——巴黎

3. 既临大西洋又临地中海的欧洲国家是 ( )

- A. 意大利和希腊
- B. 德国和波兰
- C. 法国和西班牙
- D. 法国和葡萄牙

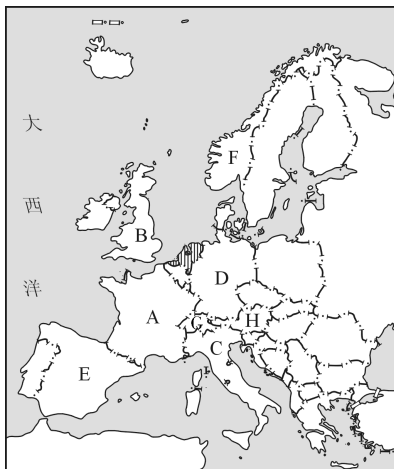
4. 目前发达国家最多,经济发展水平最高的大洲是 ( )

- A. 北美洲
- B. 欧洲
- C. 亚洲
- D. 大洋洲

5. 荷兰的特色产业是 ( )

- A. 行销世界的畜牧业产品
- B. 优质钢材冶炼业
- C. 发达的灌溉农业
- D. 驰名世界的郁金香花卉种植业

## 6. 读欧洲西部略图,回答问题。



(1) 写出图中字母所代表的欧洲西部四个工业大国的名称。

A. \_\_\_\_\_; B. \_\_\_\_\_;

C. \_\_\_\_\_; D. \_\_\_\_\_。

(2) 写出下列旅游活动应去的国家。(填字母)

①乘船游览峡湾,观看午夜太阳,应去\_\_\_\_\_;

②游览水城威尼斯,参观庞贝古城,应去\_\_\_\_\_;

③在世界“音乐之都”欣赏音乐,应去\_\_\_\_\_;

④去阿尔卑斯山滑雪,参观“世界表都”,应去\_\_\_\_\_;

⑤登埃菲尔铁塔,在罗浮宫欣赏名画《蒙娜丽莎》,应去\_\_\_\_\_;

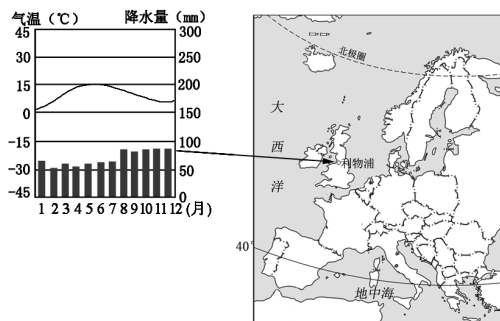
⑥享受地中海阳光灿烂的沙滩,看斗牛比赛,应去\_\_\_\_\_。

(3) 以上国家中,属于欧洲三大著名旅游国的是\_\_\_\_\_,\_\_\_\_\_,\_\_\_\_\_。(填国家名称)

## 课后提升

知能升级 触类旁通

读下图,回答7~8题。



7. 利物浦的气候特征是 ( )

- A. 终年寒冷干燥
- B. 终年高温多雨
- C. 终年炎热干燥
- D. 终年温和湿润

8. 欧洲西部畜牧业发达的主要自然因素是 ( )

- A. 气候终年温和湿润
- B. 地形以平原为主
- C. 内河航运发达
- D. 欧洲人喜食乳产品

9. 把代表欧洲西部优越的自然条件的数码填在其对经济的影响的括号内。

①海岸线曲折,多半岛、岛屿、内海、海湾 ②地形以平原为主,气候温和湿润 ③河网稠密,水量充沛 ④矿产种类多,煤、铁储量大 ⑤风景名胜多,旅游资源丰富

内河航运发达( )

海洋运输发达( )

旅游业发达 ( )

资本主义经济发展最早的地区 ( )



## 课时练习 15 北极地区和南极地区

### 课 前 导 学

梳理基础 掌握技巧

### 一、自主学习

1. 北极地区指\_\_\_\_\_以北的区域,包括\_\_\_\_\_洋、\_\_\_\_\_大陆和\_\_\_\_\_大陆的北部及附近的岛屿。

南极地区包括\_\_\_\_\_大陆及其沿海岛屿、陆缘冰,还包括南\_\_\_\_\_洋、南大西洋和南\_\_\_\_\_洋的一部分。

2. 北冰洋:四大洋中纬度\_\_\_\_\_、面积\_\_\_\_\_、最寒冷、跨\_\_\_\_\_最广的大洋。浮冰面积占总面积的2/3以上。为\_\_\_\_\_、亚、\_\_\_\_\_三大洲所包围,战略地位突出,有很多重要国际航线经过北极上空。

3. 南极洲:被\_\_\_\_\_洋、\_\_\_\_\_洋、\_\_\_\_\_洋所包围,是纬度\_\_\_\_\_、跨经度最广、全球最冷、平均海拔最高、风力最大、风暴最多、降水最少、冰盖最大、固体\_\_\_\_\_资源最丰富的大洲。

4. 极地地区气候特点:\_\_\_\_\_。

5. 丰富的自然资源:石油、天然气、金属、非金属等矿产资源,特别是南极地区丰富的\_\_\_\_\_、铁等矿产资源;浮冰、冰盖等\_\_\_\_\_资源;\_\_\_\_\_

\_\_\_\_\_ (“冰海霸王”)、北极狐、\_\_\_\_\_ (南极洲的代表动物)、磷虾、海豹、海象等生物资源。

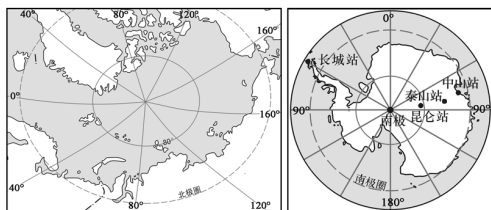
6. 北极地区的土著居民主要是\_\_\_\_\_人和拉普人。\_\_\_\_\_洲没有国家和定居人口。

7. 极地科研宝地:中国第一个北极科考站——\_\_\_\_\_站。

\_\_\_\_\_为南极“暖季”,是南极科考最佳时期;我国在南极建立的科学考察站有\_\_\_\_\_站、\_\_\_\_\_站、\_\_\_\_\_站和泰山站。

### 二、典例解析

读两极地区图,回答1~2题。



1. 两极地区共有的地理特征是

( )

- A. 以海洋为主
- B. 纬度较低
- C. 冰雪覆盖
- D. 动植物资源丰富

2. 下列关于两极地区的叙述,正确的是

( )

- A. 围绕北极地区的大洲是亚洲、





非洲和欧洲

B. 两极地区气候严寒的主要原因是冰雪覆盖

C. 围绕南极地区的大洋是太平洋、大西洋和印度洋

D. 长城站在中山站的西南方

**【解析】**南极地区以陆地为主,北极地区以海洋为主;南极地区和北极地区的纬度都高;南极地区和北极地区都有大面积的冰雪覆盖;南极地区和北极地区的植物都少,尤其是南极地区极少有植物。围绕北极地区的大洲是亚洲、北美洲和欧洲;两极地区气候严寒的主要原因是纬度高;围绕南极地区的大洋是太平洋、印度洋和大西洋;从图中经纬网可知,长城站在中山站的西北方向。

**【答案】**1. C 2. C

### 课堂导练

稳打稳扎 夯实基础

1. 世界上纬度最高、面积最小、最寒冷、跨经度最广的大洋是 ( )

- A. 太平洋      B. 大西洋  
C. 印度洋      D. 北冰洋

2. 离南极洲最近的大洲是 ( )

- A. 亚洲      B. 非洲  
C. 北美洲      D. 南美洲

3. “我是南极的主人,大家说我像身穿白衬衣、黑燕尾服的绅士。”猜猜我是谁 ( )

A. 北极熊

B. 企鹅

C. 袋鼠

D. 鸵鸟

4. 南极地区是一个自然资源的“大仓库”。下列有关南极地区的叙述,错误的是 ( )

A. 埋藏着丰富的煤、铁等矿产资源

B. 储存着大量固体淡水资源

C. 地球上动植物资源最丰富的地方

D. 存在原始的自然环境,是进行科学研究的天然实验室

5. 我国建立的第一个北极科学考察站是 ( )

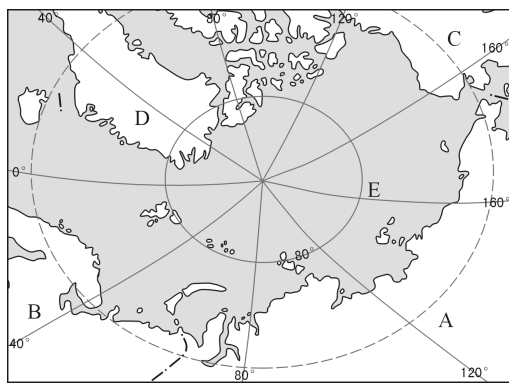
A. 黄河站

B. 中山站

C. 长城站

D. 昆仑站

6. 读某地区略图,回答问题。



(1) 此图反映的地区是 \_\_\_\_\_, 图中所有经线汇集的点叫 \_\_\_\_\_, 它的纬度是 \_\_\_\_\_. 图中用虚线所绘的纬线叫 \_\_\_\_\_。

(2) 图中 E 代表的大洋是 \_\_\_\_\_. A、B、C、D 代表环绕该大洋的一



些大洲和岛屿,请将它们的代号填在下面对应的括号内。

世界上海拔最低的大洲 ( )

世界上面积最大的大洲 ( )

美国所在的大洲 ( )

世界上面积最大的岛屿 ( )

(3)该地区的气候具有\_\_\_\_\_

\_\_\_\_\_的特点,但气温比南极地区\_\_\_\_\_ (填“低”或“高”);降水比南极地区\_\_\_\_\_ (填“多”或“少”);风速比南极地区\_\_\_\_\_ (填“快”或“慢”)。

### 课后提升

知能升级 触类旁通

7. 关于两极地区的叙述,正确的是 ( )

- A. 气候酷寒,多狂风
- B. 至今都没有常住人口
- C. 多冰雪,降水丰富
- D. 都以陆地为主

8. 小明列举了我国科考队在南极考察时可能遇见的危险,其中不可信的是 ( )

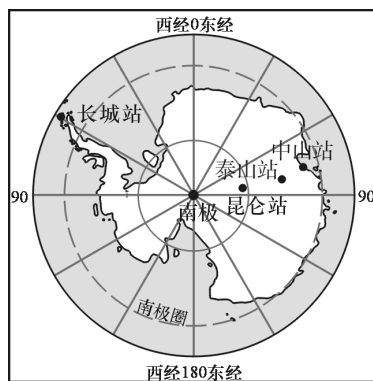
A. 暴风雪在冰原上不停地咆哮,使人晕眩迷途

B. 酷烈的寒冷,给队员留下了无情的冻伤印记

C. 随时都会遭受毒蛇、猛兽的袭击

D. 纵横交错的冰隙随时有可能吞没考察队员

读南极地区略图,回答9~10题。



9. 下列四地没有极昼、极夜现象的是 ( )

- A. 长城站
- B. 中山站
- C. 昆仑站
- D. 泰山站

10. 2018年2月7日,我国第五个南极科学考察站——罗斯海新站正式选址奠基。罗斯海新站选择在2月份建设是因为 ( )

- A. 此时积雪少,降水多
- B. 此时有极昼,较温暖
- C. 此时有极夜,冰山少
- D. 此时光照好,风力小




## 三、自我评价

### 一、选择题

1. 泰国的首都曼谷,繁荣的水上市场成为当地的一大特色,其形成的自然因素是 ( )

- A. 终年高温,河网密布
- B. 热带雨林气候,终年高温多雨
- C. 地形山河相间,纵列分布
- D. 人口密集,土地资源紧张

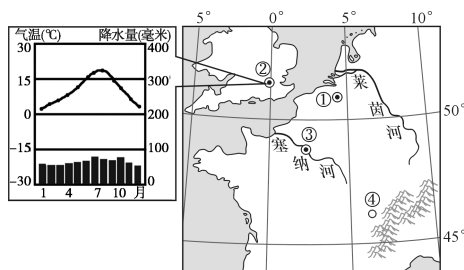
2. 上海世博会的印度馆设计灵感全部源自印度最古老、最气势恢宏的建筑。下列建筑中给设计人员带来灵感的是 ( )



3. 下列关于南亚地形区和河流的叙述,正确的是 ( )

- A. 北部是喜马拉雅山脉
- B. 恒河主要流经巴基斯坦,注入孟加拉湾
- C. 印度河主要流经印度,注入阿拉伯海
- D. 德干高原以水稻种植为主

家住怀化的小红同学在暑假期间跟随家人前往欧洲旅游。下图是欧洲的局部区域图和伦敦气候图,读图回答4~5题。



4. 关于小红在伦敦游玩期间天气情况的判断,正确的是 ( )

- A. 每天午后都会下一场暴雨
- B. 每天气温变化很大
- C. 天气晴朗,不会降雨
- D. 可能会有阴雨天气

5. 对图中①~④城市旅游特色的介绍,正确的是 ( )

- A. ①——午夜太阳,峡湾风光
- B. ②——地中海沿岸沙滩、阳光
- C. ③——“水城”风光,盛大音乐节
- D. ④——湖光山色、滑雪

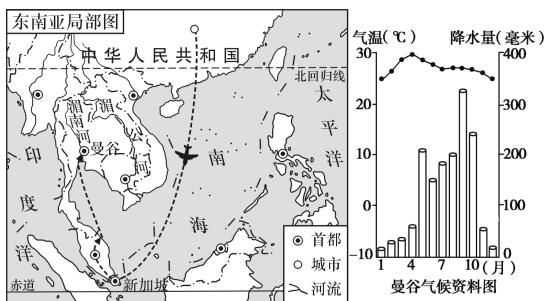
6. 科学家考察发现,南极大陆是一块 ( )

- A. 平原为主的大陆
- B. 森林覆盖的大陆
- C. 热带为主的大陆
- D. 冰雪覆盖的大陆

### 二、综合题

7. 读某考察团在“新马泰”的考察日记,结合地图,回答问题。





时间:2022年6月1日

明天就要去东南亚了,那里的气候有什么特点呢?先上网看看……

(1)考察团上网查阅的气候资料如上图所示,据图可知泰国曼谷的气候类型是\_\_\_\_\_气候。

时间:2022年6月2日

经过几个小时的飞行,来到了“花园城市”新加坡,这里港口十分繁忙……

(2)考察团所看到的新加坡港口,位于著名的两洋通道——\_\_\_\_\_海峡。

时间:2022年6月3日

我们来到了马来西亚,听说马来西亚的热带经济作物很多,是该国重要的出口物资……

(3)考察团在马来西亚观光,随处可见 ( )

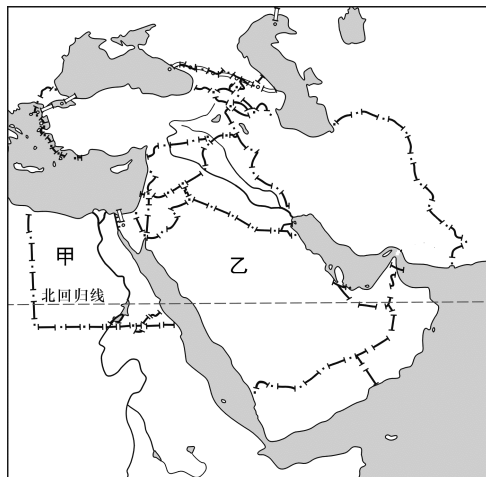
- A. 油棕、椰子树
- B. 柑橘、橄榄树
- C. 胡杨、枣椰树
- D. 樱花、苹果树

时间:2022年6月4日

今天我们从泰国湾上岸,在曼谷的水上市场购物,别有一番风味……

(4)考察团游览的曼谷水上市场位于\_\_\_\_\_河上。

8. 读世界某地区图,回答问题。



(1)甲地地中海沿岸为\_\_\_\_\_气候。

(2)乙地区最丰富的矿产资源是\_\_\_\_\_,向东经马六甲海峡主要输往发达国家\_\_\_\_\_;而\_\_\_\_\_资源严重缺乏,制约了当地生产、生活的发展。

(3)甲所在大洲和乙所在大洲的分界线是\_\_\_\_\_运河,它沟通了\_\_\_\_\_海和地中海,是印度洋进入大西洋的捷径。



互动评价

自我评价		家长评价
学习时间		
作业质量	对_____题 错_____题	
学习态度	<input type="checkbox"/> 好 <input type="checkbox"/> 良好 <input type="checkbox"/> 一般	
学习效果	<input type="checkbox"/> 好 <input type="checkbox"/> 良好 <input type="checkbox"/> 一般	
我的疑惑		



## 第八章 走近国家

### 一、课标导向

#### 学习目标

1. 在地图上指出某国家的地理位置、领土组成和首都。
2. 根据地图和其他资料,概括某国家自然环境的基本特点,联系某国家自然条件特点,简要分析该国因地制宜发展经济的实例。
3. 用实例说明高新技术产业对某国家经济发展的作用。
4. 举例说出某国家在自然资源开发和保护环境方面的经验、教训。
5. 根据地图归纳某国家交通运输线路分布的特点。
6. 根据地图和其他资料,说出某国家的种族、民族、人口、宗教、语言等人文地理要素的特点。
7. 用实例说明某国家自然环境对民俗的影响。
8. 举例说出某国家与其他国家在经济、贸易、文化等方面的联系。

#### 知识概览

1. 运用地图,掌握日本的地理位置和领土组成。读图分析日本地形特征及多火山、地震的原因,了解日本气候类型及特征。知道日本主要民族和东西融合的文化。掌握日本经济的特点和工业集中分布的地区,理解日本发展经济的有利条件和不利条件。了解日本农业、渔业和交通运输业,记住日本的主要城市。
2. 运用地图掌握埃及地理位置、领土组成、苏伊士运河、首都。了解埃及的民族构成和宗教信仰,地形、气候及其对农业生产的影响。掌握埃及的主要旅游资源、矿产与物产。分析尼罗河对埃及人口分布和经济的影响。
3. 运用地图了解俄罗斯的地理位置、地形特征、主要河流、资源概况和主要矿产地、主要城市及其分布。运用地图和资料,归纳俄罗斯的气候特征,分析其形成的原因。了解俄罗斯经济发展状况和特点,主要的工业区及工业部门,叙述开发西伯利亚的有利条件。了解俄罗斯交通运输业的概况和农业分布、主要农产品,分析气候对交通运输业和农业生产的影响。
4. 运用地图了解法国的轮廓特点、地理位置和首都。根据河流的流向,判断地势特征。根据地形和气候特征,归纳法国发展农业的有利条件。了解法国的工业、文化与旅游业的概况,掌握法国主要的旅游资源。
5. 运用地图了解美国的地理位置、领土组成、地形、河流和湖泊、气候等自然环境特征以及人口构成与分布、主要城市的特点与分布。分析美国的自然环境对农业生产的影响,了解农业专门化的特点。认识美国工业发展的条件及其工业部门的分布与资源的关系,了解美国高新技术产业在经济发展中的作用。
6. 认识巴西的地理位置、地形、气候、河流、物产以及工农业的发展。知道巴西经济发展的历程、人口分布的特点和热带雨林问题。
7. 了解澳大利亚的古老生物、自然条件,分析自然环境对澳大利亚工矿业、农牧业和人口分布的影响。

## 二、同步导练

### 课时练习 16 日本的自然环境特征

#### 课前导学

梳理基础 掌握技巧

#### 一、自主学习

1. 日本位于\_\_\_\_\_东部, \_\_\_\_\_西北部。领土由北海道、\_\_\_\_\_(最大)、四国、\_\_\_\_\_等岛屿组成,海岸线漫长,多岛屿、半岛、海湾和天然良港,首都是\_\_\_\_\_。

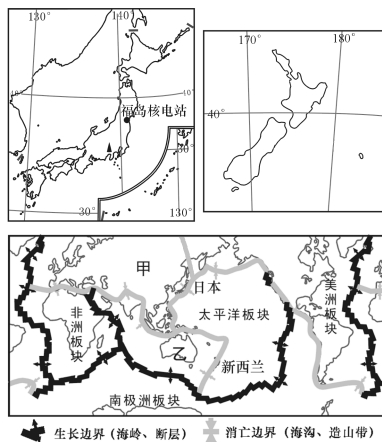
2. 地形:多山的岛国, \_\_\_\_\_约占全国面积的3/4以上,河流短小湍急;平原面积狭小(\_\_\_\_\_平原是最大的平原);多火山、地震(位于环太平洋火山地震带上)。

3. \_\_\_\_\_是日本最高的山峰,也是著名的活火山,海拔3 776米。日本的国花是\_\_\_\_\_。

4. 气候:南部为\_\_\_\_\_气候,北部是\_\_\_\_\_气候;四季分明,冬季较温暖,夏季较凉爽,绝大部分地区降水量在1 000毫米以上,气候\_\_\_\_\_特征显著;夏秋季多\_\_\_\_\_。

#### 二、典例解析

根据图文信息比较日本和新西兰,并回答问题。



北京时间2021年3月4日21时27分,新西兰北岛东岸远海海域发生里氏7.3级地震。东京时间2022年1月22日1时8分,日本九州地区发生里氏6.6级地震,该次地震造成多地墙壁倒塌、停水停电。

(1)据日本和新西兰两图可知,面积更大的国家是\_\_\_\_\_。

(2)下列有关日本和新西兰的地理位置的描述,错误的是( )

A. 领土大部分位于温带地区

B. 日本位于北半球,新西兰位于南半球





C. 大部分领土位于中纬度

D. 同处东半球

(3) 新西兰与日本都是多地震的国家, 它们都位于\_\_\_\_\_火山地震带上。日本位于甲\_\_\_\_\_板块与太平洋板块交界处, 新西兰位于乙\_\_\_\_\_板块与太平洋板块交界处。

(4) 日本发生强震时, 下列国家的居民能在白天第一时间收看电视新闻报道的是 ( )

A. 韩国                      B. 中国

C. 新西兰                    D. 美国

**【解析】**本题解题关键在于读图、析图, 联系所学知识, 从图中找出相关信息作答。据日本和新西兰两图可知, 日本跨经纬度多, 因此日本面积大些; 新西兰跨经纬度少, 因此新西兰面积小些。从图中纬度位置看, 日本主要位于北半球中纬度北温带地区, 新西兰主要位于南半球中纬度南温带地区; 从图中经度位置看, 日本主要位于  $130^{\circ}\text{E} \sim 145^{\circ}\text{E}$ , 属东半球, 新西兰主要位于  $166^{\circ}\text{E} \sim 178^{\circ}\text{E}$ , 属西半球。从板块示意图看, 两国都位于环太平洋火山地震带上, 图中甲是欧亚板块, 乙是印度洋板块。日本位于东九区, 新西兰、中国、韩国、美国分别位于东十二区、东八区、东九区、西五区, 日本比美国早约十四个小时, 而日本发生地震

的时间是 22 日 1 时 8 分, 此时美国是中午。

**【答案】**(1) 日本 (2) D (3) 环太平洋 欧亚 印度洋 (4) D

### 课堂导练

稳打稳扎 夯实基础

1. 张大爷的孙子在日本考察学习。一天, 张大爷在与王林同学闲聊时问道: “我孙子说他在日本最大的一个岛上, 这个岛叫什么名字啊?” 王林正确的回答应该是 ( )

A. 本州岛                      B. 四国岛

C. 北海道岛                    D. 九州岛

2. 下列关于日本的说法, 正确的是 ( )

A. 位于亚洲的东部、太平洋的西北部

B. 领土由四大岛屿组成, 首都东京位于九州岛

C. 气候温和湿润, 以温带海洋性气候为主

D. 平原占国土面积的  $\frac{3}{4}$ , 富士山是活火山

3. 日本的主要地形类型是 ( )

A. 山地和丘陵

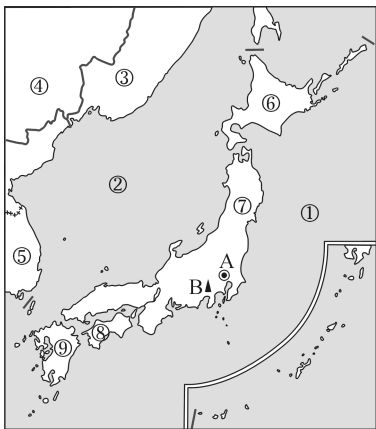
B. 平原和高原

C. 盆地和山地

D. 丘陵和平原



#### 4. 读日本略图,回答问题。



(1) 写出图中数码所代表的地理事物名称。

海洋: ① \_\_\_\_\_;

② \_\_\_\_\_。

邻国: ③ \_\_\_\_\_;

④ \_\_\_\_\_;

⑤ \_\_\_\_\_。

岛屿: ⑥ \_\_\_\_\_;

⑦ \_\_\_\_\_;

⑧ \_\_\_\_\_;

⑨ \_\_\_\_\_。

(2) 首都 A \_\_\_\_\_, 位于 \_\_\_\_\_ 平原。

(3) 最高山峰 B \_\_\_\_\_, 是日本的象征。

#### 课后提升

知能升级 触类旁通

5. 小明去日本旅游回来,下面是他对日本之行的描述,其中不真实的是 ( )

- A. 享受美味生鱼片
- B. 到热带雨林探险
- C. 游富士山,泡温泉
- D. 观赏樱花

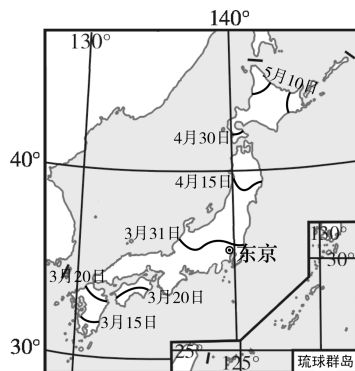
6. 日本与英国相比,下列说法正确的是 ( )

- A. 英国的国土比日本狭长
- B. 日本跨越的经度范围广
- C. 两者的海岸线都与经线平行
- D. 两者国土都远离大陆

7. 夏秋季节,日本经常遭受的气象灾害是 ( )

- A. 干旱
- B. 沙尘暴
- C. 寒潮
- D. 台风

读日本本土樱花开放时间的地区分布图,据此回答 8~9 题。



8. 日本本土樱花开放的时间从南向北推迟,其主要的影响因素是 ( )

- A. 气温
- B. 地形
- C. 降水
- D. 人类活动

9. 日本四个大岛中,纬度最高的是 ( )

- A. 北海道岛
- B. 本州岛
- C. 四国岛
- D. 九州岛







## 课时练习 17 日本的经济与人文

## 课 前 导 学

梳理基础 掌握技巧

## 一、自主学习

1. 日本是经济发达的资本主义国家,其发展工业的有利条件有:岛国多优良\_\_\_\_\_,海运便利;\_\_\_\_\_素质高;先进的技术和管理经验。日本把来自世界各地的\_\_\_\_\_加工成高品质的\_\_\_\_\_,再销往世界各地,形成\_\_\_\_\_—加工—\_\_\_\_\_型工业。贸易对象主要有\_\_\_\_\_、中国和\_\_\_\_\_。

2. 日本发展工业的不利条件是:煤、铁、石油等矿产资源贫乏;\_\_\_\_\_狭小。铁矿石主要从澳大利亚、巴西、印度等国进口,石油主要来自\_\_\_\_\_,煤来自中国、澳大利亚等国家。

3. 日本主要工业部门有\_\_\_\_\_,家用电器、\_\_\_\_\_,造船、钢铁、化工、纺织、精密机械等。

4. 日本工业主要集中分布在\_\_\_\_\_沿岸。这里多优良港湾,海运便利,便于进口工业\_\_\_\_\_,出口工业产品。主要工业城市有东京、\_\_\_\_\_,名古屋、\_\_\_\_\_,神户、北九州。

5. 日本耕地面积\_\_\_\_\_,农业劳

动力不足,但农业科技含量高,生产水平很高。

6. 日本渔业发达,附近有世界著名的\_\_\_\_\_渔场,常年捕鱼量居世界前列。

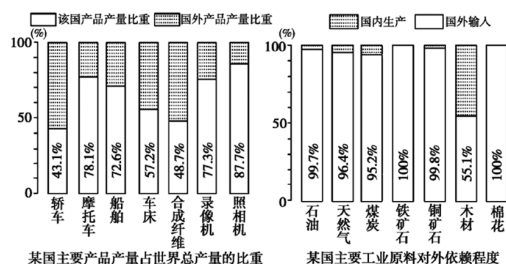
7. 日本交通运输业发达。国际货运以\_\_\_\_\_为主,国际客运以\_\_\_\_\_为主;国内货运以沿海航运和高速公路运输为主。高速铁路把国内四大工业区联结起来。日本实施了一系列的填海造陆工程。

8. 日本主要城市有首都\_\_\_\_\_,科学城\_\_\_\_\_,著名古都和文化旅游城市\_\_\_\_\_和奈良。

9. 日本文化的特点:东西方融合。

## 二、典例解析

读世界某著名经济大国有关经济数据图,据此回答1~2题。



1. 该国产品产量比重最大的工业产品和对外依赖程度最低的工业原料分别是 ( )

A. 照相机、铁矿石





B. 轿车、木材

C. 照相机、木材

D. 合成纤维、棉花

2. 根据图中信息,下列描述正确的是 ( )

A. 该国主要工业品以出口为主

B. 该国渔业资源丰富,但仍需大量进口

C. 该国国内矿产资源丰富,能自给自足

D. 该国人口稀少,国内对工业品的消费能力很弱

**【解析】**根据图中信息可知,该国产品产量比重最大的是照相机,占87.7%;对外依赖程度最低的工业原料是木材。该国矿产资源缺乏,需大量进口,而工业产品大量出口。

**【答案】**1. C 2. A

### 课堂导练

稳打稳扎 夯实基础

1. 日本主要的贸易对象不包括 ( )

A. 中国

B. 美国

C. 东南亚

D. 欧洲

2. 日本从波斯湾沿岸进口石油必经的海峡是 ( )

A. 霍尔木兹海峡、马六甲海峡

B. 台湾海峡、朝鲜海峡

C. 直布罗陀海峡、马六甲海峡

D. 德雷克海峡、英吉利海峡

3. 下列不属于日本主要农产品的是 ( )

A. 稻米

B. 水果

C. 椰子

D. 蔬菜

4. 日本有名的海洋渔场是 ( )

A. 北海渔场

B. 北海道渔场

C. 纽芬兰渔场

D. 秘鲁渔场

5. 日本的首都是 ( )

A. 大阪

B. 神户

C. 东京

D. 名古屋

6. 读日本略图,回答问题。



(1) 日本的领土由北海道、\_\_\_\_\_、四国、九州及其附近的岛屿组成。

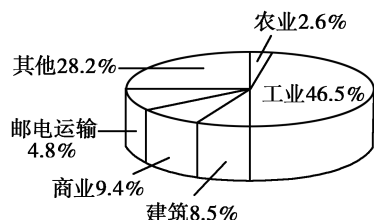
(2) 日本主要工业城市东京、横滨、名古屋分布在\_\_\_\_\_沿岸,其原因是\_\_\_\_\_。

(3) 日本在经济发展过程中,把眼光瞄准海外市场的原因是\_\_\_\_\_。



课后提升 知能升级 触类旁通

读日本经济结构图,回答7~8题。



7. 日本经济结构中,占比最大的是 ( )

- A. 工业                      B. 农业  
C. 商业                      D. 建筑业

8. 有关日本农业的叙述,错误的是 ( )

- A. 耕地面积狭小  
B. 农业生产水平很高  
C. 农业科技水平低  
D. 主要农产品有稻米、水果、蔬菜

近年来,日本加大海外投资,不断地把工厂迁移到国外。据此回答9~10题。

9. 对迁入国来说,其好处是 ( )

- ①解决资金短缺问题    ②引进先进的生产技术  
③降低运输成本,提高经济效益    ④提供丰富的资源

- A. ①②                      B. ①③  
C. ②③                      D. ②④

10. 在日本的外迁企业中,大多是 ( )

- ①耗用大量资源的企业    ②需用大量劳动力的企业  
③高新技术企业    ④污染较重的企业

- A. ①②③                      B. ①②④

- C. ①③④                      D. ②③④

11. 读日本的位置和主要工业中心分布示意图,回答问题。



(1) 日本位于我国的 \_\_\_\_\_ 侧,其海陆位置是 \_\_\_\_\_。

(2) 日本主要的工业产品有 \_\_\_\_\_ 等。日本工业分布的特点是 \_\_\_\_\_。

(3) 请分析日本多火山、地震的原因。

(4) 为增强中日国民友好交流,若请你设计促进日本观光旅游的宣传活  
动,写出2个你选择的日本特色旅游项目。



## 课时练习 18 埃及

### 课 前 导 学

梳理基础 掌握技巧

### 一、自主学习

1. 位置:埃及是地跨\_\_\_\_\_两大洲的非洲国家,绝大部分位于非洲\_\_\_\_\_部,位于苏伊士运河以东的\_\_\_\_\_半岛属于亚洲。埃及是\_\_\_\_\_之间的陆上交通要冲,\_\_\_\_\_洋和\_\_\_\_\_洋之间的航运要道,扼守世界上重要的\_\_\_\_\_运输线的咽喉,战略地位十分重要。

2. 苏伊士运河:联结\_\_\_\_\_海与\_\_\_\_\_海、沟通\_\_\_\_\_洋与\_\_\_\_\_洋,也是\_\_\_\_\_两洲的分界线。

3. 埃及以\_\_\_\_\_人为主,信仰\_\_\_\_\_教,首都\_\_\_\_\_是非洲最大的城市。

4. 地形:埃及主要位于\_\_\_\_\_沙漠,\_\_\_\_\_河下游河谷平原和入海处形成的三角洲,是埃及最富庶的地区。

5. 气候:埃及主要属\_\_\_\_\_气候,终年炎热,干燥少雨;地中海沿岸是地中海气候。

6. 尼罗河:“生命之河”,世界第一\_\_\_\_\_河,河水是重要灌溉水源,\_\_\_\_\_地区是重要农业区。

7. 旅游资源:埃及是世界古代文明发祥地。众多的文物古迹(如\_\_\_\_\_,狮身人面像、“木乃伊”、卢克索古城等)、尼罗河沿岸风光、\_\_\_\_\_水坝与纳赛尔水库、沙漠探险吸引着来自世界各地的大量游客。

8. 工农业:目前,埃及的工业规模在非洲仅次于\_\_\_\_\_,\_\_\_\_\_工业地位突出。农业生产集中在灌溉条件便利的\_\_\_\_\_谷地和三角洲地区,主要农产品有棉花、玉米、甘蔗等,尤以盛产优质\_\_\_\_\_而著称。

### 二、典例解析

佳佳的爸爸最近在国外考察,他从网上给佳佳发来了一组“骑骆驼,赏沙漠风光,参观金字塔、运河、清真寺,交穆斯林朋友”的照片,据此回答1~2题。

1. 佳佳的爸爸考察的国家可能是 ( )

- A. 美国                      B. 巴西  
C. 澳大利亚                D. 埃及

2. 下列有关该国的叙述,正确的是 ( )

- A. 大部分位于非洲的西北部  
B. 苏伊士运河是亚、欧两洲的分界线  
C. 是个沙漠国家,农业集中于尼



罗河谷地和三角洲地区

D. 玉米的产量和出口量居世界首位

**【解析】**从佳佳的爸爸从网上给佳佳发来的一组“骑骆驼,赏沙漠风光,参观金字塔、运河、清真寺,交穆斯林朋友”的照片可以判断,这个国家是埃及。埃及大部分位于非洲的东北部,境内的苏伊士运河是亚、非两洲的分界线。全国90%以上的土地为沙漠,有“沙漠王国”之称,尼罗河的河水是重要灌溉水源,河谷和三角洲地区是重要农业区,盛产长绒棉,其产量、出口量居世界首位。

**【答案】**1. D 2. C

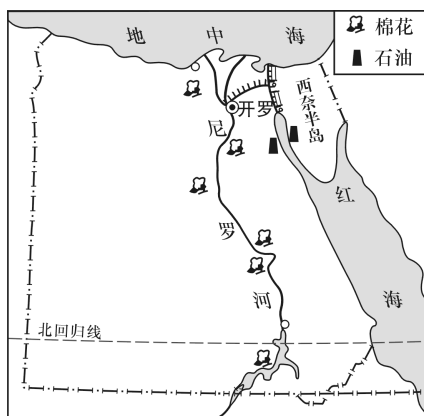
### 课堂导练 稳打稳扎 夯实基础

- 非洲最大的城市是 ( )  
A. 喀土穆 B. 开罗  
C. 麦加 D. 开普敦
- 世界上最长的河流是 ( )  
A. 长江 B. 密西西比河  
C. 亚马孙河 D. 尼罗河
- 不适合在埃及开展的旅游项目是 ( )  
A. 乘船游览尼罗河沿岸风光  
B. 骑骆驼进行沙漠旅行  
C. 享受地中海的明媚阳光  
D. 去茫茫的大草原上观看非洲象、斑马等野生动物

4. 下列物产中,埃及最著名的是 ( )

- A. 长绒棉 B. 天然橡胶  
C. 稻米 D. 油棕

5. 读埃及略图,回答问题。



(1) 埃及是一个地跨\_\_\_\_\_两洲的非洲国家,其东北部的西奈半岛属于\_\_\_\_\_洲。

(2) 沟通地中海与红海的是\_\_\_\_\_运河。

(3) 流经埃及的著名河流是\_\_\_\_\_,该河是世界第\_\_\_\_\_长河,它自南向北流入\_\_\_\_\_海。埃及的首都\_\_\_\_\_,位于该河沿岸。

(4) 埃及的农业主要集中在\_\_\_\_\_河谷地和河口三角洲地区。

(5) 列举一例埃及著名的文物古迹:\_\_\_\_\_。

### 课后提升 知能升级 触类旁通

6. 芳芳的爸爸从北非考察回来。为了考考芳芳,爸爸说了些有关埃及



的情况,其中正确的是 ( )

- A. 埃及大部分位于亚洲
- B. 尼罗河是亚、非两洲的分界线
- C. 金字塔是埃及文明的象征
- D. 居民主要为白色人种,主要信仰基督教

在一次国际中学生夏令营活动中,某学生这样介绍自己的家乡:“我的家乡 90% 以上的土地为沙漠,是一个名副其实的沙漠之国,尼罗河成为唯一的地表水源,河谷平原是我们最重要的农业区。”据此回答 7~9 题。

7. 该中学生最有可能来自 ( )

- A. 日本
- B. 俄罗斯
- C. 埃及
- D. 美国

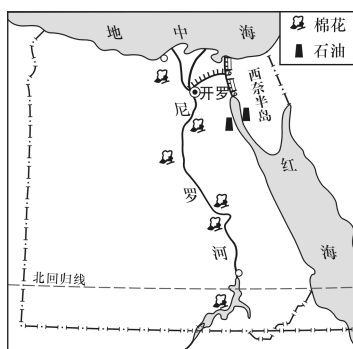
8. 该中学生的家乡最有可能在 ( )

- A. 撒哈拉沙漠
- B. 东非高原
- C. 刚果盆地
- D. 亚马孙平原

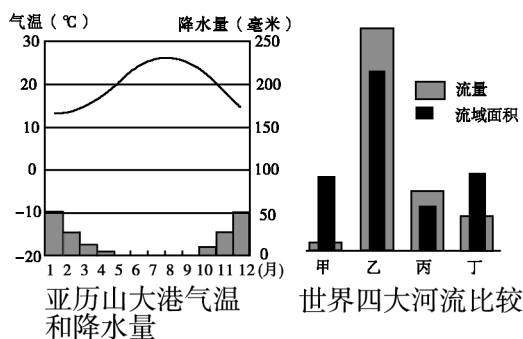
9. 该中学生家乡的气候类型是 ( )

- A. 温带海洋性气候
- B. 地中海气候
- C. 热带雨林气候
- D. 热带沙漠气候

10. 尼罗河谷地及尼罗河三角洲是埃及的“绿色走廊”。读下面三幅图,回答问题。



埃及示意图



(1) 尼罗河的流向是 \_\_\_\_\_

\_\_\_\_\_, 注入的海洋是 \_\_\_\_\_。

(2) 位于尼罗河入海口的亚历山大港, 其气候特点是: 夏季 \_\_\_\_\_, 冬季 \_\_\_\_\_。

(3) 分析埃及人口集中分布在尼罗河谷地以及尼罗河三角洲的主要原因。

(4) 在世界四大河流比较图中, 表示尼罗河的是 \_\_\_\_\_, 表示亚马孙河的是 \_\_\_\_\_。



## 课时练习 19 俄罗斯的地理位置、自然环境与自然资源

## 课 前 导 学

梳理基础 掌握技巧

## 一、自主学习

1. 位置:俄罗斯是地跨\_\_\_\_\_两洲的欧洲国家,北极圈从其北部穿过;东临\_\_\_\_\_洋,北临\_\_\_\_\_洋,西临\_\_\_\_\_海,西南临黑海和里海。俄罗斯是世界上\_\_\_\_\_最大,唯一地跨两个大洲和\_\_\_\_\_半球的国家。

2. 地形:以\_\_\_\_\_为主(平原约占全国面积的 70%),地势\_\_\_\_\_。大河和山脉成为大的地形区的重要界线:\_\_\_\_\_平原→乌拉尔山脉→\_\_\_\_\_平原→叶尼塞河→\_\_\_\_\_高原→勒拿河→东西伯利亚山地。

3. 气候:俄罗斯以\_\_\_\_\_气候为主(冬季漫长而寒冷,夏季短促而凉爽)。\_\_\_\_\_平原气候温和,人口和城市集中;西伯利亚地区冬季非常寒冷。俄罗斯北冰洋沿岸地区属极地气候,太平洋沿岸地区属于\_\_\_\_\_气候。

4. 河流:\_\_\_\_\_河——欧洲最长河、世界最长内流河,流经\_\_\_\_\_平原,注入\_\_\_\_\_海,被俄罗斯人誉为

“母亲河”;鄂毕河、叶尼塞河、勒拿河自南向北注入\_\_\_\_\_洋。

5. 资源丰富:俄罗斯淡水资源非常充足,河川径流总量居世界第\_\_\_\_\_位,\_\_\_\_\_湖是世界最深、淡水储量最大的湖泊;森林面积约占全国总面积的一半,拥有世界上最大的\_\_\_\_\_林区;矿产资源蕴藏量大,自给程度高,其中,\_\_\_\_\_,天然气、煤、铁、金、铜等的储量均居世界前列(\_\_\_\_\_,\_\_\_\_\_的铁、\_\_\_\_\_的煤、\_\_\_\_\_和第二巴库的石油,以及\_\_\_\_\_山脉蕴藏着的有色金属矿产)。

## 二、典例解析

俄罗斯的鄂毕河、叶尼塞河、勒拿河都比伏尔加河长,为什么它们的航运价值却不及伏尔加河?

【解析】从河流流经地区的地形、气候等方面分析即可得出结论。

【答案】伏尔加河位于欧洲,主要流经气候温和、降水较多的东欧平原,流量丰富、水流平稳,而鄂毕河、叶尼塞河、勒拿河位于气候寒冷的西伯利亚地区,冬季寒冷而漫长,河流封冻时间长,所以俄罗斯的内河航道主要以伏尔加河为主。






## 课堂导练

稳打稳扎 夯实基础

1. 世界上唯一地跨两个大洲和东、西两半球的国家是 ( )

- A. 土耳其      B. 俄罗斯  
C. 埃及      D. 美国

2. 根据沿  $60^{\circ}\text{N}$  线俄罗斯地形剖面图判断,图中的 P 处是 ( )



- A. 安第斯山脉  
B. 乌拉尔山脉  
C. 落基山脉  
D. 大高加索山脉

3. 俄罗斯大部分地区所属气候类型是 ( )

- A. 温带大陆性气候  
B. 温带季风气候  
C. 极地气候  
D. 温带海洋性气候

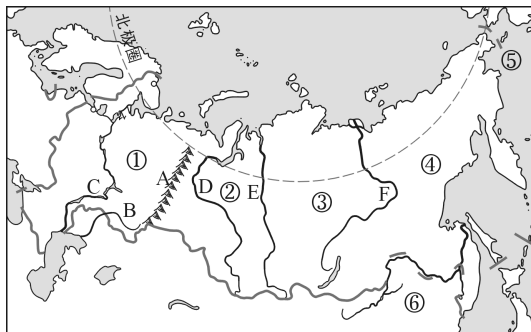
4. 世界上淡水储量最大的湖泊是 ( )

- A. 苏必利尔湖      B. 维多利亚湖  
C. 里海      D. 贝加尔湖

5. 俄罗斯森林资源丰富,拥有世界上面积最大的 ( )

- A. 热带雨林  
B. 热带季雨林  
C. 温带阔叶林  
D. 亚寒带针叶林

6. 读俄罗斯略图,回答问题。



(1) 俄罗斯东临\_\_\_\_\_洋,北临\_\_\_\_\_洋,西临\_\_\_\_\_海,西南临\_\_\_\_\_海和里海。

(2) 俄罗斯是一个地跨欧、亚两洲的\_\_\_\_\_ (大洲) 国家。欧、亚两洲的分界线 A 是\_\_\_\_\_山脉, B 是\_\_\_\_\_河。

(3) 俄罗斯的首都是\_\_\_\_\_。欧洲最长河流 C 是\_\_\_\_\_河, 流经①\_\_\_\_\_ (地形区); 河流 D 是\_\_\_\_\_河, 流经②\_\_\_\_\_ (地形区); ③是\_\_\_\_\_ (地形区), ②③两地形区以 E \_\_\_\_\_河为界; ④是\_\_\_\_\_ (地形区), ③④两地形区以 F \_\_\_\_\_河为界。

(4) ⑤是\_\_\_\_\_海峡, 它是俄罗斯与美国的分界线; ⑥是\_\_\_\_\_ (国家)。

(5) 从纬度位置看, 俄罗斯位于中、高纬度, 北极圈从其北部穿过, 大部分地区属于\_\_\_\_\_气候, 其气候特征是: 冬季\_\_\_\_\_, 夏季\_\_\_\_\_。

课后提升 知能升级 触类旁通

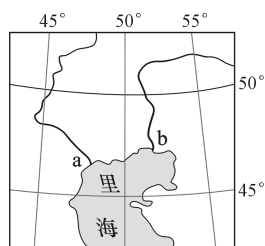
7. 洋洋在参加活动时遇到了一位高鼻梁、白皮肤、蓝眼睛的外国朋友,洋洋想了解他来自哪个国家,他回答说:“我的祖国是世界上面积最大的国家。”这位外国朋友来自 ( )

- A. 加拿大 B. 俄罗斯  
C. 日本 D. 美国

8. 某河流自南向北注入海洋,且是两大地形区的分界线。该河流是 ( )

- A. 鄂毕河 B. 叶尼塞河  
C. 伏尔加河 D. 顿河

9. 读下图,下列说法正确的是 ( )



- A. a 河水力资源丰富  
B. b 河航运发达  
C. a 河流域是所在国主要农业区  
D. b 河流经西西伯利亚平原

10. 小东的爸爸刚从俄罗斯出差回来,下列有关俄罗斯的说法错误的是 ( )

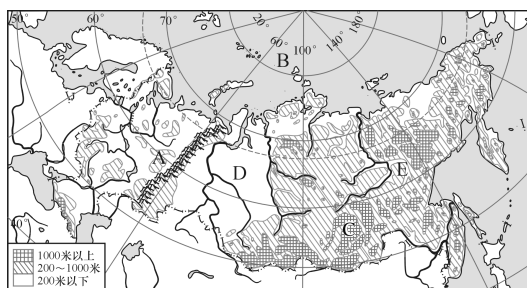
- A. 伏尔加河被俄罗斯人誉为“母亲河”

B. 地势东高西低,平原广阔

C. 领土跨亚、欧两洲,传统上属于欧洲国家

D. 注入北冰洋的三条大河具有很高的航运价值

11. 读俄罗斯地形图,回答问题。



(1) 俄罗斯地跨亚、欧两大洲,图中山脉 A 是亚洲和欧洲的分界线。大洋 B 是。

(2) 俄罗斯是地跨东、西两半球的国家。请根据图中信息说明判断理由。

(3) 图中 C、D 两地区相比,地势较高的是地。E 地的气候类型为气候。

(4) 根据图中信息可知,俄罗斯纬度位置的特点是



## 课时练习 20 俄罗斯的经济、人口与城市

### 课 前 导 学

梳理基础 掌握技巧

### 一、自主学习

1. 俄罗斯工业基础雄厚,部门齐全,能源、冶金、机械、化工、航空航天、核工业等工业部门地位突出。工业区主要分布在\_\_\_\_\_部分;工业中心有\_\_\_\_\_、圣彼得堡、乌拉尔、新西伯利亚。近年来,俄罗斯积极发展与人民生活密切相关的\_\_\_\_\_工业,工业结构得到改善。

2. 因气候原因,俄罗斯农业主要分布在\_\_\_\_\_平原的\_\_\_\_\_流域和\_\_\_\_\_流域。

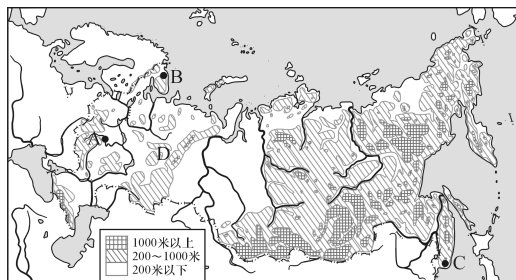
3. 俄罗斯\_\_\_\_\_、公路、航空、水运以及\_\_\_\_\_运输都很发达。交通运输以\_\_\_\_\_和\_\_\_\_\_为主。铁路以\_\_\_\_\_为中心呈放射状分布,在\_\_\_\_\_部分较为密集。\_\_\_\_\_大铁路被称为亚欧大陆桥。

4. 俄罗斯主要城市:首都\_\_\_\_\_是最大城市和综合性工业中心,政治、文化、交通中心;\_\_\_\_\_是第二大城市,\_\_\_\_\_沿岸重要港口和综合性工业中心;符拉迪沃斯托克(海参崴)是\_\_\_\_\_洋沿岸港口;\_\_\_\_\_

位于北冰洋沿岸,是世界上纬度最高的终年不冻港;\_\_\_\_\_为西伯利亚地区的中心城市。

### 二、典例解析

俄罗斯国土辽阔,自然资源丰富,读俄罗斯地形略图,回答问题。



(1) 写出图中字母所代表的地理事物名称。

最大城市:A. \_\_\_\_\_;

港口:B. \_\_\_\_\_,

C. \_\_\_\_\_;

山脉:D. \_\_\_\_\_。

(2) 据图可知,俄罗斯地势特征是\_\_\_\_\_。

(3) 俄罗斯人口、城市和经济主要集中在\_\_\_\_\_平原。

(4) 我国与俄罗斯之间贸易互补性强,目前我国每年需从俄罗斯进口1 500多万吨石油,输送石油适宜采用的运输方式是\_\_\_\_\_。

(5) 世界上大多数河流两岸及下



游平原都是重要的农业区,但俄罗斯亚洲部分的三大河流的下游地区几乎没有农田,原因是\_\_\_\_\_。

**【解析】**本题解题关键在于读图、析图,联系所学知识,从图中找出相关信息作答。莫斯科是俄罗斯的最大城市和首都,位于北冰洋沿岸的重要港口是摩尔曼斯克,太平洋沿岸的重要港口是符拉迪沃斯托克(海参崴),乌拉尔山脉既是亚、欧分界线,又是东欧平原和西西伯利亚平原的分界线。据图可知,俄罗斯从东部到西部海拔从1 000米以上到200~1 000米再到200米以下,因此地势特征是东高西低。因为东欧平原地形平坦,气候比较温和,俄罗斯的人口和城市主要集中在这一带。俄罗斯与我国是陆上邻国,运输石油采用管道运输。俄罗斯亚洲部分气候寒冷,河流下游多沼泽。

**【答案】**(1)莫斯科 摩尔曼斯克 符拉迪沃斯托克(海参崴) 乌拉尔山脉 (2)东高西低 (3)东欧 (4)管道运输 (5)气候寒冷,多沼泽

### 课堂导练

稳打稳扎 夯实基础

1. 俄罗斯的工业区主要分布在 ( )  
A. 河谷地区 B. 大洋沿岸  
C. 亚洲部分 D. 欧洲部分

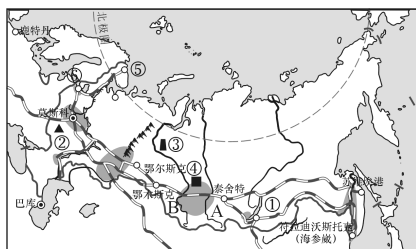
2. 俄罗斯是一个农牧业并重的国家,下列农作物不是俄罗斯主要农作物的是 ( )

- A. 水稻 B. 亚麻  
C. 甜菜 D. 马铃薯

3. 俄罗斯的政治、经济、文化、交通中心是 ( )

- A. 圣彼得堡  
B. 符拉迪沃斯托克  
C. 莫斯科  
D. 新西伯利亚

4. 读俄罗斯略图,回答问题。



(1)图中①代表的湖泊是\_\_\_\_\_。在世界淡水湖泊中,该湖泊的深度居世界第\_\_\_\_\_位。

(2)写出图中数字所代表的矿产地名。

- ②\_\_\_\_\_;  
③\_\_\_\_\_;  
④\_\_\_\_\_。

(3)俄罗斯波罗的海沿岸的重要海港⑥是\_\_\_\_\_;北冰洋沿岸的重要海港⑤是\_\_\_\_\_。

(4)铁路线A是\_\_\_\_\_大铁路;B是\_\_\_\_\_工业区。



课后提升

知能升级 触类旁通

5. 关于俄罗斯农业的叙述,正确的是 ( )

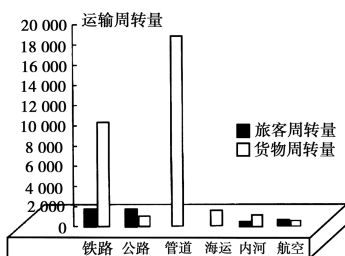
A. 农业区主要分布在伏尔加河流域和顿河流域

B. 地形平坦,气候温暖湿润,有利于农业发展

C. 农业发达,是欧洲重要的小麦出口国

D. 旱涝灾害是影响农业生产最大的自然灾害

6. 读下图,在俄罗斯交通运输业的部门结构中,货物运输的两种主要方式是 ( )



- A. 铁路和管道 B. 公路和航空  
C. 管道和海运 D. 内河和航空

在俄罗斯做生意的王经理说:“目前,我在俄罗斯最大的城市做生意。这里的生意真好做,国内发过来的商品,要不了多长时间,就销售一空。”据此回答7~8题。

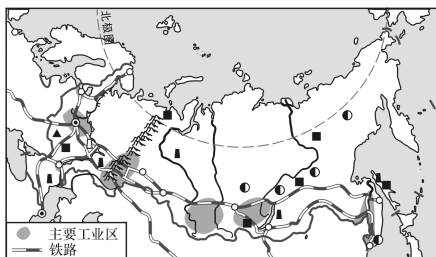
7. 王经理所在的城市是 ( )

- A. 圣彼得堡  
B. 摩尔曼斯克  
C. 莫斯科  
D. 符拉迪沃斯托克

8. 王经理销售的商品最有可能是 ( )

- A. 汽车、飞机  
B. 各种机械制品,如仪表、仪器等  
C. 手表、摩托车  
D. 日常生活用品,如服装、食品等

9. 读俄罗斯主要的工业区分布图,回答问题。



(1) 俄罗斯大部分地区冬季漫长寒冷,其主要原因是 \_\_\_\_\_。

(2) 俄罗斯亚洲部分南部多山,可是西伯利亚大铁路却沿南部山区修建,这是为什么?

(3) 俄罗斯工业以重工业为主,该国工业发展的基础与日本有什么不同?

(4) 近年来,俄罗斯与我国的经济贸易发展迅速,从俄方输入我国的能源主要是 \_\_\_\_\_。我国也有大量生活日用品输往俄方出售。请你解释该国大量输入生活日用品的原因。







## 课时练习 21 法 国

## 课前导学

梳理基础 掌握技巧

## 一、自主学习

1. 位置:法国位于\_\_\_\_\_西部,西临\_\_\_\_\_洋,南临\_\_\_\_\_海,本初子午线穿过其西部,大陆轮廓略呈六边形。

2. 法国地势\_\_\_\_\_,\_\_\_\_\_,地形以平原和丘陵为主。

3. 农业与气候:法国农业机械化水平高,小麦、玉米、葡萄和牛肉等产量均居欧洲西部各国之首,畜牧业和园艺业发达,是世界上重要的农产品出口国。法国大西洋沿岸属于\_\_\_\_\_气候,对农业生产有利,塞纳河流域,特别是巴黎盆地,是欧洲重要的小麦产区;地中海沿岸属于\_\_\_\_\_气候,是优质\_\_\_\_\_产地,\_\_\_\_\_产量居世界首位。

4. 工业大国:工业以汽车、\_\_\_\_\_制造、服装、化妆品、医药为支柱产业。在全国总发电量中,\_\_\_\_\_占比达70%以上。

5. 法国交通发达,\_\_\_\_\_是全国最大的海港城市。

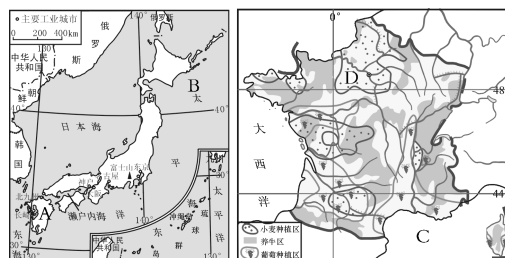
6. 文化与旅游:法国是世界旅游

大国,巴黎、马赛、\_\_\_\_\_山、科西嘉岛等旅游胜地闻名遐迩。巴黎跨\_\_\_\_\_河两岸,巴黎圣母院、罗浮宫、\_\_\_\_\_、凡尔赛宫和\_\_\_\_\_等堪称“世界建筑史上的艺术极品”。

## 二、典例解析

日本和法国都是经济发达的资本主义国家,读下列图表资料,回答问题。

材料一 日本主要城市分布图和法国农业分布图。



材料二 日本几座城市樱花开花时间顺序表。

城市	东京	筑波	仙台	秋田
樱花开花时间	3月31日	4月3日	4月10日	4月15日

(1) 填出两图中字母所代表的地理事物名称。

A. \_\_\_\_\_岛; B. \_\_\_\_\_渔场;

C. \_\_\_\_\_海; D. \_\_\_\_\_河。





(2)对比两国地理特征的差异,完成下表内容。

国家	主要气候类型	地形特征	粮食作物	主要工业区
日本	温带、亚热带季风气候		水稻	
法国		平原和丘陵为主		巴黎盆地

(3)日本东京、筑波、仙台和秋田四地,樱花开花早晚差异的原因是\_\_\_\_\_。

(4)法国和日本农业现代化程度都很高。法国是世界主要粮食出口国,而日本则为世界主要粮食进口国。日本大量进口粮食的原因是\_\_\_\_\_。

**【解析】**这是一道对比分析的读图题。两个国家既有共同点,又有差异。日本和法国都位于北半球中纬度。日本东临太平洋,位于大陆东部;法国西临大西洋,位于大陆西岸。日本属于海洋性特征显著的温带季风气候和亚热带季风气候,粮食作物以水稻为主;法国属温带海洋性气候和地中海气候,粮食作物以小麦为主。日本地形以山地、丘陵为主,平原面积狭小,耕地少,人口多,粮食消费量大,需大量进口粮食;而法国平原面积广阔,人口较少,粮食消费量少,是欧洲出口小麦最多的国家。日本矿产资源贫乏,需

大量进口原料和燃料,国内市场狭小,大量出口工业产品,因此,工业主要分布在海运便利的太平洋沿岸和濑户内海沿岸;法国煤、铁资源丰富,工业主要分布在巴黎盆地。由于纬度差异,日本樱花开花由南向北推迟。

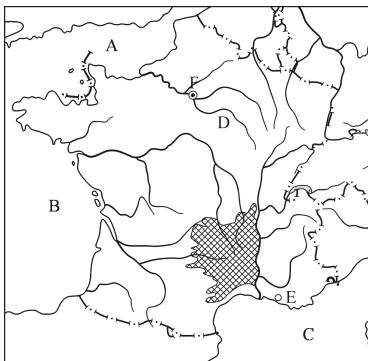
**【答案】**(1)九州 北海道 地中海纳 (2)日本:山地、丘陵为主 太平洋沿岸和濑户内海沿岸 法国:温带海洋性气候和地中海气候 小麦 (3)纬度差异(或者热量差异) (4)日本人口较多,消费量大;日本国土面积小,平原少,耕地较少

### 课堂导练

稳打稳扎 夯实基础

1. 法国西部濒临的海湾是( )  
A. 比斯开湾 B. 波斯湾  
C. 几内亚湾 D. 北部湾
2. 法国的首都是( )  
A. 里昂 B. 巴黎  
C. 马赛 D. 伦敦
3. 法国大西洋沿岸的主要气候类型是( )  
A. 温带海洋性气候  
B. 热带季风气候  
C. 地中海气候  
D. 温带季风气候
4. 核电占发电总量的比重最高的国家是( )  
A. 美国 B. 德国  
C. 日本 D. 法国

5. 读法国局部图,回答问题。



(1) 写出图中字母所代表的地理事物名称。

A. \_\_\_\_\_ 海峡; B. \_\_\_\_\_ 湾;  
C. \_\_\_\_\_ 海; D. \_\_\_\_\_ 河; E. \_\_\_\_\_  
(城市); F. \_\_\_\_\_ (城市)。

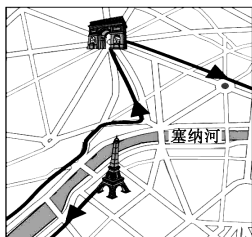
(2)从 D 河的流向,可以判断法国的地势特点是\_\_\_\_\_。

(3) 下列艺术景观中,位于巴黎的是 ( )

- A. 泰姬陵                      B. 东方明珠  
C. 凯旋门                      D. 悉尼歌剧院

**课后提升** 知能升级 触类旁通

右图为北京奥运圣火在境外某城市传递路线略图。读图回答6~7题。



6. 依图示信息可知,该城市是 ( )

- A. 英国的伦敦  
B. 法国的巴黎

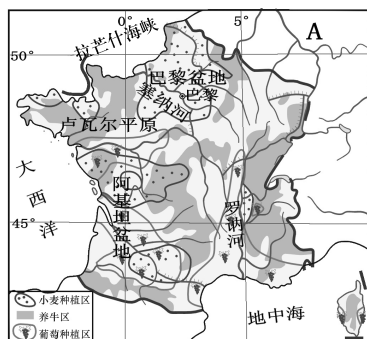
### C. 印度的新德里

### D. 埃及的开罗

7. 在该城市的居民的餐桌上,常见的食品是 ( )

- A. 米饭                      B. 牛排与奶酪  
C. 馒头                      D. 油条与豆浆

8. 读法国农业分布示意图,回答问题。



(1)图中邻国 A 是 \_\_\_\_\_。

(2) 法国的地形以\_\_\_\_\_和丘陵为主。法国的地势特点是\_\_\_\_\_。

(3)法国是欧洲重要的小麦产区,小麦种植区主要分布在\_\_\_\_\_盆地、卢瓦尔平原和阿基坦盆地等大西洋沿岸地区,这里属于\_\_\_\_\_气候。

(4) 法国的罗讷河沿岸和\_\_\_\_\_沿岸地区盛产优质葡萄,这里是典型的\_\_\_\_\_气候,非常有利于葡萄的生长。

## 课时练习 22 美国的地理位置、自然环境、人口与城市

### 课前导学

梳理基础 掌握技巧

### 一、自主学习

1. 美国是北美洲国家,位于\_\_\_\_\_半球、\_\_\_\_\_半球,东临大西洋、西临\_\_\_\_\_洋,\_\_\_\_\_州临北冰洋。

2. 美国领土由本土和\_\_\_\_\_州、\_\_\_\_\_州两个海外州组成。

3. 美国地形分为三部分:西部是高大的\_\_\_\_\_山系北段(由海岸山脉、\_\_\_\_\_山脉等组成),中部是大平原,东部是低矮的\_\_\_\_\_山脉。

4. 河流和湖泊:\_\_\_\_\_河自北向南流,注入墨西哥湾;五大湖为\_\_\_\_\_湖(世界最大淡水湖)、密歇根湖、休伦湖、伊利湖、安大略湖,为冰川湖泊。

5. 美国气候复杂多样,\_\_\_\_\_气候分布最广,\_\_\_\_\_对气候影响大。

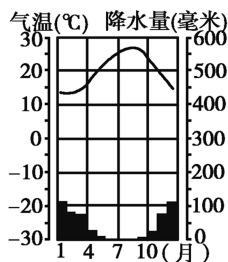
6. 美国人口为 3.28 亿(2020 年),大部分为移民及其后裔。美国人口分布不均,沿海平原和\_\_\_\_\_附近人口稠密。在\_\_\_\_\_和纽约等城市有华人聚居的“唐人街”。

7. 主要城市:首都是\_\_\_\_\_;

\_\_\_\_\_是美国人口最多的城市、最大港口和世界金融中心,曼哈顿区是纽约的象征;\_\_\_\_\_是太平洋沿岸最大港口和经济、文化中心,有“电影城”好莱坞和迪士尼乐园;\_\_\_\_\_是太平洋沿岸金融、贸易、教育和文化中心之一,位于该市东南部的“\_\_\_\_\_”是世界最大的高新技术产业区;芝加哥是美国的交通中心;\_\_\_\_\_是美国的汽车工业中心;匹兹堡是美国的钢铁中心。

### 二、典例解析

读美国某城市的气候资料图和美国本土地形图,回答问题。



(1) 填出美国本土地形图中字母所代表的地理事物名称。



山脉:A. \_\_\_\_\_ 山脉;

河流:B. \_\_\_\_\_ 河;

城市:C. \_\_\_\_\_;

国家:D. \_\_\_\_\_。

(2)归纳美国本土的地形特征:\_\_\_\_\_。

(3)美国墨西哥沿岸地区纬度较低,但是冬季经常出现寒冷天气。根据美国地形特征分析其原因是\_\_\_\_\_。

(4)与美国某城市的气候资料图中气候资料相符合的美国城市是

( )

A. 芝加哥

B. 纽约

C. 洛杉矶

D. 休斯敦

**【解析】**本题解题关键在于读图、析图,联系所学知识,从图中找出相关信息作答。美国本土西部是高大的山地,主体是A落基山脉,中部是广阔的平原,东部是低矮的山地。美国中部为纵贯南北的大平原,冬季从北冰洋南下的冷空气畅行无阻,到达墨西哥湾沿岸,使墨西哥湾沿岸冬季经常出现寒冷天气。从美国某城市的气候资料图可以看出该地为地中海气候,地中海气候在美国主要分布在西海岸的南部,典型城市如洛杉矶和圣弗朗西斯科。图中河流B为流经美国的最大河——密西西比河,城市C是底特律,D是加拿大。

**【答案】**(1)落基 密西西比 底

特律 加拿大 (2)西部是高大的山地,中部是广阔的平原,东部是低矮的山地 (3)东西两侧的山脉多为南北走向,中部为广阔的平原,冬季从北冰洋南下的冷空气畅行无阻,到达墨西哥湾沿岸 (4)C

### 课堂导练

稳打稳扎 夯实基础

1. 隔白令海峡与美国相望的国家是 ( )

A. 俄罗斯

B. 中国

C. 加拿大

D. 日本

2. 关于美国领土位置的说法,正确的是 ( )

A. 美国的领土都位于北美洲

B. 美国地跨热带、北温带和北寒带

C. 北回归线穿过美国本土

D. 美国的领土只临太平洋和大西洋

3. 世界上面积最大的淡水湖是 ( )

A. 贝加尔湖

B. 里海

C. 苏必利尔湖

D. 密歇根湖

4. 流经美国的著名河流是( )

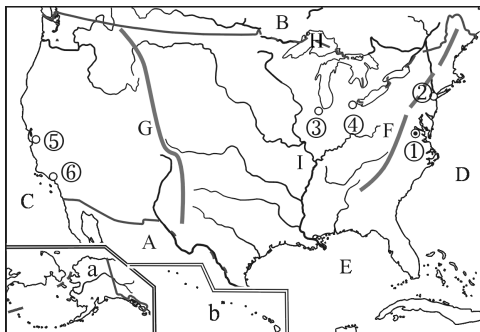
A. 长江

B. 亚马孙河

C. 尼罗河

D. 密西西比河

### 5. 读美国略图,回答问题。



(1)图中 a、b 分别表示美国的两个海外州,a 是\_\_\_\_\_州,b 是\_\_\_\_\_州。

(2)写出图中字母所代表的地理事物名称。

邻国:A. \_\_\_\_\_;B. \_\_\_\_\_。

大洋:C. \_\_\_\_\_;D. \_\_\_\_\_。

海湾:E. \_\_\_\_\_。

山脉:F. \_\_\_\_\_;

G. \_\_\_\_\_。

河流:I. \_\_\_\_\_。

湖泊:H. \_\_\_\_\_。

(3)将图中数字所代表的美国重要城市及其特点用直线连接起来。

- |   |     |                     |
|---|-----|---------------------|
| ① | 纽约  | 附近有世界最大的高新技术产业区     |
| ② | 底特律 | 美国的交通中心             |
| ③ | 华盛顿 | 美国人口最多的城市           |
| ④ | 旧金山 | 美国首都                |
| ⑤ | 洛杉矶 | 美国的汽车工业中心           |
| ⑥ | 芝加哥 | 美国太平洋沿岸最大港口和经济、文化中心 |

### 课后提升

知能升级 触类旁通

6. 下列关于“硅谷”的叙述,不正确的是 ( )

- A. 位于洛杉矶东南面
- B. 世界最大的高新技术产业区
- C. 是以斯坦福大学为依托发展起来的
- D. 美国最早兴起的高新技术产业中心

7. 读图,回答问题。



(1)有人说,美国是个地跨寒、温、热三带的国家。你同意这种说法吗?根据图中信息,说明你的判断理由。

(2)美国西部分布着一系列南北向的高大山脉,其中 A 是\_\_\_\_\_山脉。请运用板块构造学说的观点,解释这些山脉的形成原因。





## 课时练习 23 美国高度发达的经济

## 课前导学

梳理基础 掌握技巧

## 一、自主学习

1. 美国是经济高度发达的国家,其国内生产总值一直居世界\_\_\_\_\_。

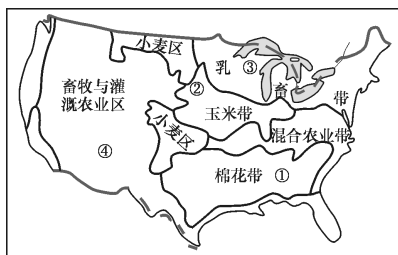
2. 美国是世界上最大的农业国,小麦、大豆、玉米、乳肉等产量居世界前列,是世界最大的\_\_\_\_\_出口国;但\_\_\_\_\_、可可、天然橡胶等\_\_\_\_\_农产品需要大量进口。美国种植业与畜牧业并重,农业\_\_\_\_\_、机械化和商品化程度相当高(学习时要掌握\_\_\_\_\_带、小麦区、\_\_\_\_\_带、棉花带、混合农业区、亚热带作物带等具体分布区)。美国曾多次发生“黑风暴”,目前,实行\_\_\_\_\_制和免耕法,以保护耕地和改善环境。

3. 美国发展工业的有利条件有:\_\_\_\_\_丰富(五大湖附近的铁、阿巴拉契亚山脉的煤),\_\_\_\_\_发达,科技力量雄厚。主要工业区有:发展最早,以钢铁、机械、汽车、化工等传统工业为主的\_\_\_\_\_地区;以新兴的石油、航空航天、电子等工业为主的\_\_\_\_\_地区;航空、电子、信息技术等新兴工业发展较快的西部地区。美国\_\_\_\_\_产业蓬勃发展。在美国经

济中,服务业占有很大比重,旅游业很发达,\_\_\_\_\_国家公园、\_\_\_\_\_大峡谷、夏威夷等是著名旅游胜地。美国是国际贸易额最大的国家,主要贸易伙伴有加拿大、\_\_\_\_\_、墨西哥、\_\_\_\_\_以及欧盟各国。

## 二、典例解析

读美国本土农业带分布示意图,回答问题。



(1) 从美国本土农业带分布示意图中可以看出 ( )

- A. 美国农产品中多为热带产品
- B. 具有地区生产专门化特点
- C. 乳畜带主要分布在西北部地区
- D. 是世界上土地面积最广的国家

(2) 牛仔裤是根据 19 世纪 50 年代美国西部牧民所穿的裤子改造而来,选料多为粗棉布,非常耐磨耐脏。能够为牛仔裤提供原料的农业带是\_\_\_\_\_带。

(3) 农业带④成为畜牧和灌溉农业区,其主要原因是 ( )





- A. 地形平坦,土地肥沃
- B. 靠近海洋,水热资源充足
- C. 人口稠密,靠近消费市场
- D. 地形崎岖,降水较少

(4)美国过去由于滥垦耕地曾多次发生“黑风暴”灾难,目前许多牧场保护耕地的措施是\_\_\_\_\_。

**【解析】**本题解题关键在于读图、析图,联系所学知识,从图中找出相关信息作答。从图中可以看出,美国农业具有生产区域专门化特点。牛仔褲的选料多为粗棉布,因此能够为牛仔褲提供原料的是棉花带。④地区为美国西部山地,地形崎岖,山脉阻挡,降水较少。目前许多牧场实行轮作制度和免耕法保护耕地。

**【答案】**(1)B (2)棉花 (3)D  
(4)实行轮作制度和免耕法

### 课堂导练 稳打稳扎 夯实基础

1. 第二次世界大战以后,国内生产总值一直居世界首位的国家是

- ( )
- A. 俄罗斯                  B. 中国
- C. 日本                    D. 美国

2. 美国需要大量进口的农产品是

- ( )
- A. 小麦、马铃薯、玉米
- B. 棉花、乳肉、稻米

- C. 咖啡、可可、天然橡胶
- D. 蔗糖、椰子、大豆

3. 美国的农业区域专门化程度很高。位于五大湖周围的农业带是

- ( )
- A. 小麦带                  B. 棉花带
- C. 乳畜带                  D. 玉米带

4. 在美国经济中,全国约有 3/4 的劳动力从事的产业是

- ( )
- A. 农业                    B. 工业
- C. 服务业                  D. 交通运输业

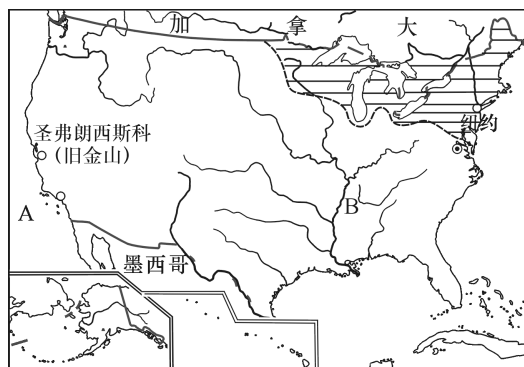
5. 世界上国际贸易额最大的国家是

- ( )
- A. 美国                    B. 日本
- C. 法国                    D. 德国

6. 美国新兴的石油、航空航天、电子等工业基地是

- ( )
- A. 东北部工业区
- B. 南部工业区
- C. 西部工业区
- D. 中部工业区

7. 读美国略图,回答问题。



(1) 写出图中字母代表的海洋与河流名称。

A. \_\_\_\_\_ 洋;

B. \_\_\_\_\_ 河。

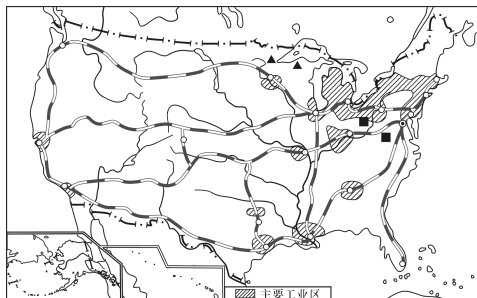
(2) 美国兴起最早、规模最大的高新技术产业中心是位于旧金山东南部的“\_\_\_\_\_”。目前,美国经济增长中至少有 27% 归功于高新技术产业,而两个传统的支柱产业——建筑业和汽车制造业仅占 18%。你认为这种经济增长模式对我国经济发展的借鉴意义是\_\_\_\_\_。

(3) 美国 NBA 中一些球队的取名与其所在城市的传统工农业有一定关系,比如位于五大湖附近的芝加哥公牛队。请你推测芝加哥所在地区的农业生产属于\_\_\_\_\_ (农业带),其农业带形成的主要原因是:①\_\_\_\_\_;  
②\_\_\_\_\_。

### 课后提升

知能升级 触类旁通

读美国工业分布图,回答 8~9 题。



8. 美国工业发展最早的地区是 ( )

A. 东北部地区 B. 南部地区

C. 西部地区 D. 中部地区

9. 关于美国工业由东北部向南部发展的原因的叙述,错误的是 ( )

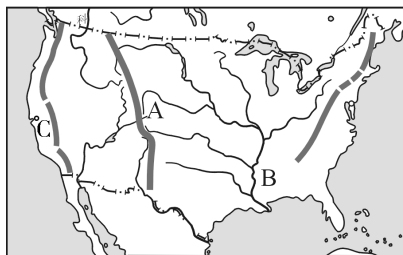
A. 地价相对低廉

B. 环境污染相对小

C. 劳动力相对充足

D. 煤、铁资源更丰富

10. 读图,回答问题。



(1) 山脉:A \_\_\_\_\_;

河流:B \_\_\_\_\_;

城市:C \_\_\_\_\_。

(2) 美国许多农产品生产和出口量居世界前列,但仍需从国外进口\_\_\_\_\_带农产品。

(3) 美国农业实现了\_\_\_\_\_化和生产机械化,其农业发展的成功经验对我国农业发展的借鉴意义是\_\_\_\_\_。



## 课时练习 24 巴 西

### 课 前 导 学

梳理基础 掌握技巧

### 一、自主学习

1. 巴西位于西半球, \_\_\_\_\_ 穿过其北部, 南回归线穿过其南部。巴西大部分位于 \_\_\_\_\_ 带, 东临 \_\_\_\_\_ 洋, 是南美洲面积最大、人口最多的国家。

2. 巴西地形以 \_\_\_\_\_ 为主, 地势南高北低。\_\_\_\_\_ 平原是世界最大的平原, 属 \_\_\_\_\_ 气候, 形成了世界上最大的热带雨林区(“地球之肺”), 有“世界动植物王国”之称。\_\_\_\_\_ 高原是世界最大的高原, 属 \_\_\_\_\_ 气候。

3. 亚马孙河发源于安第斯山脉, 自西向东注入 \_\_\_\_\_ 洋, 是世界上水量最大、\_\_\_\_\_ 最广的河流, 长度仅次于尼罗河, 居世界第 2 位, 支流多, 水流平缓, 航运便利, 河口号称“河海”。

4. 巴西是 \_\_\_\_\_ 洲经济实力最强的国家, 工业体系较完整。农业机械化程度较高, \_\_\_\_\_、蔗糖、可可、大豆、柑橘、牛肉等产量和出口量均居世界前列。\_\_\_\_\_ 矿石的产量和出口量居世界前列。水力资源丰富, 建有 \_\_\_\_\_ 水电站。

5. 巴西是南美洲人口最多的国家, \_\_\_\_\_ 部人口稠密, 人种复杂, 白色人种约占一半, \_\_\_\_\_ 人种占 1/3 强。巴西首都是 \_\_\_\_\_, 最大城市是圣保罗, 第二大城市和最大海港是里约热内卢。

### 二、典例解析

巴西是南美洲面积最大、人口最多、经济最发达的国家, 属于“金砖五国”之一, 据图回答 1~2 题。



1. 关于图中①②③④表示的地理事物, 叙述正确的是 ( )

- A. ①河是世界上流程最长的河流
- B. ②城市是巴西最大的城市
- C. ③水电站是目前世界上最大的水电站

D. ④高原地区属于热带雨林气候

2. 关于巴西经济和人口的叙述, 正确的是 ( )

- A. 已形成较完整的工业体系
- B. 世界上最大的小麦生产国和出口国
- C. 亚马孙平原地势低平, 人口稠密
- D. 人种复杂, 城市人口比重低



**【解析】**本题解题关键在于读图、析图,联系所学知识,从图中找出相关信息作答。①是世界上流量最大、流域面积最广的亚马孙河,世界最长河是埃及的尼罗河。②是巴西最大的城市圣保罗。③是伊泰普水电站,目前世界上最大的水电站是中国的三峡水电站。④是巴西高原,属于热带草原气候。巴西是南美洲经济实力最强的国家,工业体系较完整;其咖啡、可可、大豆等的产量和出口量居世界前列;亚马孙平原地势低平,有湿热的原始热带雨林,人口稀疏;巴西人种复杂,城市人口比重占85%以上。

**【答案】**1. B 2. A

### 课堂导练

稳打稳扎 夯实基础

- 南美洲面积最大、人口最多的国家是 ( )  
A. 美国 B. 秘鲁  
C. 阿根廷 D. 巴西
- 关于巴西的位置的说法,正确的是 ( )  
A. 全部位于热带  
B. 跨南、北半球  
C. 临大西洋和太平洋  
D. 跨南、北美洲
- 巴西的地形主要为 ( )  
A. 平原和丘陵 B. 平原和高原  
C. 高原和山地 D. 高原和盆地

- 有“世界动植物王国”之称的是 ( )  
A. 亚马孙平原 B. 巴西高原  
C. 青藏高原 D. 西欧平原

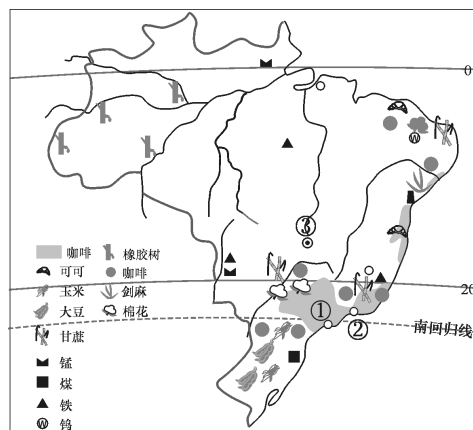
- 世界水量最大、流域面积最广的河流是 ( )  
A. 尼罗河 B. 长江  
C. 刚果河 D. 亚马孙河

- 南美洲经济实力最强的国家是 ( )  
A. 阿根廷 B. 秘鲁  
C. 委内瑞拉 D. 巴西

- 巴西人种复杂,其中占比最大的人种为 ( )  
A. 白色人种 B. 混血人种  
C. 黑色人种 D. 黄色人种

- 巴西最大的城市是 ( )  
A. 里约热内卢 B. 圣保罗  
C. 巴西利亚 D. 贝伦

- 读巴西略图,回答问题。





(1) 写出图中数码代表的地理事物名称。

城市: ① \_\_\_\_\_;

② \_\_\_\_\_;

③ \_\_\_\_\_。

(2) 1960 年, 巴西政府将首都从城市②迁到 \_\_\_\_\_ 高原中部的城市③, 巴西迁都的主要目的是 \_\_\_\_\_

\_\_\_\_\_。

(3) 巴西主要的农作物有 \_\_\_\_\_ (任写两种) 等, 巴西的农作物集中分布在 \_\_\_\_\_。

(4) 巴西最为丰富的矿产资源是 \_\_\_\_\_。

(5) 巴西的人口主要集中分布在 \_\_\_\_\_ 地区。

(6) 亚马孙河主要流经 \_\_\_\_\_ 平原, 自西向东注入 \_\_\_\_\_ 洋, 其水系跨 \_\_\_\_\_ (纬线) 南北, 属 \_\_\_\_\_ 气候, 因此, 该河成为世界上 \_\_\_\_\_ 最大、\_\_\_\_\_ 最广的河流。

(7) 试从纬度位置分析, 巴西气候的主要特点是 \_\_\_\_\_。

### 课后提升

知能升级 触类旁通

10. 下列关于亚马孙河的叙述, 正确的是 ( )

A. 水流平缓, 因此水能丰富  
B. 支流众多, 是世界流域面积最大的河流

C. 是世界水量最大、长度最长的河流

D. 发源于巴西高原, 注入大西洋

11. 全世界都希望巴西着重保护的自然资源是 ( )

A. 热带草原

B. 热带雨林

C. 野生动物

D. 亚马孙河水源

12. 小强学习完《走近国家》一章后, 对某个国家进行了这样的描述: 田野里, 咖啡园一望无际; 街头巷尾, 讲着葡萄牙语的小伙子们, 一边踢足球一边展示桑巴舞的舞姿。该国家位于 ( )

A. 亚洲

B. 欧洲

C. 南美洲

D. 北美洲

13. 下列属于美国和巴西发展工业的相同点的是 ( )

A. 都以发展高新技术产业为主

B. 都拥有丰富的自然资源

C. 本国各地区的发展势头都很平均

D. 钢铁、汽车、飞机、宇航等部门地位突出



## 课时练习 25 澳大利亚

## 课前导学

梳理基础 掌握技巧

## 一、自主学习

1. 澳大利亚位于南半球,是\_\_\_\_洲面积最大、世界上唯一独占\_\_\_\_的国家,东临\_\_\_\_洋,西临\_\_\_\_洋。领土包括\_\_\_\_大陆、塔斯马尼亚岛等岛屿。

2. 澳大利亚人口主要分布在\_\_\_\_沿海地区,是一个人口稀疏的国家。澳大利亚首都是\_\_\_\_,最大港口是\_\_\_\_(有著名建筑悉尼歌剧院),第二大城市是墨尔本。通用语言为英语。

3. 澳大利亚大陆地势\_\_\_\_,自西向东分为三大地形区:西部是宽广低缓的\_\_\_\_;中部是\_\_\_\_,有世界最大的内流盆地之一——“大自流盆地”;东部是山地,称为\_\_\_\_,澳大利亚最大河流墨累河发源于此。在澳大利亚大陆东北部海岸外侧有\_\_\_\_。

4. 澳大利亚以热带气候为主,\_\_\_\_气候、热带沙漠气候广布,气候类型成\_\_\_\_分布。人口和城市主要分布在东南部沿海地区,这里气候温暖湿润,属于亚热带湿润气候、

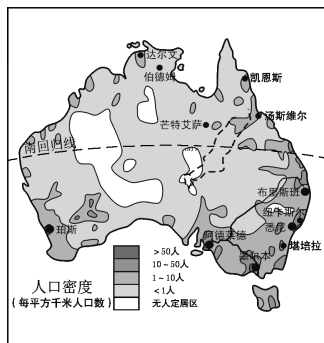
温带海洋性气候、地中海气候。

5. 澳大利亚因与世界其他大陆分离,受海洋阻隔,长期孤立,使动植物独立发展。再加上自然条件单一,生物进化十分缓慢,多古老动植物,如\_\_\_\_、鸭嘴兽、\_\_\_\_、鸸鹋和桉树、\_\_\_\_树等。

6. 发达的\_\_\_\_业和\_\_\_\_业。澳大利亚是南半球发达的资本主义国家,世界上重要的\_\_\_\_、羊毛、牛肉出口国之一,素有“\_\_\_\_”的国家之称。矿产资源十分丰富,\_\_\_\_(东部)、\_\_\_\_(西部)、铝土(北部)的开采和出口,在世界上占重要地位,有“\_\_\_\_”的国家之称。主要工业部门有钢铁、有色冶金、汽车、化工、食品、纺织等。

## 二、典例解析

读澳大利亚人口分布略图,据图回答1~3题。







1. 从地球上的五带分布来看,澳大利亚地处 ( )

- A. 热带和北温带
- B. 北温带和北寒带
- C. 南温带和南寒带
- D. 热带和南温带

2. 澳大利亚的人口主要分布在 ( )

- A. 大陆内部地区
- B. 东南部沿海地区
- C. 西部高原地区
- D. 大自流盆地

3. 决定澳大利亚人口分布的主要因素是 ( )

- A. 纬度因素    B. 海陆位置
- C. 气候因素    D. 矿产分布

**【解析】**本题解题关键在于读图,从图中找出相关信息作答。南回归线穿过澳大利亚中部,因此澳大利亚位于五带中的热带和南温带。从图中可知,澳大利亚东南部沿海地区的人口密度大,而其他地区人口稀疏。澳大利亚东南部沿海地区属亚热带湿润气候、温带海洋性气候和地中海气候,气候温和湿润,适宜人类居住。

**【答案】**1. D    2. B    3. C

### 课堂导练

稳打稳扎 夯实基础

1. 世界上唯一独占一块大陆的国家是 ( )

- A. 澳大利亚    B. 俄罗斯
- C. 美国    D. 中国

2. 澳大利亚的首都是 ( )

- A. 悉尼    B. 堪培拉
- C. 珀斯    D. 墨尔本

3. 澳大利亚大陆自西向东的三大地形分别是 ( )

- A. 山地、平原、高原
- B. 平原、山地、高原
- C. 高原、平原、山地
- D. 山地、高原、平原

4. 堪培拉的气候是 ( )

- A. 热带草原气候
- B. 地中海气候
- C. 亚热带季风气候
- D. 温带海洋性气候

5. 澳大利亚有憨实可爱的考拉、善于游泳的鸭嘴兽……澳大利亚至今保存着这些古老的动物,其主要原因是 ( )

- A. 地形以平原和高原为主
- B. 长期孤立在南半球的海洋上,自然环境单一
- C. 澳大利亚大盆地有丰富的地下水
- D. 气候炎热干燥,有大面积的沙漠和草地

6. 澳大利亚畜牧业发展的有利条件是 ( )

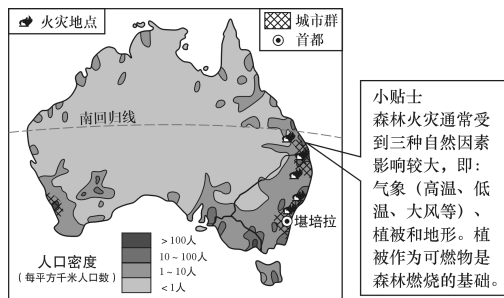
- ①降水丰富    ②地下水丰富



③少大型野生食肉动物 ④地形以平原、低矮的高原为主 ⑤城市和人口分布密集

- A. ②③④ B. ①③⑤  
C. ①②④ D. ①③④

读澳大利亚略图,回答7~8题。



7. 每年11月至2月,澳大利亚易发生森林火灾。下列与火灾发生相关的说法,正确的是 ( )

- A. 火灾地点主要位于地中海气候区
- B. 当地正值夏季,气温较高
- C. 火灾地点主要位于热带沙漠气候区
- D. 当地正值冬季,气候湿润

8. 澳大利亚因火灾受伤害的野生动物最可能是 ( )



A



B

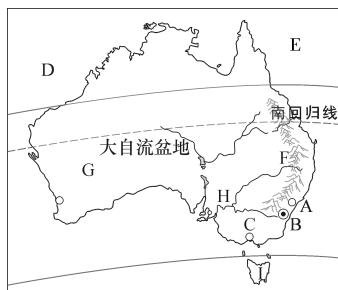


C



D

9. 读澳大利亚地形略图,回答问题。



(1) 澳大利亚的最大港口是 \_\_\_\_\_,在图中的代号是 \_\_\_\_\_; 第二大城市是 \_\_\_\_\_,在图中的代号是 \_\_\_\_\_。

(2) 根据图中信息判断,澳大利亚处于五带中的 \_\_\_\_\_ 带和 \_\_\_\_\_ 带。

(3) 写出图中字母代表的地理事物名称。

海洋:D. \_\_\_\_\_;

E. \_\_\_\_\_。

山脉:F. \_\_\_\_\_。

高原:G. \_\_\_\_\_。

河流:H. \_\_\_\_\_。

岛屿:I. \_\_\_\_\_。

课后提升 知能升级 触类旁通

10. 在学习“澳大利亚”这节课内容时,地理老师提出了一个问题:“谈谈你印象中的澳大利亚。”下面是同学们谈的内容,其中正确的是 ( )

- A. 澳大利亚位于北半球
- B. 澳大利亚是一个岛国,位于印度洋上

C. 澳大利亚靠近南极洲,气候寒冷

D. 澳大利亚地广人稀、经济发达

11. 有关澳大利亚的叙述,错误的是 ( )

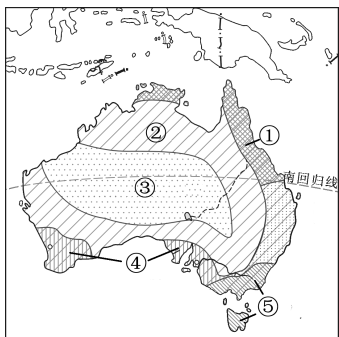
A. 有世界上最大的珊瑚礁群——大堡礁

B. 以白色人种为主,通用英语

C. 世界上唯一拥有一个大洲的国家

D. 地势低平、起伏和缓

读澳大利亚气候分布图,回答12~13题。



12. 澳大利亚的气候分布特点是 ( )

A. 以赤道为中心南北对称

B. 呈半环状

C. 世界上热带草原气候分布最广的国家

D. 季风气候典型

13. 图中⑤气候,在世界上分布最广的地区是 ( )

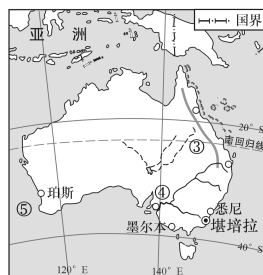
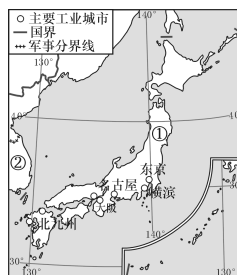
A. 亚洲东部

B. 美洲西部

C. 非洲北部

D. 欧洲西部

14. 读日本和澳大利亚略图,回答问题。



(1) 写出图中数字所代表的地理事物名称。

① \_\_\_\_\_ (岛屿);

② \_\_\_\_\_ (国家);

③ \_\_\_\_\_ (山脉);

④ \_\_\_\_\_ (河流);

⑤ \_\_\_\_\_ (大洋)。

(2) 澳大利亚最大的城市悉尼位于东京的 \_\_\_\_\_ 方向。

(3) 在矿产资源方面,两国的主要区别是 \_\_\_\_\_。

日本从澳大利亚进口的矿产主要有 \_\_\_\_\_、\_\_\_\_\_。

(4) 日本的人均耕地面积为 0.05 公顷,而澳大利亚人均耕地面积近 3 公顷。请从地形、人口和国土面积的角度分析日本人均耕地面积较少的原因。



### 三、自我评价

#### 一、选择题

1. 下列关于日本自然条件的叙述,错误的是 ( )

- A. 以平原为主
- B. 多火山、地震
- C. 矿产资源贫乏
- D. 森林覆盖率较高

2. 丽丽有个心愿:骑骆驼,赏沙漠风光,参观金字塔、运河、清真寺,交穆斯林朋友,丽丽的理想去处是 ( )

- A. 印度
- B. 埃及
- C. 美国
- D. 巴西

3. 在俄罗斯的商店里出售着中国生产的各种日用品,而在我国商店中却很少见到俄罗斯生产的日用品,这是因为俄罗斯 ( )

- A. 工业基础条件差,工业生产落后
- B. 以重工业、航空航天工业为主,民用工业相对落后
- C. 矿产资源缺乏,缺乏工业生产的原料、燃料
- D. 纬度高,气温低,不利于生产日用品

4. 法国拥有悠久的历史 and 灿烂的文化。下列文物古迹不是法国的是 ( )

- A. 泰姬陵
- B. 罗浮宫
- C. 凯旋门
- D. 埃菲尔铁塔

5. 下列关于巴西的叙述,正确的是 ( )

- A. 在亚马孙河上建有世界特大型水电站
- B. 东临太平洋,受海洋影响大
- C. 国土绝大部分位于热带
- D. 煤、铁、石油等自然资源缺乏

6. 下列有关国家的叙述,错误的是 ( )

- A. 日本是个岛国,气候的海洋性特征明显
- B. 埃及是个沙漠国家,农业集中于地中海沿岸地区
- C. 巴西是南美洲经济实力最强的国家
- D. 美国是一个农业大国,但咖啡、天然橡胶等热带农产品需要大量进口

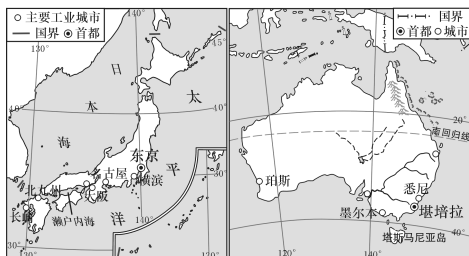
7. 日本是经济高度发达的资本主义国家,其工业主要集中分布在 ( )

- ①日本海沿岸 ②太平洋沿岸
- ③濑户内海沿岸 ④本州岛中部

- A. ①②
- B. ②③
- C. ①③
- D. ②④

## 二、综合题

8. 读日本(左图)和澳大利亚(右图)略图,回答问题。



(1) 两国共同濒临的大洋是\_\_\_\_\_。

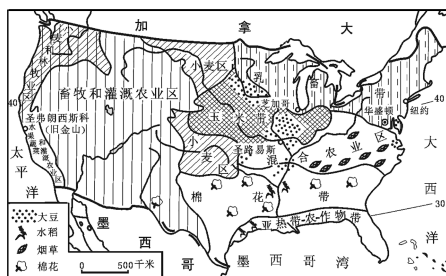
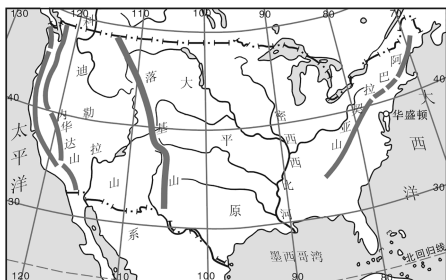
(2) 日本城市与人口主要分布于\_\_\_\_\_,其主要影响因素是\_\_\_\_\_。

\_\_\_\_\_ ; 澳大利亚城市 and 人口主要分布于\_\_\_\_\_,其主要影响因素是\_\_\_\_\_。

(3) 日本气候以海洋性特征显著的\_\_\_\_\_气候和\_\_\_\_\_气候为主,澳大利亚气候以\_\_\_\_\_气候和\_\_\_\_\_气候为主。

(4) 列举日本与澳大利亚的一种经济联系:\_\_\_\_\_。

9. 读美国本土地形、河流分布示意图(上图)、美国本土农业带分布示意图(下图),回答问题。



(1) 描述美国本土的海陆位置:\_\_\_\_\_。

(2) 从美国农业带分布图中可以看出\_\_\_\_\_ ( )

- A. 美国农产品以热带产品为主
- B. 具有生产区域专门化特点
- C. 小麦区主要分布在西北部地区
- D. 是世界水土资源配合最好的国家

(3) 据图分析美国棉花带发展棉花生产有利的自然条件:\_\_\_\_\_。

\_\_\_\_\_。

## 互动评价

	自我评价	家长评价
学习时间		
作业质量	对_____题 错_____题	
学习态度	<input type="checkbox"/> 好 <input type="checkbox"/> 良好 <input type="checkbox"/> 一般	
学习效果	<input type="checkbox"/> 好 <input type="checkbox"/> 良好 <input type="checkbox"/> 一般	
我的疑惑		

